	<p align="center">Pruebas de Acceso a enseñanzas universitarias oficiales de grado Castilla y León</p>	<p align="center">MATEMÁTICAS APLICADAS A LAS CIENCIAS SOCIALES</p>	<p align="center">EJERCICIO Nº Páginas: 2 Tablas</p>
---	---	--	--

OPTATIVIDAD: EL ALUMNO DEBERÁ ESCOGER UNA DE LAS DOS OPCIONES Y DESARROLLAR LAS PREGUNTAS DE LA MISMA.

CRITERIOS GENERALES DE EVALUACIÓN:

Cada pregunta de la 1 a la 3 se puntuará sobre un máximo de 3 puntos. La pregunta 4 se puntuará sobre un máximo de 1 punto. La calificación final se obtiene sumando las puntuaciones de las cuatro preguntas. Deben figurar explícitamente las operaciones no triviales, de modo que puedan reconstruirse la argumentación lógica y los cálculos efectuados por el alumno.

Opción A

1A- Sean las matrices: $A = \begin{pmatrix} 2 & -3 & 1 \\ 0 & 1 & 2 \\ 5 & 3 & -1 \end{pmatrix}$ y $B = \begin{pmatrix} 2 & 0 & 1 \\ 3 & -3 & 2 \\ -1 & -2 & -3 \end{pmatrix}$.

Halla una matriz X tal que $2X - BA = AB$.

2A- La cantidad C de tomates (en kg) que se obtienen de una planta de tomate depende de la cantidad de abono x (en gramos) que se añade en el proceso de siembra según la función $C(x) = 10^{-5}(x + 20)^2(a - x)$, donde $x \in [0, 200]$ y a es un parámetro.

- a) Determina el valor de a sabiendo que con 130 gramos de abono se recogen 20.25 kg de tomate.
- b) Supuesto $a = 220$, calcula la cantidad de abono que debe echar un agricultor en cada planta para recoger la máxima cantidad de tomates. ¿Cuál es esa máxima cantidad de tomates?

3A- Consideremos dos dados, uno normal con las caras numeradas del 1 al 6 y otro trucado, con 4 caras con el número 5 y 2 caras con el número 6. Se elige al azar uno de los dados y se realizan dos tiradas con el dado elegido.

- a) Calcula la probabilidad de sacar 5 en la primera tirada y 6 en la segunda.
- b) Si el resultado de la primera tirada es 5 y el resultado de la segunda tirada es 6, ¿cuál es la probabilidad de haber elegido el dado trucado?

4A- En el juego del tiro al plato Antonio acierta el plato el 55% de las veces que dispara. En cambio María falla en el 40% de las tiradas. Si disparan los dos a la vez, ¿cuál es la probabilidad de que ambos acierten?

Opción B

1B- El dueño de un supermercado ha comprado embutido, bebidas y conservas, por un importe total de 4600 €. El valor de las conservas es el mismo que el de las bebidas y embutidos juntos. Si vende todos estos productos, añadiendo un beneficio del 10% en el embutido, el 20% en las bebidas y el 15% en las conservas, obtendrá un importe total de 5305 €. Calcula lo que pagó por cada uno de ellos.

2B- Dada la curva de ecuación $f(x) = \frac{1}{4-x^2}$, para $x \in (-2, 2)$.

- Halla los máximos y mínimos de la curva en el intervalo considerado y estudia su crecimiento y decrecimiento.
- Representa gráficamente la curva en dicho intervalo.
- Calcula la recta tangente a la curva $f(x)$ en el punto $x = 1$.

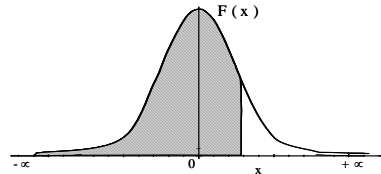
3B- Una industria conservera envasa latas de sardinas, cuyo peso sigue una distribución normal con media μ y desviación típica $\sigma = 1$.

- Suponiendo que $\mu = 90$ gramos y que cada lata debe pesar entre 88 y 92 gramos para salir al mercado, ¿qué proporción de latas salen efectivamente al mercado?
- Suponiendo que se desconoce μ , se toma una muestra de 25 latas para su estimación, obteniéndose un media muestral de 90.25 gramos. Determina un intervalo de confianza al 95% para μ .

4B- Una caja tiene 12 bombones, de los cuales 2 son de chocolate blanco y el resto de chocolate negro. Si se cogen 4 bombones al azar y sin reemplazamiento, calcula la probabilidad de que los 4 sean de chocolate negro.

Distribución Normal


$$F(x) = \frac{1}{\sqrt{2\pi}} \int_{-\infty}^x e^{-\frac{1}{2}t^2} dt$$



	0,00	0,01	0,02	0,03	0,04	0,05	0,06	0,07	0,08	0,09
0,0	0,5000	0,5040	0,5080	0,5120	0,5160	0,5199	0,5239	0,5279	0,5319	0,5359
0,1	0,5398	0,5438	0,5478	0,5517	0,5557	0,5596	0,5636	0,5675	0,5714	0,5753
0,2	0,5793	0,5832	0,5871	0,5910	0,5948	0,5987	0,6026	0,6064	0,6103	0,6141
0,3	0,6179	0,6217	0,6255	0,6293	0,6331	0,6368	0,6406	0,6443	0,6480	0,6517
0,4	0,6554	0,6591	0,6628	0,6664	0,6700	0,6736	0,6772	0,6808	0,6844	0,6879
0,5	0,6915	0,6950	0,6985	0,7019	0,7054	0,7088	0,7123	0,7157	0,7190	0,7224
0,6	0,7257	0,7291	0,7324	0,7357	0,7389	0,7422	0,7454	0,7486	0,7517	0,7549
0,7	0,7580	0,7611	0,7642	0,7673	0,7704	0,7734	0,7764	0,7794	0,7823	0,7852
0,8	0,7881	0,7910	0,7939	0,7967	0,7995	0,8023	0,8051	0,8078	0,8106	0,8133
0,9	0,8159	0,8186	0,8212	0,8238	0,8264	0,8289	0,8315	0,8340	0,8365	0,8389
1,0	0,8413	0,8438	0,8461	0,8485	0,8508	0,8531	0,8554	0,8577	0,8599	0,8621
1,1	0,8643	0,8665	0,8686	0,8708	0,8729	0,8749	0,8770	0,8790	0,8810	0,8830
1,2	0,8849	0,8869	0,8888	0,8907	0,8925	0,8944	0,8962	0,8980	0,8997	0,9014
1,3	0,9032	0,9049	0,9066	0,9082	0,9099	0,9115	0,9131	0,9147	0,9162	0,9177
1,4	0,9192	0,9207	0,9222	0,9236	0,9251	0,9265	0,9279	0,9292	0,9306	0,9318
1,5	0,9332	0,9345	0,9357	0,9370	0,9382	0,9394	0,9406	0,9418	0,9429	0,9441
1,6	0,9452	0,9463	0,9474	0,9484	0,9495	0,9505	0,9515	0,9525	0,9535	0,9545
1,7	0,9554	0,9564	0,9573	0,9582	0,9591	0,9599	0,9608	0,9616	0,9625	0,9633
1,8	0,9641	0,9649	0,9656	0,9664	0,9671	0,9678	0,9686	0,9693	0,9699	0,9706
1,9	0,9713	0,9719	0,9726	0,9732	0,9738	0,9744	0,9750	0,9756	0,9761	0,9767
2,0	0,9772	0,9778	0,9783	0,9788	0,9793	0,9798	0,9803	0,9808	0,9812	0,9817
2,1	0,9821	0,9826	0,9830	0,9834	0,9838	0,9842	0,9846	0,9850	0,9854	0,9857
2,2	0,9861	0,9864	0,9868	0,9871	0,9875	0,9878	0,9881	0,9884	0,9887	0,9890
2,3	0,9893	0,9896	0,9898	0,9901	0,9904	0,9906	0,9909	0,9911	0,9913	0,9916
2,4	0,9918	0,9920	0,9922	0,9925	0,9927	0,9929	0,9931	0,9932	0,9934	0,9936
2,5	0,9938	0,9940	0,9941	0,9943	0,9945	0,9946	0,9948	0,9949	0,9951	0,9952
2,6	0,9953	0,9955	0,9956	0,9957	0,9959	0,9960	0,9961	0,9962	0,9963	0,9964
2,7	0,9965	0,9966	0,9967	0,9968	0,9969	0,9970	0,9971	0,9972	0,9973	0,9974
2,8	0,9974	0,9975	0,9976	0,9977	0,9977	0,9978	0,9979	0,9979	0,9980	0,9981
2,9	0,9981	0,9982	0,9982	0,9983	0,9984	0,9984	0,9985	0,9985	0,9986	0,9986
3,0	0,9987	0,9987	0,9987	0,9988	0,9988	0,9989	0,9989	0,9989	0,9990	0,9990
3,1	0,9990	0,9991	0,9991	0,9991	0,9992	0,9992	0,9992	0,9992	0,9993	0,9993
3,2	0,9993	0,9993	0,9994	0,9994	0,9994	0,9994	0,9994	0,9995	0,9995	0,9995
3,3	0,9995	0,9995	0,9995	0,9996	0,9996	0,9996	0,9996	0,9996	0,9996	0,9997
3,4	0,9997	0,9997	0,9997	0,9997	0,9997	0,9997	0,9997	0,9997	0,9997	0,9998
3,5	0,9997	0,9997	0,9998	0,9998	0,9998	0,9998	0,9998	0,9998	0,9998	0,9998
3,6	0,9998	0,9998	0,9999	0,9999	0,9999	0,9999	0,9999	0,9999	0,9999	0,9999

Distribución Binomial $p(X=r) = \binom{n}{r} p^r (1-p)^{n-r}$

n	p	0,01	0,05	0,10	0,15	0,20	0,25	0,30	1/3	0,35	0,40	0,45	0,49	0,50
2	0	0,9801	0,9025	0,8100	0,7225	0,6400	0,5625	0,4900	0,4444	0,4225	0,3600	0,3025	0,2601	0,2500
1	1	0,0198	0,0975	0,1900	0,2775	0,3600	0,4375	0,5100	0,5556	0,5775	0,6400	0,6975	0,7399	0,7500
2	2	0,0001	0,0025	0,0100	0,0225	0,0400	0,0625	0,0900	0,1111	0,1225	0,1600	0,2025	0,2401	0,2500
3	0	0,9703	0,8574	0,7290	0,6141	0,5120	0,4219	0,3430	0,2963	0,2746	0,2160	0,1664	0,1327	0,1250
1	1	0,0294	0,1354	0,2430	0,3251	0,3840	0,4219	0,4410	0,4444	0,4436	0,4320	0,4084	0,3823	0,3750
2	2	0,0003	0,0071	0,0270	0,0574	0,0960	0,1406	0,1890	0,2222	0,2389	0,2880	0,3341	0,3674	0,3750
3	3	0,0000	0,0001	0,0010	0,0034	0,0080	0,0156	0,0270	0,0370	0,0429	0,0640	0,0911	0,1176	0,1250
4	0	0,9606	0,8145	0,6561	0,5220	0,4096	0,3164	0,2401	0,1975	0,1785	0,1296	0,0915	0,0677	0,0625
1	1	0,0388	0,1715	0,2916	0,3685	0,4096	0,4219	0,4116	0,3951	0,3845	0,3456	0,2995	0,2600	0,2500
2	2	0,0006	0,0135	0,0486	0,0975	0,1536	0,2109	0,2646	0,2963	0,3105	0,3456	0,3675	0,3747	0,3750
3	3	0,0000	0,0005	0,0036	0,0115	0,0256	0,0469	0,0756	0,0988	0,1115	0,1536	0,2005	0,2400	0,2500
4	4	0,0000	0,0000	0,0001	0,0005	0,0016	0,0039	0,0081	0,0123	0,0150	0,0256	0,0410	0,0576	0,0625
5	0	0,9510	0,7738	0,5905	0,4437	0,3277	0,2373	0,1681	0,1317	0,1160	0,0778	0,0503	0,0345	0,0313
1	1	0,0480	0,2036	0,3281	0,3915	0,4096	0,3955	0,3602	0,3292	0,3124	0,2592	0,2059	0,1657	0,1563
2	2	0,0010	0,0214	0,0729	0,1382	0,2048	0,2637	0,3087	0,3292	0,3364	0,3456	0,3369	0,3185	0,3125
3	3	0,0000	0,0011	0,0081	0,0244	0,0512	0,0879	0,1323	0,1646	0,1811	0,2304	0,2757	0,3060	0,3125
4	4	0,0000	0,0000	0,0005	0,0022	0,0064	0,0146	0,0284	0,0412	0,0488	0,0768	0,1128	0,1470	0,1563
5	5	0,0000	0,0000	0,0000	0,0001	0,0003	0,0010	0,0024	0,0041	0,0053	0,0102	0,0185	0,0282	0,0313
6	0	0,9415	0,7351	0,5314	0,3771	0,2621	0,1780	0,1176	0,0878	0,0754	0,0467	0,0277	0,0176	0,0156
1	1	0,0571	0,2321	0,3543	0,3993	0,3932	0,3560	0,3025	0,2634	0,2437	0,1866	0,1359	0,1014	0,0938
2	2	0,0014	0,0305	0,0984	0,1762	0,2458	0,2966	0,3241	0,3292	0,3280	0,3110	0,2780	0,2436	0,2344
3	3	0,0000	0,0021	0,0146	0,0415	0,0819	0,1318	0,1852	0,2195	0,2355	0,2765	0,3032	0,3121	0,3125
4	4	0,0000	0,0001	0,0012	0,0055	0,0154	0,0330	0,0595	0,0823	0,0951	0,1382	0,1861	0,2249	0,2344
5	5	0,0000	0,0000	0,0001	0,0004	0,0015	0,0044	0,0102	0,0165	0,0205	0,0369	0,0609	0,0864	0,0938
6	6	0,0000	0,0000	0,0000	0,0000	0,0001	0,0002	0,0007	0,0014	0,0018	0,0041	0,0083	0,0138	0,0156
7	0	0,9321	0,6983	0,4783	0,3206	0,2097	0,1335	0,0824	0,0585	0,0490	0,0280	0,0152	0,0090	0,0078
1	1	0,0659	0,2573	0,3720	0,3960	0,3670	0,3115	0,2471	0,2048	0,1848	0,1306	0,0872	0,0604	0,0547
2	2	0,0020	0,0406	0,1240	0,2097	0,2753	0,3115	0,3177	0,3073	0,2985	0,2613	0,2140	0,1740	0,1641
3	3	0,0000	0,0036	0,0230	0,0617	0,1147	0,1730	0,2269	0,2561	0,2679	0,2903	0,2918	0,2786	0,2734
4	4	0,0000	0,0002	0,0026	0,0109	0,0287	0,0577	0,0972	0,1280	0,1442	0,1935	0,2388	0,2676	0,2734
5	5	0,0000	0,0000	0,0002	0,0012	0,0043	0,0115	0,0250	0,0384	0,0466	0,0774	0,1172	0,1543	0,1641
6	6	0,0000	0,0000	0,0000	0,0001	0,0004	0,0013	0,0036	0,0064	0,0084	0,0172	0,0320	0,0494	0,0547
7	7	0,0000	0,0000	0,0000	0,0000	0,0000	0,0001	0,0002	0,0005	0,0006	0,0016	0,0037	0,0068	0,0078
8	0	0,9227	0,6634	0,4305	0,2725	0,1678	0,1001	0,0576	0,0390	0,0319	0,0168	0,0084	0,0046	0,0039
1	1	0,0746	0,2793	0,3826	0,3847	0,3355	0,2670	0,1977	0,1561	0,1373	0,0896	0,0548	0,0352	0,0313
2	2	0,0026	0,0515	0,1488	0,2376	0,2936	0,3115	0,2965	0,2731	0,2587	0,2090	0,1569	0,1183	0,1094
3	3	0,0001	0,0054	0,0331	0,0839	0,1468	0,2076	0,2541	0,2731	0,2786	0,2787	0,2568	0,2273	0,2188
4	4	0,0000	0,0004	0,0046	0,0185	0,0459	0,0865	0,1361	0,1707	0,1875	0,2322	0,2627	0,2730	0,2734
5	5	0,0000	0,0000	0,0004	0,0026	0,0092	0,0231	0,0467	0,0683	0,0808	0,1239	0,1719	0,2098	0,2188
6	6	0,0000	0,0000	0,0000	0,0002	0,0011	0,0038	0,0100	0,0171	0,0217	0,0413	0,0703	0,1008	0,1094
7	7	0,0000	0,0000	0,0000	0,0000	0,0001	0,0004	0,0012	0,0024	0,0033	0,0079	0,0164	0,0277	0,0313
8	8	0,0000	0,0000	0,0000	0,0000	0,0000	0,0000	0,0001	0,0002	0,0002	0,0007	0,0017	0,0033	0,0039
9	0	0,9135	0,6302	0,3874	0,2316	0,1342	0,0751	0,0404	0,0260	0,0207	0,0101	0,0046	0,0023	0,0020
1	1	0,0830	0,2985	0,3874	0,3679	0,3020	0,2253	0,1556	0,1171	0,1004	0,0605	0,0339	0,0202	0,0176
2	2	0,0034	0,0629	0,1722	0,2597	0,3020	0,3003	0,2668	0,2341					

	<p align="center">Pruebas de Acceso a enseñanzas universitarias oficiales de grado Castilla y León</p>	<p align="center">MATEMÁTICAS APLICADAS A LAS CIENCIAS SOCIALES</p>	<p align="center">EJERCICIO Nº Páginas: 2 Tablas</p>
---	---	--	--

OPTATIVIDAD: EL ALUMNO DEBERÁ ESCOGER UNA DE LAS DOS OPCIONES Y DESARROLLAR LAS PREGUNTAS DE LA MISMA.

CRITERIOS GENERALES DE EVALUACIÓN:

Cada pregunta de la 1 a la 3 se puntuará sobre un máximo de 3 puntos. La pregunta 4 se puntuará sobre un máximo de 1 punto. La calificación final se obtiene sumando las puntuaciones de las cuatro preguntas. Deben figurar explícitamente las operaciones no triviales, de modo que puedan reconstruirse la argumentación lógica y los cálculos efectuados por el alumno.

Opción A

1A- Resuelve el siguiente sistema matricial:

$$2X + 3Y = \begin{pmatrix} 6 & 28 \\ 10 & 17 \end{pmatrix}$$

$$\begin{pmatrix} 1 & 1 \\ 0 & 1 \end{pmatrix} X = \begin{pmatrix} -1 & 12 \\ 2 & 7 \end{pmatrix}$$

2A- El número de visitantes diarios a una feria de turismo viene dado por la función $V(t) = -30(t^2 - 14t - 11)$, donde $t \in (0,10)$ es el tiempo (en horas) transcurrido desde la apertura de la feria.

- ¿Cuándo aumenta la afluencia de público y cuándo disminuye? ¿En qué momento se alcanza el número máximo de visitantes?
- Determina ese número máximo de visitantes.

3A- El 38% de los habitantes de una ciudad declaran que su deporte preferido es el fútbol, el 21% prefiere el baloncesto y el resto se inclina por otro deporte. Si se eligen al azar tres personas, calcula la probabilidad de los siguientes sucesos:

- Las tres personas son aficionadas al fútbol.
- Dos personas prefieren el fútbol y la otra el baloncesto.
- Al menos una de las tres personas prefiere otro deporte diferente al fútbol y al baloncesto.

4A- Sean los sucesos A y B , tales que $P(A) = 1/5$ y $P(B) = 1/2$. Halla la probabilidad del suceso $A \cup B$, si A y B son independientes.

Opción B

1B- Un grupo de estudiantes financia su viaje de fin de curso con la venta de participaciones de lotería, por importe de 1, 2 y 5 euros. Han recaudado, en total, 600 euros y han vendido el doble de participaciones de 1 euro que de 5 euros. Si han vendido un total de 260 participaciones, calcula el número de participaciones que han vendido de cada importe.

2B- Dada la función $f(x) = \frac{x^2}{2(x-1)}$:

- Calcula sus asíntotas.
- Determina sus intervalos de crecimiento y decrecimiento, sus máximos y sus mínimos.
- Con los datos anteriores, representa gráficamente la función.

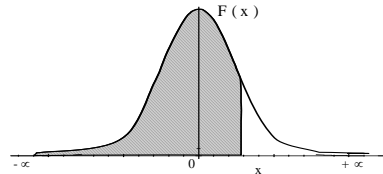
3B- Una empresa fabrica tornillos para llantas cuyo diámetro sigue una distribución normal de media μ milímetros y desviación típica 2 milímetros. Se selecciona un lote de 100 tornillos y resulta una media muestral de 19 milímetros.

- Determina un intervalo de confianza al 98% para μ .
- Para un determinado modelo de automóvil, se exige que el diámetro medio de los tornillos sea de 20 milímetros. Plantea un test de hipótesis que permita decidir si los tornillos fabricados se ajustan a este tamaño, con una confianza del 95%.

4B- El 10% de los huevos de un supermercado están rotos. Halla la probabilidad de que un cliente que compra media docena de huevos encuentre como mucho un huevo roto.

Distribución Normal


$$F(x) = \frac{1}{\sqrt{2\pi}} \int_{-\infty}^x e^{-\frac{1}{2}t^2} dt$$



	0,00	0,01	0,02	0,03	0,04	0,05	0,06	0,07	0,08	0,09
0,0	0,5000	0,5040	0,5080	0,5120	0,5160	0,5199	0,5239	0,5279	0,5319	0,5359
0,1	0,5398	0,5438	0,5478	0,5517	0,5557	0,5596	0,5636	0,5675	0,5714	0,5753
0,2	0,5793	0,5832	0,5871	0,5910	0,5948	0,5987	0,6026	0,6064	0,6103	0,6141
0,3	0,6179	0,6217	0,6255	0,6293	0,6331	0,6368	0,6406	0,6443	0,6480	0,6517
0,4	0,6554	0,6591	0,6628	0,6664	0,6700	0,6736	0,6772	0,6808	0,6844	0,6879
0,5	0,6915	0,6950	0,6985	0,7019	0,7054	0,7088	0,7123	0,7157	0,7190	0,7224
0,6	0,7257	0,7291	0,7324	0,7357	0,7389	0,7422	0,7454	0,7486	0,7517	0,7549
0,7	0,7580	0,7611	0,7642	0,7673	0,7704	0,7734	0,7764	0,7794	0,7823	0,7852
0,8	0,7881	0,7910	0,7939	0,7967	0,7995	0,8023	0,8051	0,8078	0,8106	0,8133
0,9	0,8159	0,8186	0,8212	0,8238	0,8264	0,8289	0,8315	0,8340	0,8365	0,8389
1,0	0,8413	0,8438	0,8461	0,8485	0,8508	0,8531	0,8554	0,8577	0,8599	0,8621
1,1	0,8643	0,8665	0,8686	0,8708	0,8729	0,8749	0,8770	0,8790	0,8810	0,8830
1,2	0,8849	0,8869	0,8888	0,8907	0,8925	0,8944	0,8962	0,8980	0,8997	0,9014
1,3	0,9032	0,9049	0,9066	0,9082	0,9099	0,9115	0,9131	0,9147	0,9162	0,9177
1,4	0,9192	0,9207	0,9222	0,9236	0,9251	0,9265	0,9279	0,9292	0,9306	0,9318
1,5	0,9332	0,9345	0,9357	0,9370	0,9382	0,9394	0,9406	0,9418	0,9429	0,9441
1,6	0,9452	0,9463	0,9474	0,9484	0,9495	0,9505	0,9515	0,9525	0,9535	0,9545
1,7	0,9554	0,9564	0,9573	0,9582	0,9591	0,9599	0,9608	0,9616	0,9625	0,9633
1,8	0,9641	0,9649	0,9656	0,9664	0,9671	0,9678	0,9686	0,9693	0,9699	0,9706
1,9	0,9713	0,9719	0,9726	0,9732	0,9738	0,9744	0,9750	0,9756	0,9761	0,9767
2,0	0,9772	0,9778	0,9783	0,9788	0,9793	0,9798	0,9803	0,9808	0,9812	0,9817
2,1	0,9821	0,9826	0,9830	0,9834	0,9838	0,9842	0,9846	0,9850	0,9854	0,9857
2,2	0,9861	0,9864	0,9868	0,9871	0,9875	0,9878	0,9881	0,9884	0,9887	0,9890
2,3	0,9893	0,9896	0,9898	0,9901	0,9904	0,9906	0,9909	0,9911	0,9913	0,9916
2,4	0,9918	0,9920	0,9922	0,9925	0,9927	0,9929	0,9931	0,9932	0,9934	0,9936
2,5	0,9938	0,9940	0,9941	0,9943	0,9945	0,9946	0,9948	0,9949	0,9951	0,9952
2,6	0,9953	0,9955	0,9956	0,9957	0,9959	0,9960	0,9961	0,9962	0,9963	0,9964
2,7	0,9965	0,9966	0,9967	0,9968	0,9969	0,9970	0,9971	0,9972	0,9973	0,9974
2,8	0,9974	0,9975	0,9976	0,9977	0,9977	0,9978	0,9979	0,9979	0,9980	0,9981
2,9	0,9981	0,9982	0,9982	0,9983	0,9984	0,9984	0,9985	0,9985	0,9986	0,9986
3,0	0,9987	0,9987	0,9987	0,9988	0,9988	0,9989	0,9989	0,9989	0,9990	0,9990
3,1	0,9990	0,9991	0,9991	0,9991	0,9992	0,9992	0,9992	0,9992	0,9993	0,9993
3,2	0,9993	0,9993	0,9994	0,9994	0,9994	0,9994	0,9994	0,9995	0,9995	0,9995
3,3	0,9995	0,9995	0,9995	0,9996	0,9996	0,9996	0,9996	0,9996	0,9996	0,9997
3,4	0,9997	0,9997	0,9997	0,9997	0,9997	0,9997	0,9997	0,9997	0,9997	0,9998
3,5	0,9997	0,9997	0,9998	0,9998	0,9998	0,9998	0,9998	0,9998	0,9998	0,9998
3,6	0,9998	0,9998	0,9999	0,9999	0,9999	0,9999	0,9999	0,9999	0,9999	0,9999

Distribución Binomial $p(X=r) = \binom{n}{r} p^r (1-p)^{n-r}$

n	p	0,01	0,05	0,10	0,15	0,20	0,25	0,30	1/3	0,35	0,40	0,45	0,49	0,50
2	0	0,9801	0,9025	0,8100	0,7225	0,6400	0,5625	0,4900	0,4444	0,4225	0,3600	0,3025	0,2601	0,2500
2	1	0,0198	0,0975	0,1800	0,2550	0,3200	0,3750	0,4200	0,4444	0,4550	0,4800	0,4950	0,4998	0,5000
2	2	0,0001	0,0025	0,0100	0,0225	0,0400	0,0625	0,0900	0,1111	0,1225	0,1600	0,2025	0,2401	0,2500
3	0	0,9703	0,8574	0,7290	0,6141	0,5120	0,4219	0,3430	0,2963	0,2746	0,2160	0,1664	0,1327	0,1250
3	1	0,0294	0,1354	0,2430	0,3251	0,3840	0,4219	0,4410	0,4444	0,4436	0,4320	0,4084	0,3823	0,3750
3	2	0,0003	0,0071	0,0270	0,0574	0,0960	0,1406	0,1890	0,2222	0,2389	0,2880	0,3341	0,3674	0,3750
3	3	0,0000	0,0001	0,0010	0,0034	0,0080	0,0156	0,0270	0,0370	0,0429	0,0640	0,0911	0,1176	0,1250
4	0	0,9606	0,8145	0,6561	0,5220	0,4096	0,3164	0,2401	0,1975	0,1785	0,1296	0,0915	0,0677	0,0625
4	1	0,0388	0,1715	0,2916	0,3685	0,4096	0,4219	0,4116	0,3951	0,3845	0,3456	0,2995	0,2600	0,2500
4	2	0,0006	0,0135	0,0486	0,0975	0,1536	0,2109	0,2646	0,2963	0,3105	0,3456	0,3675	0,3747	0,3750
4	3	0,0000	0,0005	0,0036	0,0115	0,0256	0,0469	0,0756	0,0988	0,1115	0,1536	0,2005	0,2400	0,2500
4	4	0,0000	0,0000	0,0001	0,0005	0,0016	0,0039	0,0081	0,0123	0,0150	0,0256	0,0410	0,0576	0,0625
5	0	0,9510	0,7738	0,5905	0,4437	0,3277	0,2373	0,1681	0,1317	0,1160	0,0778	0,0503	0,0345	0,0313
5	1	0,0480	0,2036	0,3281	0,3915	0,4096	0,3955	0,3602	0,3292	0,3124	0,2592	0,2059	0,1657	0,1563
5	2	0,0010	0,0214	0,0729	0,1382	0,2048	0,2637	0,3087	0,3292	0,3364	0,3456	0,3369	0,3185	0,3125
5	3	0,0000	0,0011	0,0081	0,0244	0,0512	0,0879	0,1323	0,1646	0,1811	0,2304	0,2757	0,3060	0,3125
5	4	0,0000	0,0000	0,0005	0,0022	0,0064	0,0146	0,0284	0,0412	0,0488	0,0768	0,1128	0,1470	0,1563
5	5	0,0000	0,0000	0,0000	0,0001	0,0003	0,0010	0,0024	0,0041	0,0053	0,0102	0,0185	0,0282	0,0313
6	0	0,9415	0,7351	0,5314	0,3771	0,2621	0,1780	0,1176	0,0878	0,0754	0,0467	0,0277	0,0176	0,0156
6	1	0,0571	0,2321	0,3543	0,3993	0,3932	0,3560	0,3025	0,2634	0,2437	0,1866	0,1359	0,1014	0,0938
6	2	0,0014	0,0305	0,0984	0,1762	0,2458	0,2966	0,3241	0,3292	0,3280	0,3110	0,2780	0,2436	0,2344
6	3	0,0000	0,0021	0,0146	0,0415	0,0819	0,1318	0,1852	0,2195	0,2355	0,2765	0,3032	0,3121	0,3125
6	4	0,0000	0,0001	0,0012	0,0055	0,0154	0,0330	0,0595	0,0823	0,0951	0,1382	0,1861	0,2249	0,2344
6	5	0,0000	0,0000	0,0001	0,0004	0,0015	0,0044	0,0102	0,0165	0,0205	0,0369	0,0609	0,0864	0,0938
6	6	0,0000	0,0000	0,0000	0,0000	0,0001	0,0002	0,0007	0,0014	0,0018	0,0041	0,0083	0,0138	0,0156
7	0	0,9321	0,6983	0,4783	0,3206	0,2097	0,1335	0,0824	0,0585	0,0490	0,0280	0,0152	0,0090	0,0078
7	1	0,0659	0,2573	0,3720	0,3960	0,3670	0,3115	0,2471	0,2048	0,1848	0,1306	0,0872	0,0604	0,0547
7	2	0,0020	0,0406	0,1240	0,2097	0,2753	0,3115	0,3177	0,3073	0,2985	0,2613	0,2140	0,1740	0,1641
7	3	0,0000	0,0036	0,0230	0,0617	0,1147	0,1730	0,2269	0,2561	0,2679	0,2903	0,2918	0,2786	0,2734
7	4	0,0000	0,0002	0,0026	0,0109	0,0287	0,0577	0,0972	0,1280	0,1442	0,1935	0,2388	0,2676	0,2734
7	5	0,0000	0,0000	0,0002	0,0012	0,0043	0,0115	0,0250	0,0384	0,0466	0,0774	0,1172	0,1543	0,1641
7	6	0,0000	0,0000	0,0000	0,0001	0,0004	0,0013	0,0036	0,0064	0,0084	0,0172	0,0320	0,0494	0,0547
7	7	0,0000	0,0000	0,0000	0,0000	0,0000	0,0001	0,0002	0,0005	0,0006	0,0016	0,0037	0,0068	0,0078
8	0	0,9227	0,6634	0,4305	0,2725	0,1678	0,1001	0,0576	0,0390	0,0319	0,0168	0,0084	0,0046	0,0039
8	1	0,0746	0,2793	0,3826	0,3847	0,3355	0,2610	0,1977	0,1561	0,1373	0,0896	0,0548	0,0352	0,0313
8	2	0,0026	0,0515	0,1488	0,2376	0,2936	0,3115	0,2965	0,2731	0,2587	0,2090	0,1569	0,1183	0,1094
8	3	0,0001	0,0054	0,0331	0,0839	0,1468	0,2076	0,2541	0,2731	0,2786	0,2787	0,2568	0,2273	0,2188
8	4	0,0000	0,0004	0,0046	0,0185	0,0459	0,0865	0,1361	0,1707	0,1875	0,2322	0,2627	0,2730	0,2734
8	5	0,0000	0,0000	0,0004	0,0026	0,0092	0,0231	0,0467	0,0683	0,0808	0,1239	0,1719	0,2098	0,2188
8	6	0,0000	0,0000	0,0000	0,0002	0,0011	0,0038	0,0100	0,0171	0,0217	0,0413	0,0703	0,1008	0,1094
8	7	0,0000	0,0000	0,0000	0,0000	0,0001	0,0004	0,0012	0,0024	0,0033	0,0079	0,0164	0,0277	0,0313
8	8	0,0000	0,0000	0,0000	0,0000	0,0000	0,0000	0,0001	0,0002	0,0002	0,0007	0,0017	0,0033	0,0039
9	0	0,9135	0,6302	0,3874	0,2316	0,1342	0,0751	0,0404	0,0260	0,0207	0,0101	0,0046	0,0023	0,0020
9	1	0,0830	0,2985	0,3874	0,3679	0,3020	0,2253	0,1556	0,1171	0,1004	0,0605	0,0339	0,0202	0,0176
9	2	0,0034	0,0629											

	<p align="center">Pruebas de Acceso a enseñanzas universitarias oficiales de grado Castilla y León</p>	<p align="center">MATEMÁTICAS APLICADAS A LAS CIENCIAS SOCIALES</p>	<p align="center">EJERCICIO Nº Páginas: 2 Tablas</p>
---	---	--	--

OPTATIVIDAD: EL ALUMNO DEBERÁ ESCOGER UNA DE LAS DOS OPCIONES Y DESARROLLAR LAS PREGUNTAS DE LA MISMA.

CRITERIOS GENERALES DE EVALUACIÓN:

Cada pregunta de la 1 a la 3 se puntuará sobre un máximo de 3 puntos. La pregunta 4 se puntuará sobre un máximo de 1 punto. La calificación final se obtiene sumando las puntuaciones de las cuatro preguntas. Deben figurar explícitamente las operaciones no triviales, de modo que puedan reconstruirse la argumentación lógica y los cálculos efectuados por el alumno.

Opción A

1A- Una fábrica produce tres tipos de herramientas: A, B y C. En la fábrica trabajan tres obreros, durante 8 horas diarias cada uno, y un revisor para comprobar las herramientas durante 1 hora diaria. Para fabricar una herramienta de tipo A se emplean 2 horas de mano de obra y se necesitan 6 minutos de revisión, para la fabricación de una de tipo B se emplean 4 horas de mano de obra y 4 minutos de revisión y para una de tipo C se necesitan 1 hora de mano de obra y 4 minutos de revisión. Por limitaciones en la producción, se deben producir exactamente 12 herramientas al día. Calcula el número de herramientas de cada tipo que se elaboran cada día en la fábrica.

2A- Se considera la función: $f(x) = -x^3 + bx^2 + x + d$

a) Calcula razonadamente los valores de b y d para que la función $f(x)$ tenga un máximo relativo en el punto (1,4).

b) Suponiendo $b = 1$ y $d = 3$, representa gráficamente la función $f(x)$ en el intervalo $[-2, 2]$.

3A- Un moderno edificio tiene dos ascensores para uso de los vecinos. El primero de los ascensores es usado el 45% de las ocasiones, mientras que el segundo es usado el resto de las ocasiones. El uso continuado de los ascensores provoca un 5% de fallos en el primero de los ascensores y un 8% en el segundo. Un día suena la alarma de uno de los ascensores porque ha fallado. Calcula la probabilidad de que haya sido el primero de los ascensores.

4A- Calcula $P(\bar{A}/B)$ sabiendo que $P(A) = \frac{1}{3}$, $P(B) = \frac{1}{4}$ y $P(A \cap B) = \frac{1}{5}$.

Opción B

1B- Un ahorrador dispone de 4000 € para invertir en dos tipos de fondos de inversión a cierto plazo. En el fondo A cada participación tiene un coste de 40 € y produce un beneficio de 15 €, mientras que en el fondo B cada participación da un beneficio de 5 € y su coste es de 50 €. Sabiendo que se puede adquirir un máximo de 60 participaciones del fondo A y al menos 40 del fondo B, utiliza técnicas de programación lineal para determinar cuántas participaciones de cada fondo se deben comprar para maximizar el beneficio y calcula ese beneficio.

2B- Un agricultor dispone de 3000 € para cercar un terreno rectangular, usando el río adyacente como lado con el fin de que el recinto sólo necesite 3 cercas. El coste de la cerca paralela al río es de 5 € por metro instalado, y el de la cerca para cada uno de los lados restantes es de 3 € por metro instalado. Calcula las dimensiones del terreno de área máxima que puede cercar con el presupuesto que tiene.

3B- En un determinado municipio, los ingresos mensuales de sus habitantes siguen una distribución normal de media μ y desviación típica 200 €. Se seleccionó al azar una muestra de 100 personas cuya media de ingresos mensuales resultó de 1060 €

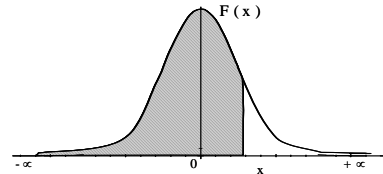
a) Para un nivel de confianza del 95%, calcula un intervalo de confianza para el ingreso medio mensual en ese municipio.

b) Si se toma un nivel de significación de 0.01, calcula el tamaño muestral mínimo necesario para estimar el ingreso medio mensual con un error menor de 30 €

4B- La probabilidad de romper una galleta al ser envasada es el 1%. Si en un envase hay 10 galletas, ¿cuál es la probabilidad de que al menos una galleta esté rota debido a la operación de envasado?

Distribución Normal


$$F(x) = \frac{1}{\sqrt{2\pi}} \int_{-\infty}^x e^{-\frac{1}{2}t^2} dt$$



	0,00	0,01	0,02	0,03	0,04	0,05	0,06	0,07	0,08	0,09
0,0	0,5000	0,5040	0,5080	0,5120	0,5160	0,5199	0,5239	0,5279	0,5319	0,5359
0,1	0,5398	0,5438	0,5478	0,5517	0,5557	0,5596	0,5636	0,5675	0,5714	0,5753
0,2	0,5793	0,5832	0,5871	0,5910	0,5948	0,5987	0,6026	0,6064	0,6103	0,6141
0,3	0,6179	0,6217	0,6255	0,6293	0,6331	0,6368	0,6406	0,6443	0,6480	0,6517
0,4	0,6554	0,6591	0,6628	0,6664	0,6700	0,6736	0,6772	0,6808	0,6844	0,6879
0,5	0,6915	0,6950	0,6985	0,7019	0,7054	0,7088	0,7123	0,7157	0,7190	0,7224
0,6	0,7257	0,7291	0,7324	0,7357	0,7389	0,7422	0,7454	0,7486	0,7517	0,7549
0,7	0,7580	0,7611	0,7642	0,7673	0,7704	0,7734	0,7764	0,7794	0,7823	0,7852
0,8	0,7881	0,7910	0,7939	0,7967	0,7995	0,8023	0,8051	0,8078	0,8106	0,8133
0,9	0,8159	0,8186	0,8212	0,8238	0,8264	0,8289	0,8315	0,8340	0,8365	0,8389
1,0	0,8413	0,8438	0,8461	0,8485	0,8508	0,8531	0,8554	0,8577	0,8599	0,8621
1,1	0,8643	0,8665	0,8686	0,8708	0,8729	0,8749	0,8770	0,8790	0,8810	0,8830
1,2	0,8849	0,8869	0,8888	0,8907	0,8925	0,8944	0,8962	0,8980	0,8997	0,9014
1,3	0,9032	0,9049	0,9066	0,9082	0,9099	0,9115	0,9131	0,9147	0,9162	0,9177
1,4	0,9192	0,9207	0,9222	0,9236	0,9251	0,9265	0,9279	0,9292	0,9306	0,9318
1,5	0,9332	0,9345	0,9357	0,9370	0,9382	0,9394	0,9406	0,9418	0,9429	0,9441
1,6	0,9452	0,9463	0,9474	0,9484	0,9495	0,9505	0,9515	0,9525	0,9535	0,9545
1,7	0,9554	0,9564	0,9573	0,9582	0,9591	0,9599	0,9608	0,9616	0,9625	0,9633
1,8	0,9641	0,9649	0,9656	0,9664	0,9671	0,9678	0,9686	0,9693	0,9699	0,9706
1,9	0,9713	0,9719	0,9726	0,9732	0,9738	0,9744	0,9750	0,9756	0,9761	0,9767
2,0	0,9772	0,9778	0,9783	0,9788	0,9793	0,9798	0,9803	0,9808	0,9812	0,9817
2,1	0,9821	0,9826	0,9830	0,9834	0,9838	0,9842	0,9846	0,9850	0,9854	0,9857
2,2	0,9861	0,9864	0,9868	0,9871	0,9875	0,9878	0,9881	0,9884	0,9887	0,9890
2,3	0,9893	0,9896	0,9898	0,9901	0,9904	0,9906	0,9909	0,9911	0,9913	0,9916
2,4	0,9918	0,9920	0,9922	0,9925	0,9927	0,9929	0,9931	0,9932	0,9934	0,9936
2,5	0,9938	0,9940	0,9941	0,9943	0,9945	0,9946	0,9948	0,9949	0,9951	0,9952
2,6	0,9953	0,9955	0,9956	0,9957	0,9959	0,9960	0,9961	0,9962	0,9963	0,9964
2,7	0,9965	0,9966	0,9967	0,9968	0,9969	0,9970	0,9971	0,9972	0,9973	0,9974
2,8	0,9974	0,9975	0,9976	0,9977	0,9977	0,9978	0,9979	0,9979	0,9980	0,9981
2,9	0,9981	0,9982	0,9982	0,9983	0,9984	0,9984	0,9985	0,9985	0,9986	0,9986
3,0	0,9987	0,9987	0,9987	0,9988	0,9988	0,9989	0,9989	0,9989	0,9990	0,9990
3,1	0,9990	0,9991	0,9991	0,9991	0,9992	0,9992	0,9992	0,9992	0,9993	0,9993
3,2	0,9993	0,9993	0,9994	0,9994	0,9994	0,9994	0,9994	0,9995	0,9995	0,9995
3,3	0,9995	0,9995	0,9995	0,9996	0,9996	0,9996	0,9996	0,9996	0,9996	0,9997
3,4	0,9997	0,9997	0,9997	0,9997	0,9997	0,9997	0,9997	0,9997	0,9997	0,9998
3,5	0,9997	0,9997	0,9998	0,9998	0,9998	0,9998	0,9998	0,9998	0,9998	0,9998
3,6	0,9998	0,9998	0,9999	0,9999	0,9999	0,9999	0,9999	0,9999	0,9999	0,9999

Distribución Binomial $p(X=r) = \binom{n}{r} p^r (1-p)^{n-r}$

n	p	0,01	0,05	0,10	0,15	0,20	0,25	0,30	1/3	0,35	0,40	0,45	0,49	0,50	
2	0	0,9801	0,9025	0,8100	0,7225	0,6400	0,5625	0,4900	0,4444	0,4225	0,3600	0,3025	0,2601	0,2500	
2	1	0,0198	0,0975	0,1900	0,2775	0,3600	0,4375	0,5100	0,5556	0,5775	0,6400	0,6975	0,7399	0,7500	
3	0	0,0001	0,0025	0,0100	0,0225	0,0400	0,0625	0,0900	0,1111	0,1225	0,1600	0,2050	0,2401	0,2500	
3	1	0,9703	0,8574	0,7290	0,6141	0,5120	0,4219	0,3430	0,2963	0,2746	0,2160	0,1664	0,1327	0,1250	
3	2	0,0294	0,1354	0,2430	0,3251	0,3840	0,4219	0,4410	0,4444	0,4436	0,4320	0,4084	0,3823	0,3750	
3	3	0,0003	0,0071	0,0270	0,0574	0,0960	0,1406	0,1890	0,2222	0,2389	0,2880	0,3341	0,3674	0,3750	
4	0	0,0000	0,0001	0,0010	0,0034	0,0080	0,0156	0,0270	0,0370	0,0429	0,0640	0,0911	0,1176	0,1250	
4	1	0,9606	0,8145	0,6561	0,5220	0,4096	0,3164	0,2401	0,1975	0,1785	0,1296	0,0915	0,0677	0,0625	
4	2	0,0388	0,1715	0,2916	0,3685	0,4096	0,4219	0,4116	0,3951	0,3845	0,3456	0,2995	0,2600	0,2500	
4	3	0,0006	0,0135	0,0486	0,0975	0,1536	0,2109	0,2646	0,2963	0,3105	0,3456	0,3675	0,3747	0,3750	
4	4	0,0000	0,0005	0,0036	0,0115	0,0256	0,0469	0,0756	0,0988	0,1115	0,1536	0,2005	0,2400	0,2500	
5	0	0,0000	0,0000	0,0001	0,0005	0,0016	0,0039	0,0081	0,0123	0,0150	0,0256	0,0410	0,0576	0,0625	
5	1	0,9510	0,7738	0,5905	0,4437	0,3277	0,2373	0,1681	0,1317	0,1160	0,0778	0,0503	0,0345	0,0313	
5	2	0,0480	0,2036	0,3281	0,3915	0,4096	0,3955	0,3602	0,3292	0,3124	0,2592	0,2059	0,1657	0,1563	
5	3	0,0010	0,0214	0,0729	0,1382	0,2048	0,2637	0,3087	0,3292	0,3364	0,3456	0,3369	0,3185	0,3125	
5	4	0,0000	0,0011	0,0081	0,0244	0,0512	0,0879	0,1323	0,1646	0,1811	0,2304	0,2757	0,3060	0,3125	
5	5	0,0000	0,0000	0,0005	0,0022	0,0064	0,0146	0,0284	0,0412	0,0488	0,0768	0,1128	0,1470	0,1563	
6	0	0,0000	0,0000	0,0000	0,0001	0,0003	0,0010	0,0024	0,0041	0,0053	0,0102	0,0185	0,0282	0,0313	
6	1	0,9415	0,7351	0,5314	0,3771	0,2621	0,1780	0,1176	0,0878	0,0754	0,0467	0,0277	0,0176	0,0156	
6	2	0,0571	0,2321	0,3543	0,3993	0,3932	0,3560	0,3025	0,2634	0,2437	0,1866	0,1359	0,1014	0,0938	
6	3	0,0014	0,0305	0,0984	0,1762	0,2458	0,2966	0,3241	0,3292	0,3280	0,3110	0,2780	0,2436	0,2344	
6	4	0,0000	0,0021	0,0146	0,0415	0,0819	0,1318	0,1852	0,2195	0,2355	0,2765	0,3032	0,3121	0,3125	
6	5	0,0000	0,0001	0,0012	0,0055	0,0154	0,0330	0,0595	0,0823	0,0951	0,1382	0,1861	0,2249	0,2344	
6	6	0,0000	0,0000	0,0001	0,0004	0,0015	0,0044	0,0102	0,0165	0,0205	0,0369	0,0609	0,0864	0,0938	
7	0	0,0000	0,0000	0,0000	0,0000	0,0000	0,0001	0,0002	0,0007	0,0014	0,0018	0,0041	0,0083	0,0156	
7	1	0,9321	0,6983	0,4783	0,3206	0,2097	0,1335	0,0824	0,0585	0,0490	0,0280	0,0152	0,0090	0,0078	
7	2	0,0659	0,2573	0,3720	0,3960	0,3670	0,3115	0,2471	0,2048	0,1848	0,1306	0,0872	0,0604	0,0547	
7	3	0,0020	0,0406	0,1240	0,2097	0,2753	0,3115	0,3177	0,3073	0,2985	0,2613	0,2140	0,1740	0,1641	
7	4	0,0000	0,0036	0,0230	0,0617	0,1147	0,1730	0,2269	0,2561	0,2679	0,2903	0,2918	0,2786	0,2734	
7	5	0,0000	0,0002	0,0026	0,0109	0,0287	0,0577	0,0972	0,1280	0,1442	0,1935	0,2388	0,2676	0,2734	
7	6	0,0000	0,0000	0,0002	0,0012	0,0043	0,0115	0,0250	0,0384	0,0466	0,0774	0,1172	0,1543	0,1641	
7	7	0,0000	0,0000	0,0000	0,0001	0,0004	0,0013	0,0036	0,0064	0,0084	0,0172	0,0320	0,0494	0,0547	
8	0	0,0000	0,0000	0,0000	0,0000	0,0000	0,0000	0,0001	0,0002	0,0005	0,0006	0,0016	0,0037	0,0068	0,0078
8	1	0,9227	0,6634	0,4305	0,2725	0,1678	0,1001	0,0576	0,0390	0,0319	0,0168	0,0084	0,0046	0,0039	
8	2	0,0746	0,2793	0,3826	0,3847	0,3355	0,2670	0,1977	0,1561	0,1373	0,0896	0,0548	0,0352	0,0313	
8	3	0,0026	0,0515	0,1488	0,2376	0,2936	0,3115	0,2965	0,2731	0,2587	0,2090	0,1569	0,1183	0,1094	
8	4	0,0001	0,0054	0,0331	0,0839	0,1468	0,2076	0,2541	0,2731	0,2786	0,2787	0,2568	0,2273	0,2188	
8	5	0,0000	0,0004	0,0046	0,0185	0,0459	0,0865	0,1361	0,1707	0,1875	0,2322	0,2627	0,2730	0,2734	
8	6	0,0000	0,0000	0,0004	0,0026	0,0092	0,0231	0,0467	0,0683	0,0808	0,1239	0,1719	0,2098	0,2188	
8	7	0,0000	0,0000	0,0000	0,0002	0,0011	0,0038	0,0100	0,0171	0,0217	0,0413	0,0703	0,1008	0,1094	
8	8	0,0000	0,0000	0,0000	0,0000	0,0001	0,0004	0,0012	0,0024	0,0033	0,0079	0,0164	0,0277	0,0313	
8	9	0,0000	0,0000	0,0000	0,0000	0,0000	0,0000	0,0001	0,0002	0,0002	0,0007	0,0017	0,0033	0,0039	
9	0	0,9135	0,6302	0,3874	0,2316	0,1342	0,0751	0,0404	0,0260	0,0207	0,0101	0,0046	0,0023	0,0020	
9	1	0,0830	0,2985	0,3874	0,3679	0,3020	0,2253	0,1556	0,1171	0,1004	0,0605	0,0339	0,0202	0,0176	
9	2	0,0034	0,												

	<p align="center">Pruebas de Acceso a enseñanzas universitarias oficiales de grado Castilla y León</p>	<p align="center">MATEMÁTICAS APLICADAS A LAS CIENCIAS SOCIALES</p>	<p align="center">EJERCICIO Nº Páginas: 2 Tablas</p>
---	---	--	--

OPTATIVIDAD: EL ALUMNO DEBERÁ ESCOGER UNA DE LAS DOS OPCIONES Y DESARROLLAR LAS PREGUNTAS DE LA MISMA.

CRITERIOS GENERALES DE EVALUACIÓN:

Cada pregunta de la 1 a la 3 se puntuará sobre un máximo de 3 puntos. La pregunta 4 se puntuará sobre un máximo de 1 punto. La calificación final se obtiene sumando las puntuaciones de las cuatro preguntas. Deben figurar explícitamente las operaciones no triviales, de modo que puedan reconstruirse la argumentación lógica y los cálculos efectuados por el alumno.

Opción A

1A- Se consideran las matrices $A = \begin{pmatrix} x & 1 \\ 2x & -1 \\ -x & 1 \end{pmatrix}$, $B = \begin{pmatrix} 1 \\ y \end{pmatrix}$, $C = \begin{pmatrix} z \\ 2z \\ -z \end{pmatrix}$, $D = \begin{pmatrix} 1 \\ 0 \\ 1/3 \end{pmatrix}$ donde

x, y, z son desconocidos.

- Sabiendo que $A \cdot B + C = 3D$, plantea un sistema de ecuaciones para encontrar los valores de x, y, z .
- Estudia el sistema planteado en función del número de sus soluciones y calcula una de ellas, si es posible.

2A- Un estudio realizado por una empresa de producción de películas de acción prueba que el coste anual (en millones de euros) de contratación de los actores secundarios que utiliza en sus películas sigue la función $f(x) = \frac{2x^2 + 60x + 800}{100x}$, donde $x > 0$ es el número de actores secundarios contratados. Calcula el número de actores secundarios contratados que hace mínimo el coste de contratación. ¿A qué cantidad asciende ese coste mínimo?

3A- Según el informe anual *La Sociedad de la Información 2012*, el 63% de los usuarios de móvil en España tiene un “Smartphone”. Entre los propietarios de este tipo de teléfono, el 77% lo emplea para su conexión habitual a internet. Sin embargo, entre los propietarios de otros tipos de teléfono móvil sólo el 8 % lo emplea para la conexión habitual a internet.

- Calcula la probabilidad de conectarse habitualmente a internet a través del teléfono móvil.
- Si un usuario emplea habitualmente el teléfono móvil para conectarse a internet, halla la probabilidad de que sea propietario de un “Smartphone”.

4A- En una ciudad, la probabilidad de que llueva un día de junio es del 10%, y de que haga sol un 75 %. Si no es posible que en un mismo día de junio llueva y haga sol simultáneamente, ¿cuál es la probabilidad de que en un día de junio no llueva ni haga sol?

Opción B

1B- Un agricultor quiere cultivar una finca de 200 hectáreas únicamente con dos cultivos: trigo y remolacha. Al menos 90 hectáreas deben ser de trigo. Cada hectárea de trigo necesita una dedicación anual del agricultor de 20 horas y proporcionará un beneficio neto anual de 800 euros. Cada hectárea de remolacha requiere 30 horas de dedicación anual pero da un beneficio neto anual de 1000 euros. El agricultor podrá dedicar este año a esos cultivos un total de 4500 horas. Utiliza técnicas de programación lineal para encontrar cómo debe repartir el cultivo en la finca entre trigo y remolacha para que el beneficio neto anual sea máximo. Calcula, además, ese beneficio neto máximo.

2B- El rendimiento físico de cierto deportista de élite durante un tiempo de 60 minutos, viene dado a través de la función:

$$f(t) = \begin{cases} -t(t-20) & \text{si } 0 \leq t < 15 \\ 75 & \text{si } 15 \leq t < 30 \\ 100 - \frac{5t}{6} & \text{si } 30 \leq t \leq 60 \end{cases}$$

a) Representa gráficamente dicha función.

b) A la vista de la gráfica obtenida, identifica en qué momentos del tiempo el deportista alcanza su máximo rendimiento físico, mantiene su rendimiento físico y disminuye su rendimiento físico.

3B- El porcentaje de vacas que enferman después de suministrarlas una determinada vacuna es del 2%. En una granja se vacuna a 600 vacas.

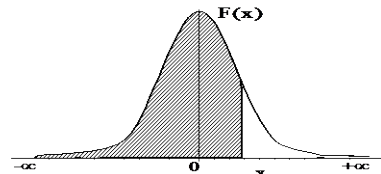
a) Halla el número esperado de vacas vacunadas que no enfermarán.

b) Halla la probabilidad de que, como máximo, enfermen 20 vacas vacunadas.

4B- El 60% de los clientes de una frutería compran naranjas y el 30% no compra ni naranjas ni manzanas. ¿Qué porcentaje de clientes compra manzanas, pero no naranjas?

Distribución Normal


$$F(x) = \frac{1}{\sqrt{2\pi}} \int_{-\infty}^x e^{-\frac{1}{2}t^2} dt$$



	0,00	0,01	0,02	0,03	0,04	0,05	0,06	0,07	0,08	0,09
0,0	0,5000	0,5040	0,5080	0,5120	0,5160	0,5199	0,5239	0,5279	0,5319	0,5359
0,1	0,5398	0,5438	0,5478	0,5517	0,5557	0,5596	0,5636	0,5675	0,5714	0,5753
0,2	0,5793	0,5832	0,5871	0,5910	0,5948	0,5987	0,6026	0,6064	0,6103	0,6141
0,3	0,6179	0,6217	0,6255	0,6293	0,6331	0,6368	0,6406	0,6443	0,6480	0,6517
0,4	0,6554	0,6591	0,6628	0,6664	0,6700	0,6736	0,6772	0,6808	0,6844	0,6879
0,5	0,6915	0,6950	0,6985	0,7019	0,7054	0,7088	0,7123	0,7157	0,7190	0,7224
0,6	0,7257	0,7291	0,7324	0,7357	0,7389	0,7422	0,7454	0,7486	0,7517	0,7549
0,7	0,7580	0,7611	0,7642	0,7673	0,7704	0,7734	0,7764	0,7794	0,7823	0,7852
0,8	0,7881	0,7910	0,7939	0,7967	0,7995	0,8023	0,8051	0,8078	0,8106	0,8133
0,9	0,8159	0,8186	0,8212	0,8238	0,8264	0,8289	0,8315	0,8340	0,8365	0,8389
1,0	0,8413	0,8438	0,8461	0,8485	0,8508	0,8531	0,8554	0,8577	0,8599	0,8621
1,1	0,8643	0,8665	0,8686	0,8708	0,8729	0,8749	0,8770	0,8790	0,8810	0,8830
1,2	0,8849	0,8869	0,8888	0,8907	0,8925	0,8944	0,8962	0,8980	0,8997	0,9014
1,3	0,9032	0,9049	0,9066	0,9082	0,9099	0,9115	0,9131	0,9147	0,9162	0,9177
1,4	0,9192	0,9207	0,9222	0,9236	0,9251	0,9265	0,9279	0,9292	0,9306	0,9318
1,5	0,9332	0,9345	0,9357	0,9370	0,9382	0,9394	0,9406	0,9418	0,9429	0,9441
1,6	0,9452	0,9463	0,9474	0,9484	0,9495	0,9505	0,9515	0,9525	0,9535	0,9545
1,7	0,9554	0,9564	0,9573	0,9582	0,9591	0,9599	0,9608	0,9616	0,9625	0,9633
1,8	0,9641	0,9649	0,9656	0,9664	0,9671	0,9678	0,9686	0,9693	0,9699	0,9706
1,9	0,9713	0,9719	0,9726	0,9732	0,9738	0,9744	0,9750	0,9756	0,9761	0,9767
2,0	0,9772	0,9778	0,9783	0,9788	0,9793	0,9798	0,9803	0,9808	0,9812	0,9817
2,1	0,9821	0,9826	0,9830	0,9834	0,9838	0,9842	0,9846	0,9850	0,9854	0,9857
2,2	0,9861	0,9864	0,9868	0,9871	0,9875	0,9878	0,9881	0,9884	0,9887	0,9890
2,3	0,9893	0,9896	0,9898	0,9901	0,9904	0,9906	0,9909	0,9911	0,9913	0,9916
2,4	0,9918	0,9920	0,9922	0,9925	0,9927	0,9929	0,9931	0,9932	0,9934	0,9936
2,5	0,9938	0,9940	0,9941	0,9943	0,9945	0,9946	0,9948	0,9949	0,9951	0,9952
2,6	0,9953	0,9955	0,9956	0,9957	0,9959	0,9960	0,9961	0,9962	0,9963	0,9964
2,7	0,9965	0,9966	0,9967	0,9968	0,9969	0,9970	0,9971	0,9972	0,9973	0,9974
2,8	0,9974	0,9975	0,9976	0,9977	0,9977	0,9978	0,9979	0,9979	0,9980	0,9981
2,9	0,9981	0,9982	0,9982	0,9983	0,9984	0,9984	0,9985	0,9985	0,9986	0,9986
3,0	0,9987	0,9987	0,9987	0,9988	0,9988	0,9989	0,9989	0,9989	0,9990	0,9990
3,1	0,9990	0,9991	0,9991	0,9991	0,9992	0,9992	0,9992	0,9992	0,9993	0,9993
3,2	0,9993	0,9993	0,9994	0,9994	0,9994	0,9994	0,9994	0,9995	0,9995	0,9995
3,3	0,9995	0,9995	0,9995	0,9996	0,9996	0,9996	0,9996	0,9996	0,9996	0,9997
3,4	0,9997	0,9997	0,9997	0,9997	0,9997	0,9997	0,9997	0,9997	0,9997	0,9998
3,5	0,9997	0,9997	0,9998	0,9998	0,9998	0,9998	0,9998	0,9998	0,9998	0,9998
3,6	0,9998	0,9998	0,9999	0,9999	0,9999	0,9999	0,9999	0,9999	0,9999	0,9999

Distribución Binomial $p(X = r) = \binom{n}{r} p^r (1-p)^{n-r}$

n	p	0,01	0,05	0,10	0,15	0,20	0,25	0,30	1/3	0,35	0,40	0,45	0,49	0,50
2	0	0,9801	0,9025	0,8100	0,7225	0,6400	0,5625	0,4900	0,4444	0,4225	0,3600	0,3025	0,2601	0,2500
1	1	0,0198	0,0975	0,1800	0,2550	0,3200	0,3750	0,4200	0,4444	0,4550	0,4800	0,4950	0,4998	0,5000
2	2	0,0001	0,0025	0,0100	0,0225	0,0400	0,0625	0,0900	0,1111	0,1225	0,1600	0,2025	0,2401	0,2500
3	0	0,9703	0,8574	0,7290	0,6141	0,5120	0,4219	0,3430	0,2963	0,2746	0,2160	0,1664	0,1327	0,1250
1	1	0,0294	0,1354	0,2430	0,3251	0,3840	0,4219	0,4410	0,4444	0,4436	0,4320	0,4084	0,3823	0,3750
2	2	0,0003	0,0071	0,0270	0,0574	0,0960	0,1406	0,1890	0,2222	0,2389	0,2880	0,3341	0,3674	0,3750
3	3	0,0000	0,0001	0,0010	0,0034	0,0080	0,0156	0,0270	0,0370	0,0429	0,0640	0,0911	0,1176	0,1250
4	0	0,9606	0,8145	0,6561	0,5220	0,4096	0,3164	0,2401	0,1975	0,1785	0,1296	0,0915	0,0677	0,0625
1	1	0,0388	0,1715	0,2916	0,3685	0,4096	0,4219	0,4116	0,3951	0,3845	0,3456	0,2995	0,2600	0,2500
2	2	0,0006	0,0135	0,0486	0,0975	0,1536	0,2109	0,2646	0,2963	0,3105	0,3456	0,3675	0,3747	0,3750
3	3	0,0000	0,0005	0,0036	0,0115	0,0256	0,0469	0,0756	0,0988	0,1115	0,1536	0,2005	0,2400	0,2500
4	4	0,0000	0,0000	0,0001	0,0005	0,0016	0,0039	0,0081	0,0123	0,0150	0,0256	0,0410	0,0576	0,0625
5	0	0,9510	0,7738	0,5905	0,4437	0,3277	0,2373	0,1681	0,1317	0,1160	0,0778	0,0503	0,0345	0,0313
1	1	0,0480	0,2036	0,3281	0,3915	0,4096	0,3955	0,3602	0,3292	0,3124	0,2592	0,2059	0,1657	0,1563
2	2	0,0010	0,0214	0,0729	0,1382	0,2048	0,2637	0,3087	0,3292	0,3364	0,3456	0,3369	0,3185	0,3125
3	3	0,0000	0,0011	0,0081	0,0244	0,0512	0,0879	0,1323	0,1646	0,1811	0,2304	0,2757	0,3060	0,3125
4	4	0,0000	0,0000	0,0005	0,0022	0,0064	0,0146	0,0284	0,0412	0,0488	0,0768	0,1128	0,1470	0,1563
5	5	0,0000	0,0000	0,0000	0,0001	0,0003	0,0010	0,0024	0,0041	0,0053	0,0102	0,0185	0,0282	0,0313
6	0	0,9415	0,7351	0,5314	0,3771	0,2621	0,1780	0,1176	0,0878	0,0754	0,0467	0,0277	0,0176	0,0156
1	1	0,0571	0,2321	0,3543	0,3993	0,3932	0,3560	0,3025	0,2634	0,2437	0,1866	0,1359	0,1014	0,0938
2	2	0,0014	0,0305	0,0984	0,1762	0,2458	0,2966	0,3241	0,3292	0,3280	0,3110	0,2780	0,2436	0,2344
3	3	0,0000	0,0021	0,0146	0,0415	0,0819	0,1318	0,1852	0,2195	0,2355	0,2765	0,3032	0,3121	0,3125
4	4	0,0000	0,0001	0,0012	0,0055	0,0154	0,0330	0,0595	0,0823	0,0951	0,1382	0,1861	0,2249	0,2344
5	5	0,0000	0,0000	0,0001	0,0004	0,0015	0,0044	0,0102	0,0165	0,0205	0,0369	0,0609	0,0864	0,0938
6	6	0,0000	0,0000	0,0000	0,0000	0,0001	0,0002	0,0007	0,0014	0,0018	0,0041	0,0083	0,0138	0,0156
7	0	0,9321	0,6983	0,4783	0,3206	0,2097	0,1335	0,0824	0,0585	0,0490	0,0280	0,0152	0,0090	0,0078
1	1	0,0659	0,2573	0,3720	0,3960	0,3670	0,3115	0,2471	0,2048	0,1848	0,1306	0,0872	0,0604	0,0547
2	2	0,0020	0,0406	0,1240	0,2097	0,2753	0,3115	0,3177	0,3073	0,2985	0,2613	0,2140	0,1740	0,1641
3	3	0,0000	0,0036	0,0230	0,0617	0,1147	0,1730	0,2269	0,2561	0,2679	0,2903	0,2918	0,2786	0,2734
4	4	0,0000	0,0002	0,0026	0,0109	0,0287	0,0577	0,0972	0,1280	0,1442	0,1935	0,2388	0,2676	0,2734
5	5	0,0000	0,0000	0,0002	0,0012	0,0043	0,0115	0,0250	0,0384	0,0466	0,0774	0,1172	0,1543	0,1641
6	6	0,0000	0,0000	0,0000	0,0001	0,0004	0,0013	0,0036	0,0064	0,0084	0,0172	0,0320	0,0494	0,0547
7	7	0,0000	0,0000	0,0000	0,0000	0,0000	0,0001	0,0002	0,0005	0,0006	0,0016	0,0037	0,0068	0,0078
8	0	0,9227	0,6634	0,4305	0,2725	0,1678	0,1001	0,0576	0,0390	0,0319	0,0168	0,0084	0,0046	0,0039
1	1	0,0746	0,2793	0,3826	0,3847	0,3355	0,2670	0,1977	0,1561	0,1373	0,0896	0,0548	0,0352	0,0313
2	2	0,0026	0,0515	0,1488	0,2376	0,2936	0,3115	0,2965	0,2731	0,2587	0,2090	0,1569	0,1183	0,1094
3	3	0,0001	0,0054	0,0331	0,0839	0,1468	0,2076	0,2541	0,2731	0,2786	0,2787	0,2568	0,2273	0,2188
4	4	0,0000	0,0004	0,0046	0,0185	0,0459	0,0865	0,1361	0,1707	0,1875	0,2322	0,2627	0,2730	0,2734
5	5	0,0000	0,0000	0,0004	0,0026	0,0092	0,0231	0,0467	0,0683	0,0808	0,1239	0,1719	0,2098	0,2188
6	6	0,0000	0,0000	0,0000	0,0002	0,0011	0,0038	0,0100	0,0171	0,0217	0,0413	0,0703	0,1008	0,1094
7	7	0,0000	0,0000	0,0000	0,0000	0,0001	0,0004	0,0012	0,0024	0,0033	0,0079	0,0164	0,0277	0,0313
8	8	0,0000	0,0000	0,0000	0,0000	0,0000	0,0000	0,0001	0,0002	0,0002	0,0007	0,0017	0,0033	0,0039
9	0	0,9135	0,6302	0,3874	0,2316	0,1342	0,0751	0,0404	0,0260	0,0207	0,0101	0,0046	0,0023	0,0020
1	1	0,0830	0,2985	0,3874	0,3679	0,3020	0,2253	0,1556	0,1171	0,1004	0,0605	0,0339	0,0202	0,0176

	<p align="center">Pruebas de acceso a enseñanzas universitarias oficiales de grado Castilla y León</p>	<p align="center">MATEMÁTICAS APLICADAS A LAS CIENCIAS SOCIALES</p>	<p align="center">EJERCICIO Nº Páginas: 2</p>
---	---	--	---

OPTATIVIDAD: EL ALUMNO DEBERÁ ESCOGER UNA DE LAS DOS OPCIONES Y DESARROLLAR LAS PREGUNTAS DE LA MISMA.

CRITERIOS GENERALES DE EVALUACIÓN:

Cada pregunta de la 1 a la 3 se puntuará sobre un máximo de 3 puntos. La pregunta 4 se puntuará sobre un máximo de 1 punto. La calificación final se obtiene sumando las puntuaciones de las cuatro preguntas. Deben figurar explícitamente las operaciones no triviales, de modo que puedan reconstruirse la argumentación lógica y los cálculos.

Opción A

1A- Se considera el sistema de ecuaciones:

$$\begin{cases} x - 2y + z = -1 \\ x + y + 3z = 4 \\ 5x - y + az = 10 \end{cases}$$

- a) Clasifica el sistema en función de sus posibles soluciones para los distintos valores del parámetro a .
- b) Resuelve el sistema para $a = 3$.

2A- Los beneficios en miles de euros obtenidos en un gimnasio inaugurado hace 5 años vienen dados por la función $f(x) = 2x^3 - 15x^2 + 24x + 26$, donde $x \in [0,5]$ es el tiempo, medido en años, que lleva funcionando el gimnasio desde su apertura.

- a) ¿En qué momento se alcanza el máximo beneficio y cuánto vale ese beneficio máximo?
- b) El cuarto año de funcionamiento se produce una renovación general de las instalaciones del gimnasio. Explica razonadamente, en términos de aumento del beneficio, si dicha renovación tuvo éxito.

3A- Según cierto estudio, el tiempo, medido en horas, que un alumno de Bachillerato estudia en la biblioteca semanalmente sigue una distribución normal con media μ y desviación típica 2.5. Al tomar una muestra aleatoria de 100 estudiantes, se obtuvo una media muestral de 6.5 horas.

- a) Suponiendo que la media poblacional es $\mu = 6.3$ horas, ¿es compatible el resultado muestral con ese valor poblacional, considerando un nivel de confianza del 95%?
- b) Para el mismo nivel de confianza y suponiendo μ desconocida, determina el tamaño muestral adecuado para que el error máximo cometido en su estimación sea de 0.1 horas.

4A- Sean A y B dos sucesos independientes, tal que $P(A) = 0.2$ y $P(A \cap B) = 0.16$. Halla la probabilidad de $\overline{A} \cap \overline{B}$.

Opción B

1B- En un taller textil se confeccionan 2 tipos de prendas: trajes y abrigos. Los trajes requieren 2 metros de lana y 1.25 metros de algodón y los abrigos requieren 1.5 metros de lana y 2.5 metros de algodón. Se disponen semanalmente de 300 metros de lana y de 350 metros de algodón, y esta semana deben fabricarse al menos 20 abrigos. Empleando técnicas de programación lineal, determina cuántos trajes y abrigos hay que hacer esta semana si se desea maximizar el beneficio obtenido, sabiendo que se ganan 250 euros por cada traje y 350 euros por cada abrigo. ¿A cuánto asciende dicho beneficio?

2B- Representa gráficamente la función $y = -2x^2 + ax - b$ sabiendo que alcanza su máximo en el punto $(2, 2)$. Calcula la ecuación de la recta tangente en el punto máximo.

3B- Una fábrica de piezas para aviones está organizada en tres secciones. La sección A fabrica el 30% de las piezas, la sección B el 35%, mientras que el resto se fabrican en la sección C. La probabilidad de encontrar una pieza defectuosa es del 0.01, 0.015 y 0.009 según se considere la sección A, B o C, respectivamente.

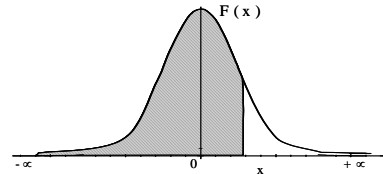
a) Calcula la probabilidad de que una pieza elegida al azar salga defectuosa de dicha fábrica.

b) Si elegida una pieza al azar es defectuosa, ¿qué probabilidad hay de que sea de la sección B?

4B- Se elige al azar un número de 4 cifras distintas escrito con las cifras 7, 2, 3 y 8. Calcula la probabilidad de que dicho número sea mayor que 7500.

Distribución Normal


$$F(x) = \frac{1}{\sqrt{2\pi}} \int_{-\infty}^x e^{-\frac{1}{2}t^2} dt$$



	0,00	0,01	0,02	0,03	0,04	0,05	0,06	0,07	0,08	0,09
0,0	0,5000	0,5040	0,5080	0,5120	0,5160	0,5199	0,5239	0,5279	0,5319	0,5359
0,1	0,5398	0,5438	0,5478	0,5517	0,5557	0,5596	0,5636	0,5675	0,5714	0,5753
0,2	0,5793	0,5832	0,5871	0,5910	0,5948	0,5987	0,6026	0,6064	0,6103	0,6141
0,3	0,6179	0,6217	0,6255	0,6293	0,6331	0,6368	0,6406	0,6443	0,6480	0,6517
0,4	0,6554	0,6591	0,6628	0,6664	0,6700	0,6736	0,6772	0,6808	0,6844	0,6879
0,5	0,6915	0,6950	0,6985	0,7019	0,7054	0,7088	0,7123	0,7157	0,7190	0,7224
0,6	0,7257	0,7291	0,7324	0,7357	0,7389	0,7422	0,7454	0,7486	0,7517	0,7549
0,7	0,7580	0,7611	0,7642	0,7673	0,7704	0,7734	0,7764	0,7794	0,7823	0,7852
0,8	0,7881	0,7910	0,7939	0,7967	0,7995	0,8023	0,8051	0,8078	0,8106	0,8133
0,9	0,8159	0,8186	0,8212	0,8238	0,8264	0,8289	0,8315	0,8340	0,8365	0,8389
1,0	0,8413	0,8438	0,8461	0,8485	0,8508	0,8531	0,8554	0,8577	0,8599	0,8621
1,1	0,8643	0,8665	0,8686	0,8708	0,8729	0,8749	0,8770	0,8790	0,8810	0,8830
1,2	0,8849	0,8869	0,8888	0,8907	0,8925	0,8944	0,8962	0,8980	0,8997	0,9014
1,3	0,9032	0,9049	0,9066	0,9082	0,9099	0,9115	0,9131	0,9147	0,9162	0,9177
1,4	0,9192	0,9207	0,9222	0,9236	0,9251	0,9265	0,9279	0,9292	0,9306	0,9318
1,5	0,9332	0,9345	0,9357	0,9370	0,9382	0,9394	0,9406	0,9418	0,9429	0,9441
1,6	0,9452	0,9463	0,9474	0,9484	0,9495	0,9505	0,9515	0,9525	0,9535	0,9545
1,7	0,9554	0,9564	0,9573	0,9582	0,9591	0,9599	0,9608	0,9616	0,9625	0,9633
1,8	0,9641	0,9649	0,9656	0,9664	0,9671	0,9678	0,9686	0,9693	0,9699	0,9706
1,9	0,9713	0,9719	0,9726	0,9732	0,9738	0,9744	0,9750	0,9756	0,9761	0,9767
2,0	0,9772	0,9778	0,9783	0,9788	0,9793	0,9798	0,9803	0,9808	0,9812	0,9817
2,1	0,9821	0,9826	0,9830	0,9834	0,9838	0,9842	0,9846	0,9850	0,9854	0,9857
2,2	0,9861	0,9864	0,9868	0,9871	0,9875	0,9878	0,9881	0,9884	0,9887	0,9890
2,3	0,9893	0,9896	0,9898	0,9901	0,9904	0,9906	0,9909	0,9911	0,9913	0,9916
2,4	0,9918	0,9920	0,9922	0,9925	0,9927	0,9929	0,9931	0,9932	0,9934	0,9936
2,5	0,9938	0,9940	0,9941	0,9943	0,9945	0,9946	0,9948	0,9949	0,9951	0,9952
2,6	0,9953	0,9955	0,9956	0,9957	0,9959	0,9960	0,9961	0,9962	0,9963	0,9964
2,7	0,9965	0,9966	0,9967	0,9968	0,9969	0,9970	0,9971	0,9972	0,9973	0,9974
2,8	0,9974	0,9975	0,9976	0,9977	0,9977	0,9978	0,9979	0,9979	0,9980	0,9981
2,9	0,9981	0,9982	0,9982	0,9983	0,9984	0,9984	0,9985	0,9985	0,9986	0,9986
3,0	0,9987	0,9987	0,9987	0,9988	0,9988	0,9989	0,9989	0,9989	0,9990	0,9990
3,1	0,9990	0,9991	0,9991	0,9991	0,9992	0,9992	0,9992	0,9992	0,9993	0,9993
3,2	0,9993	0,9993	0,9994	0,9994	0,9994	0,9994	0,9994	0,9995	0,9995	0,9995
3,3	0,9995	0,9995	0,9995	0,9996	0,9996	0,9996	0,9996	0,9996	0,9996	0,9997
3,4	0,9997	0,9997	0,9997	0,9997	0,9997	0,9997	0,9997	0,9997	0,9997	0,9998
3,5	0,9997	0,9997	0,9998	0,9998	0,9998	0,9998	0,9998	0,9998	0,9998	0,9998
3,6	0,9998	0,9998	0,9999	0,9999	0,9999	0,9999	0,9999	0,9999	0,9999	0,9999

Distribución Binomial $p(X = r) = \binom{n}{r} p^r (1-p)^{n-r}$

n	p	0,01	0,05	0,10	0,15	0,20	0,25	0,30	1/3	0,35	0,40	0,45	0,49	0,50
2	0	0,9801	0,9025	0,8100	0,7225	0,6400	0,5625	0,4900	0,4444	0,4225	0,3600	0,3025	0,2601	0,2500
1	0	0,0198	0,0975	0,1800	0,2550	0,3200	0,3750	0,4200	0,4444	0,4550	0,4800	0,4950	0,4998	0,5000
2	1	0,0001	0,0025	0,0100	0,0225	0,0400	0,0625	0,0900	0,1111	0,1225	0,1600	0,2025	0,2401	0,2500
3	0	0,9703	0,8574	0,7290	0,6141	0,5120	0,4219	0,3430	0,2963	0,2746	0,2160	0,1664	0,1327	0,1250
1	0	0,0294	0,1354	0,2430	0,3251	0,3840	0,4219	0,4410	0,4444	0,4436	0,4320	0,4084	0,3823	0,3750
2	0	0,0003	0,0071	0,0270	0,0574	0,0960	0,1406	0,1890	0,2222	0,2389	0,2880	0,3341	0,3674	0,3750
3	0	0,0000	0,0001	0,0010	0,0034	0,0080	0,0156	0,0270	0,0370	0,0429	0,0640	0,0911	0,1176	0,1250
4	0	0,9606	0,8145	0,6561	0,5220	0,4096	0,3164	0,2401	0,1975	0,1785	0,1296	0,0915	0,0677	0,0625
1	0	0,0388	0,1715	0,2916	0,3685	0,4096	0,4219	0,4116	0,3951	0,3845	0,3456	0,2995	0,2600	0,2500
2	0	0,0006	0,0135	0,0486	0,0975	0,1536	0,2109	0,2646	0,2963	0,3105	0,3456	0,3675	0,3747	0,3750
3	0	0,0000	0,0005	0,0036	0,0115	0,0256	0,0469	0,0756	0,0988	0,1115	0,1536	0,2005	0,2400	0,2500
4	0	0,0000	0,0000	0,0001	0,0005	0,0016	0,0039	0,0081	0,0123	0,0150	0,0256	0,0410	0,0576	0,0625
5	0	0,9510	0,7738	0,5905	0,4437	0,3277	0,2373	0,1681	0,1317	0,1160	0,0778	0,0503	0,0345	0,0313
1	0	0,0480	0,2036	0,3281	0,3915	0,4096	0,3955	0,3602	0,3292	0,3124	0,2592	0,2059	0,1657	0,1563
2	0	0,0010	0,0214	0,0729	0,1382	0,2048	0,2637	0,3087	0,3292	0,3364	0,3456	0,3369	0,3185	0,3125
3	0	0,0000	0,0011	0,0081	0,0244	0,0512	0,0879	0,1323	0,1646	0,1811	0,2304	0,2757	0,3060	0,3125
4	0	0,0000	0,0000	0,0005	0,0022	0,0064	0,0146	0,0284	0,0412	0,0488	0,0768	0,1128	0,1470	0,1563
5	0	0,0000	0,0000	0,0000	0,0001	0,0003	0,0010	0,0024	0,0041	0,0053	0,0102	0,0185	0,0282	0,0313
6	0	0,9415	0,7351	0,5314	0,3771	0,2621	0,1780	0,1176	0,0878	0,0754	0,0467	0,0277	0,0176	0,0156
1	0	0,0571	0,2321	0,3543	0,3993	0,3932	0,3560	0,3025	0,2634	0,2437	0,1866	0,1359	0,1014	0,0938
2	0	0,0014	0,0305	0,0984	0,1762	0,2458	0,2966	0,3241	0,3292	0,3280	0,3110	0,2780	0,2436	0,2344
3	0	0,0000	0,0021	0,0146	0,0415	0,0819	0,1318	0,1852	0,2195	0,2355	0,2765	0,3032	0,3121	0,3125
4	0	0,0000	0,0001	0,0012	0,0055	0,0154	0,0330	0,0595	0,0823	0,0951	0,1382	0,1861	0,2249	0,2344
5	0	0,0000	0,0000	0,0001	0,0004	0,0015	0,0044	0,0102	0,0165	0,0205	0,0369	0,0609	0,0864	0,0938
6	0	0,0000	0,0000	0,0000	0,0000	0,0001	0,0002	0,0007	0,0014	0,0018	0,0041	0,0083	0,0138	0,0156
7	0	0,9321	0,6983	0,4783	0,3206	0,2097	0,1335	0,0824	0,0585	0,0490	0,0280	0,0152	0,0090	0,0078
1	0	0,0659	0,2573	0,3720	0,3960	0,3670	0,3115	0,2471	0,2048	0,1848	0,1306	0,0872	0,0604	0,0547
2	0	0,0020	0,0406	0,1240	0,2097	0,2753	0,3115	0,3177	0,3073	0,2985	0,2613	0,2140	0,1740	0,1641
3	0	0,0000	0,0036	0,0230	0,0617	0,1147	0,1730	0,2269	0,2561	0,2679	0,2903	0,2918	0,2786	0,2734
4	0	0,0000	0,0002	0,0026	0,0109	0,0287	0,0577	0,0972	0,1280	0,1442	0,1935	0,2388	0,2676	0,2734
5	0	0,0000	0,0000	0,0002	0,0012	0,0043	0,0115	0,0250	0,0384	0,0466	0,0774	0,1172	0,1543	0,1641
6	0	0,0000	0,0000	0,0000	0,0001	0,0004	0,0013	0,0036	0,0064	0,0084	0,0172	0,0320	0,0494	0,0547
7	0	0,0000	0,0000	0,0000	0,0000	0,0000	0,0001	0,0002	0,0005	0,0006	0,0016	0,0037	0,0068	0,0078
8	0	0,9227	0,6634	0,4305	0,2725	0,1678	0,1001	0,0576	0,0390	0,0319	0,0168	0,0084	0,0046	0,0039
1	0	0,0746	0,2793	0,3826	0,3847	0,3355	0,2670	0,1977	0,1561	0,1373	0,0896	0,0548	0,0352	0,0313
2	0	0,0026	0,0515	0,1488	0,2376	0,2936	0,3115	0,2965	0,2731	0,2587	0,2090	0,1569	0,1183	0,1094
3	0	0,0001	0,0054	0,0331	0,0839	0,1468	0,2076	0,2541	0,2731	0,2786	0,2787	0,2568	0,2273	0,2188
4	0	0,0000	0,0004	0,0046	0,0185	0,0459	0,0865	0,1361	0,1707	0,1875	0,2322	0,2627	0,2730	0,2734
5	0	0,0000	0,0000	0,0004	0,0026	0,0092	0,0231	0,0467	0,0683	0,0808	0,1239	0,1719	0,2098	0,2188
6	0	0,0000	0,0000	0,0000	0,0002	0,0011	0,0038	0,0100	0,0171	0,0217	0,0413	0,0703	0,1008	0,1094
7	0	0,0000	0,0000	0,0000	0,0000	0,0001	0,0004	0,0012	0,0024	0,0033	0,0079	0,0164	0,0277	0,0313
8	0	0,0000	0,0000	0,0000	0,0000	0,0000	0,0000	0,0001	0,0002	0,0002	0,0007	0,0017	0,0033	0,0039
9	0	0,9135	0,6302	0,3874	0,2316	0,1342	0,0751	0,0404	0,0260	0,0207	0,0101	0,0046	0,0023	0,0020
1	0	0,0830	0,2985	0,3874	0,3679	0,3020	0,2253	0,1556	0,1171	0,1004	0,0605	0,0339	0,0202	0,0176

	<p align="center">Pruebas de acceso a enseñanzas universitarias oficiales de grado Castilla y León</p>	<p align="center">MATEMÁTICAS APLICADAS A LAS CIENCIAS SOCIALES</p>	<p align="center">EJERCICIO Nº Páginas: 2 y tablas</p>
---	---	--	--

OPTATIVIDAD: EL ALUMNO DEBERÁ ESCOGER UNA DE LAS DOS OPCIONES Y DESARROLLAR LAS PREGUNTAS DE LA MISMA.

CRITERIOS GENERALES DE EVALUACIÓN:

Cada pregunta de la 1 a la 3 se puntuará sobre un máximo de 3 puntos. La pregunta 4 se puntuará sobre un máximo de 1 punto. La calificación final se obtiene sumando las puntuaciones de las cuatro preguntas. Deben figurar explícitamente las operaciones no triviales, de modo que puedan reconstruirse la argumentación lógica y los cálculos.

Opción A

1A - Se considera el sistema lineal de ecuaciones

$$\begin{cases} x - 2y + z = 0 \\ 3x + 2y - 2z = 3 \\ 2x + 2y + az = 8 \end{cases}$$

- a) Clasifica el sistema según sus posibles soluciones, para los distintos valores de a .
b) Resuelve el sistema para $a = 4$.

2A- Un estudio realizado por una agencia especializada revela que el número de votantes censados en una comunidad autónoma española viene determinado, en millones de personas, por la función $f(t) = \frac{(t+10)^2 + 15}{(t+11)^2}$, donde t es el tiempo en años transcurridos desde el inicio del estudio, el 1 de enero de 1990.

- a) Calcula el número mínimo de votantes censados. ¿En qué año se alcanza ese mínimo?
b) Calcula el número de votantes censados que tendrá dicha comunidad a muy largo plazo.

3A- Una panadería elabora magdalenas caseras cuyos pesos siguen una distribución normal con media 40 gramos y desviación típica 5 gramos.

- a) Calcula el porcentaje de magdalenas que pesan más de 43 gramos.
b) Las magdalenas se empaquetan en bolsas de 20 magdalenas para su venta. El panadero considera aceptable una bolsa cuando su peso no supera los 820 gramos. ¿Cuál es la probabilidad de que una bolsa no sea aceptable?

4A- En una localidad llueve en 73 de los 365 días del año. ¿Cuál es la probabilidad de que llueva más de 2 días en una semana cualquiera?

Opción B

1B- Un comercio dispone de 60 unidades de un producto A por el que obtiene un beneficio por cada unidad que vende de 250 €. También dispone de 70 unidades de otro producto B por el que obtiene un beneficio por unidad vendida de 300 €. El comercio puede vender como máximo 100 unidades de sus productos. Utilizando técnicas de programación lineal, determina las unidades de los productos A y B que el comercio debe vender para que su beneficio sea máximo y calcula dicho beneficio.

2B- Se considera la función $f(x) = x^2 + ax + b$.

a) Determina los valores de a y b sabiendo que la función $f(x)$ tiene un mínimo en $x = 2$ y que su gráfica pasa por el punto $(2, -2)$.

b) Para $a = -4$ y $b = 6$ calcula el valor de la función $f(x)$ en el punto $x = -1$ y represéntala gráficamente.

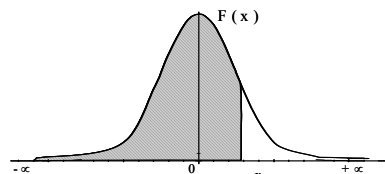
3B- El número de vuelos que llegan a un aeropuerto por la mañana es 120, por la tarde 150 y por la noche 30. El porcentaje de vuelos que se retrasan por la mañana es del 2%, por la tarde del 4% y por la noche de un 6%.

a) Calcula la probabilidad de que se retrase un vuelo con destino a este aeropuerto.

b) Si un vuelo llegó con retraso a este aeropuerto, ¿cuál es la probabilidad de que fuera un vuelo nocturno?

4B- La duración de una batería de móvil sigue una distribución normal de media 3 años y desviación típica 0.5 años. Calcula la probabilidad de que una batería dure entre 2 y 4 años.


Distribución Normal



	0,00	0,01	0,02	0,03	0,04	0,05	0,06	0,07	0,08	0,09
0,0	0,5000	0,5040	0,5080	0,5120	0,5160	0,5199	0,5239	0,5279	0,5319	0,5359
0,1	0,5398	0,5438	0,5478	0,5517	0,5557	0,5596	0,5636	0,5675	0,5714	0,5753
0,2	0,5793	0,5832	0,5871	0,5910	0,5948	0,5987	0,6026	0,6064	0,6103	0,6141
0,3	0,6179	0,6217	0,6255	0,6293	0,6331	0,6368	0,6406	0,6443	0,6480	0,6517
0,4	0,6554	0,6591	0,6628	0,6664	0,6700	0,6736	0,6772	0,6808	0,6844	0,6879
0,5	0,6915	0,6950	0,6985	0,7019	0,7054	0,7088	0,7123	0,7157	0,7190	0,7224
0,6	0,7257	0,7291	0,7324	0,7357	0,7389	0,7422	0,7454	0,7486	0,7517	0,7549
0,7	0,7580	0,7611	0,7642	0,7673	0,7704	0,7734	0,7764	0,7794	0,7823	0,7852
0,8	0,7881	0,7910	0,7939	0,7967	0,7995	0,8023	0,8051	0,8078	0,8106	0,8133
0,9	0,8159	0,8186	0,8212	0,8238	0,8264	0,8289	0,8315	0,8340	0,8365	0,8389
1,0	0,8413	0,8438	0,8461	0,8485	0,8508	0,8531	0,8554	0,8577	0,8599	0,8621
1,1	0,8643	0,8665	0,8686	0,8708	0,8729	0,8749	0,8770	0,8790	0,8810	0,8830
1,2	0,8849	0,8869	0,8888	0,8907	0,8925	0,8944	0,8962	0,8980	0,8997	0,9014
1,3	0,9032	0,9049	0,9066	0,9082	0,9099	0,9115	0,9131	0,9147	0,9162	0,9177
1,4	0,9192	0,9207	0,9222	0,9236	0,9251	0,9265	0,9279	0,9292	0,9306	0,9318
1,5	0,9332	0,9345	0,9357	0,9370	0,9382	0,9394	0,9406	0,9418	0,9429	0,9441
1,6	0,9452	0,9463	0,9474	0,9484	0,9495	0,9505	0,9515	0,9525	0,9535	0,9545
1,7	0,9554	0,9564	0,9573	0,9582	0,9591	0,9599	0,9608	0,9616	0,9625	0,9633
1,8	0,9641	0,9649	0,9656	0,9664	0,9671	0,9678	0,9686	0,9693	0,9699	0,9706
1,9	0,9713	0,9719	0,9726	0,9732	0,9738	0,9744	0,9750	0,9756	0,9761	0,9767
2,0	0,9772	0,9778	0,9783	0,9788	0,9793	0,9798	0,9803	0,9808	0,9812	0,9817
2,1	0,9821	0,9826	0,9830	0,9834	0,9838	0,9842	0,9846	0,9850	0,9854	0,9857
2,2	0,9861	0,9864	0,9868	0,9871	0,9875	0,9878	0,9881	0,9884	0,9887	0,9890
2,3	0,9893	0,9896	0,9898	0,9901	0,9904	0,9906	0,9909	0,9911	0,9913	0,9916
2,4	0,9918	0,9920	0,9922	0,9925	0,9927	0,9929	0,9931	0,9932	0,9934	0,9936
2,5	0,9938	0,9940	0,9941	0,9943	0,9945	0,9946	0,9948	0,9949	0,9951	0,9952
2,6	0,9953	0,9955	0,9956	0,9957	0,9959	0,9960	0,9961	0,9962	0,9963	0,9964
2,7	0,9965	0,9966	0,9967	0,9968	0,9969	0,9970	0,9971	0,9972	0,9973	0,9974
2,8	0,9974	0,9975	0,9976	0,9977	0,9977	0,9978	0,9979	0,9979	0,9980	0,9981
2,9	0,9981	0,9982	0,9982	0,9983	0,9984	0,9984	0,9985	0,9985	0,9986	0,9986
3,0	0,9987	0,9987	0,9987	0,9988	0,9988	0,9989	0,9989	0,9989	0,9990	0,9990
3,1	0,9990	0,9991	0,9991	0,9991	0,9992	0,9992	0,9992	0,9992	0,9993	0,9993
3,2	0,9993	0,9993	0,9994	0,9994	0,9994	0,9994	0,9994	0,9995	0,9995	0,9995
3,3	0,9995	0,9995	0,9995	0,9996	0,9996	0,9996	0,9996	0,9996	0,9996	0,9997
3,4	0,9997	0,9997	0,9997	0,9997	0,9997	0,9997	0,9997	0,9997	0,9997	0,9998
3,5	0,9997	0,9997	0,9998	0,9998	0,9998	0,9998	0,9998	0,9998	0,9998	0,9998
3,6	0,9998	0,9998	0,9999	0,9999	0,9999	0,9999	0,9999	0,9999	0,9999	0,9999

Distribución Binomial $p(X = r) = \binom{n}{r} p^r (1-p)^{n-r}$

n	r	0,01	0,05	0,10	0,15	0,20	0,25	0,30	1/3	0,35	0,40	0,45	0,49	0,50
2	0	0,9801	0,9025	0,8100	0,7225	0,6400	0,5625	0,4900	0,4444	0,4225	0,3600	0,3025	0,2601	0,2500
1	1	0,0198	0,0975	0,1900	0,2775	0,3200	0,3200	0,3750	0,4444	0,4550	0,4800	0,4950	0,4998	0,5000
2	2	0,0001	0,0025	0,0100	0,0225	0,0400	0,0625	0,0900	0,1111	0,1225	0,1600	0,2025	0,2401	0,2500
3	0	0,9703	0,8574	0,7290	0,6141	0,5120	0,4219	0,3430	0,2963	0,2746	0,2160	0,1664	0,1327	0,1250
1	1	0,0294	0,1354	0,2430	0,3251	0,3840	0,4219	0,4410	0,4444	0,4436	0,4320	0,4084	0,3823	0,3750
2	2	0,0003	0,0071	0,0270	0,0574	0,0960	0,1406	0,1890	0,2222	0,2389	0,2880	0,3341	0,3674	0,3750
3	3	0,0000	0,0001	0,0010	0,0034	0,0080	0,0156	0,0270	0,0370	0,0429	0,0640	0,0911	0,1176	0,1250
4	0	0,9606	0,8145	0,6561	0,5220	0,4096	0,3164	0,2401	0,1975	0,1785	0,1296	0,0915	0,0677	0,0625
1	1	0,0388	0,1715	0,2916	0,3685	0,4096	0,4219	0,4116	0,3951	0,3845	0,3456	0,2995	0,2600	0,2500
2	2	0,0006	0,0135	0,0486	0,0975	0,1536	0,2109	0,2646	0,2963	0,3105	0,3456	0,3675	0,3747	0,3750
3	3	0,0000	0,0005	0,0036	0,0115	0,0256	0,0469	0,0756	0,0988	0,1115	0,1536	0,2005	0,2400	0,2500
4	4	0,0000	0,0000	0,0001	0,0005	0,0016	0,0039	0,0081	0,0123	0,0150	0,0256	0,0410	0,0576	0,0625
5	0	0,9510	0,7738	0,5905	0,4437	0,3277	0,2373	0,1681	0,1317	0,1160	0,0778	0,0503	0,0345	0,0313
1	1	0,0480	0,2036	0,3281	0,3915	0,4096	0,3955	0,3602	0,3292	0,3124	0,2592	0,2059	0,1657	0,1563
2	2	0,0010	0,0214	0,0729	0,1382	0,2048	0,2637	0,3087	0,3292	0,3264	0,3456	0,3369	0,3185	0,3125
3	3	0,0000	0,0011	0,0081	0,0244	0,0512	0,0879	0,1323	0,1646	0,1811	0,2304	0,2757	0,3060	0,3125
4	4	0,0000	0,0000	0,0005	0,0022	0,0064	0,0146	0,0284	0,0412	0,0488	0,0768	0,1128	0,1470	0,1563
5	5	0,0000	0,0000	0,0000	0,0001	0,0003	0,0010	0,0024	0,0041	0,0053	0,0102	0,0185	0,0282	0,0313
6	0	0,9415	0,7351	0,5314	0,3771	0,2621	0,1780	0,1176	0,0878	0,0754	0,0467	0,0277	0,0176	0,0156
1	1	0,0571	0,2321	0,3543	0,3993	0,3932	0,3560	0,3025	0,2634	0,2437	0,1666	0,1359	0,1014	0,0938
2	2	0,0014	0,0305	0,0984	0,1762	0,2458	0,2966	0,3241	0,3292	0,3280	0,3110	0,2780	0,2436	0,2344
3	3	0,0000	0,0021	0,0146	0,0415	0,0819	0,1318	0,1852	0,2195	0,2355	0,2765	0,3032	0,3121	0,3125
4	4	0,0000	0,0001	0,0012	0,0055	0,0154	0,0330	0,0595	0,0823	0,0951	0,1382	0,1861	0,2249	0,2344
5	5	0,0000	0,0000	0,0001	0,0004	0,0015	0,0044	0,0102	0,0165	0,0205	0,0369	0,0609	0,0864	0,0938
6	6	0,0000	0,0000	0,0000	0,0000	0,0001	0,0002	0,0007	0,0014	0,0018	0,0041	0,0083	0,0138	0,0156
7	0	0,9321	0,6983	0,4783	0,3206	0,2097	0,1335	0,0824	0,0585	0,0490	0,0280	0,0152	0,0090	0,0078
1	1	0,0659	0,2573	0,3720	0,3960	0,3670	0,3115	0,2471	0,2048	0,1848	0,1306	0,0872	0,0604	0,0547
2	2	0,0020	0,0406	0,1240	0,2097	0,2753	0,3115	0,3177	0,3073	0,2985	0,2613	0,2140	0,1740	0,1641
3	3	0,0000	0,0036	0,0230	0,0617	0,1147	0,1730	0,2269	0,2561	0,2679	0,2903	0,2918	0,2786	0,2734
4	4	0,0000	0,0002	0,0026	0,0109	0,0287	0,0577	0,0972	0,1280	0,1442	0,1935	0,2388	0,2676	0,2734
5	5	0,0000	0,0000	0,0002	0,0012	0,0043	0,0115	0,0250	0,0384	0,0466	0,0774	0,1172	0,1543	0,1641
6	6	0,0000	0,0000	0,0000	0,0001	0,0004	0,0013	0,0036	0,0064	0,0084	0,0172	0,0320	0,0494	0,0547
7	7	0,0000	0,0000	0,0000	0,0000	0,0000	0,0001	0,0002	0,0005	0,0006	0,0016	0,0037	0,0068	0,0078
8	0	0,9227	0,6634	0,4305	0,2725	0,1678	0,1001	0,0576	0,0390	0,0319	0,0168	0,0084	0,0046	0,0039
1	1	0,0746	0,2793	0,3826	0,3847	0,3355	0,2670	0,1977	0,1561	0,1373	0,0896	0,0548	0,0352	0,0313
2	2	0,0026	0,0515	0,1488	0,2376	0,2936	0,3115	0,2965	0,2731	0,2587	0,2090	0,1569	0,1183	0,1094
3	3	0,0001	0,0054	0,0331	0,0839	0,1468	0,2076	0,2541	0,2731	0,2786	0,2787	0,2568	0,2273	0,2188
4	4	0,0000	0,0004	0,0046	0,0185	0,0459	0,0865	0,1361	0,1707	0,1875	0,2322	0,2627	0,2730	0,2734
5	5	0,0000	0,0000	0,0004	0,0026	0,0092	0,0231	0,0467	0,0683	0,0808	0,1239	0,1719	0,2098	0,2188
6	6	0,0000	0,0000	0,0000	0,0002	0,0011	0,0038	0,0100	0,0171	0,0217	0,0413	0,0703	0,1008	0,1094
7	7	0,0000	0,0000	0,0000	0,0000	0,0001	0,0004	0,0012	0,0024	0,0033	0,0079	0,0164	0,0277	0,0313
8	8	0,0000	0,0000	0,0000	0,0000	0,0000	0,0000	0,0001	0,0002	0,0002	0,0007	0,0017	0,0033	0,0039
9	0	0,9135	0,6302	0,3874	0,2316	0,1342	0,0751	0,0404	0,0260	0,0207	0,0101	0,0046	0,0023	0,0020
1	1	0,0830	0,2985	0,3874	0,3679	0,3020	0,2253	0,1556	0,1171	0,1004	0,0605	0,0339	0,0202	0,0176
2	2	0,0034	0,0629	0,1722	0,2597									

	<p align="center">Pruebas de acceso a enseñanzas universitarias oficiales de grado Castilla y León</p>	<p align="center">MATEMÁTICAS APLICADAS A LAS CIENCIAS SOCIALES</p>	<p align="center">EXAMEN</p> <p align="center">Nº Páginas: 2 y tablas</p>
---	---	--	--

OPTATIVIDAD: EL ALUMNO DEBERÁ ESCOGER UNA DE LAS DOS OPCIONES Y DESARROLLAR LAS PREGUNTAS DE LA MISMA.

CRITERIOS GENERALES DE EVALUACIÓN:

Cada pregunta de la 1 a la 3 se puntuará sobre un máximo de 3 puntos. La pregunta 4 se puntuará sobre un máximo de 1 punto. La calificación final se obtiene sumando las puntuaciones de las cuatro preguntas. Deben figurar explícitamente las operaciones no triviales, de modo que puedan reconstruirse la argumentación lógica y los cálculos.

Opción A

1A- Para realizar una excursión, un IESO no puede utilizar más de 5 autobuses de 55 plazas cada uno, ni más de 9 microbuses de 33 plazas cada uno. El coste de cada autobús se eleva a 500 euros, mientras que el coste de cada microbús es de 300 euros. Además, han de viajar 3 profesores en cada autobús y 2 en cada microbús. Si como mucho hay 27 profesores que pueden participar en la excursión y el coste del transporte no puede exceder los 4300 euros, utiliza técnicas de programación lineal para determinar el número de autobuses y microbuses que han de contratarse para que el número de alumnos que puedan ir de excursión sea máximo. ¿A cuánto asciende ese número de alumnos ?

2A- Calcula los valores de los parámetros a , b y c en la función $y = ax^3 - bx + c$, sabiendo que pasa por el origen de coordenadas y que tiene un máximo relativo en el punto (1,4).

3A- La probabilidad de que un socio de un club vaya a la playa de vacaciones es 0.9. Si el club tiene 60 socios, calcula, utilizando la aproximación a la distribución normal apropiada, la probabilidad de que como mucho 50 socios vayan a la playa de vacaciones.

4A- El 30% de los despidos laborales de una empresa son improcedentes. Si la empresa despide a 3 trabajadores hoy, ¿cuál es la probabilidad de que hoy ningún despido sea improcedente?

Opción B

1B- Una editorial va a lanzar al mercado tres ediciones L_1 , L_2 y L_3 de libros de bolsillo. Los costes por unidad de cada libro son 7, 5 y 6 euros, respectivamente. El coste total de las tres ediciones asciende a 37500 €. Se sabe que el número de ejemplares de L_3 es igual a dos séptimos del número de ejemplares de L_2 , y que, si al triple del número de ejemplares de L_1 se le suma el número de ejemplares de L_3 , se obtiene el doble del número de ejemplares de L_2 . Calcula cuántos libros de cada tipo se han editado.

2B- Consideramos la función $f(x) = \begin{cases} \frac{1}{x^2} + b & x \leq -1 \\ 3x^2 + 4 & -1 < x < 1 \\ -x^3 + 8 & x \geq 1 \end{cases}$

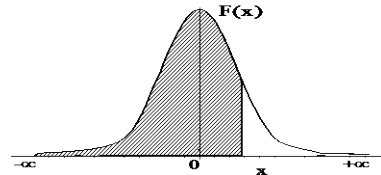
- Calcula el valor del parámetro b para que $f(x)$ sea continua.
- Para $b = 6$, estudia la derivabilidad de $f(x)$ en $[0, 2]$ y representa su gráfica.

3B- En una Escuela Politécnica se imparten tres grados: Grado en Arquitectura Técnica, Grado en Ingeniería Informática y Grado en Ingeniería Mecánica. Un estudio, realizado sobre 60 alumnos de cada grado, revela que han terminado sus estudios en cuatro años el 5% de los alumnos de Ingeniería Mecánica, el 30% de los alumnos de Ingeniería Informática y el 50% de los alumnos de Arquitectura Técnica. Se elige un estudiante al azar:

- Calcula la probabilidad de que haya terminado sus estudios en cuatro años.
- Calcula la probabilidad de que sea alumno de Ingeniería Mecánica y haya terminado sus estudios en cuatro años.

4B- El 78 % de los universitarios estudia inglés, el 23 % estudia alemán y el 15% estudia ambos idiomas. Calcula la probabilidad de encontrar un universitario que no estudie ninguno de los dos idiomas.


Distribución Normal



	0,00	0,01	0,02	0,03	0,04	0,05	0,06	0,07	0,08	0,09
0,0	0,5000	0,5040	0,5080	0,5120	0,5160	0,5199	0,5239	0,5279	0,5319	0,5359
0,1	0,5398	0,5438	0,5478	0,5517	0,5557	0,5596	0,5636	0,5675	0,5714	0,5753
0,2	0,5793	0,5832	0,5871	0,5910	0,5948	0,5987	0,6026	0,6064	0,6103	0,6141
0,3	0,6179	0,6217	0,6255	0,6293	0,6331	0,6368	0,6406	0,6443	0,6480	0,6517
0,4	0,6554	0,6591	0,6628	0,6664	0,6700	0,6736	0,6772	0,6808	0,6844	0,6879
0,5	0,6915	0,6950	0,6985	0,7019	0,7054	0,7088	0,7123	0,7157	0,7190	0,7224
0,6	0,7257	0,7291	0,7324	0,7357	0,7389	0,7422	0,7454	0,7486	0,7517	0,7549
0,7	0,7580	0,7611	0,7642	0,7673	0,7704	0,7734	0,7764	0,7794	0,7823	0,7852
0,8	0,7881	0,7910	0,7939	0,7967	0,7995	0,8023	0,8051	0,8078	0,8106	0,8133
0,9	0,8159	0,8186	0,8212	0,8238	0,8264	0,8289	0,8315	0,8340	0,8365	0,8389
1,0	0,8413	0,8438	0,8461	0,8485	0,8508	0,8531	0,8554	0,8577	0,8599	0,8621
1,1	0,8643	0,8665	0,8686	0,8708	0,8729	0,8749	0,8770	0,8790	0,8810	0,8830
1,2	0,8849	0,8869	0,8888	0,8907	0,8925	0,8944	0,8962	0,8980	0,8997	0,9014
1,3	0,9032	0,9049	0,9066	0,9082	0,9099	0,9115	0,9131	0,9147	0,9162	0,9177
1,4	0,9192	0,9207	0,9222	0,9236	0,9251	0,9265	0,9279	0,9292	0,9306	0,9318
1,5	0,9332	0,9345	0,9357	0,9370	0,9382	0,9394	0,9406	0,9418	0,9429	0,9441
1,6	0,9452	0,9463	0,9474	0,9484	0,9495	0,9505	0,9515	0,9525	0,9535	0,9545
1,7	0,9554	0,9564	0,9573	0,9582	0,9591	0,9599	0,9608	0,9616	0,9625	0,9633
1,8	0,9641	0,9649	0,9656	0,9664	0,9671	0,9678	0,9686	0,9693	0,9699	0,9706
1,9	0,9713	0,9719	0,9726	0,9732	0,9738	0,9744	0,9750	0,9756	0,9761	0,9767
2,0	0,9772	0,9778	0,9783	0,9788	0,9793	0,9798	0,9803	0,9808	0,9812	0,9817
2,1	0,9821	0,9826	0,9830	0,9834	0,9838	0,9842	0,9846	0,9850	0,9854	0,9857
2,2	0,9861	0,9864	0,9868	0,9871	0,9875	0,9878	0,9881	0,9884	0,9887	0,9890
2,3	0,9893	0,9896	0,9898	0,9901	0,9904	0,9906	0,9909	0,9911	0,9913	0,9916
2,4	0,9918	0,9920	0,9922	0,9925	0,9927	0,9929	0,9931	0,9932	0,9934	0,9936
2,5	0,9938	0,9940	0,9941	0,9943	0,9945	0,9946	0,9948	0,9949	0,9951	0,9952
2,6	0,9953	0,9955	0,9956	0,9957	0,9959	0,9960	0,9961	0,9962	0,9963	0,9964
2,7	0,9965	0,9966	0,9967	0,9968	0,9969	0,9970	0,9971	0,9972	0,9973	0,9974
2,8	0,9974	0,9975	0,9976	0,9977	0,9977	0,9978	0,9979	0,9979	0,9980	0,9981
2,9	0,9981	0,9982	0,9982	0,9983	0,9984	0,9984	0,9985	0,9985	0,9986	0,9986
3,0	0,9987	0,9987	0,9987	0,9988	0,9988	0,9989	0,9989	0,9989	0,9990	0,9990
3,1	0,9990	0,9991	0,9991	0,9991	0,9992	0,9992	0,9992	0,9992	0,9993	0,9993
3,2	0,9993	0,9993	0,9994	0,9994	0,9994	0,9994	0,9994	0,9995	0,9995	0,9995
3,3	0,9995	0,9995	0,9995	0,9996	0,9996	0,9996	0,9996	0,9996	0,9996	0,9997
3,4	0,9997	0,9997	0,9997	0,9997	0,9997	0,9997	0,9997	0,9997	0,9997	0,9998
3,5	0,9997	0,9997	0,9998	0,9998	0,9998	0,9998	0,9998	0,9998	0,9998	0,9998
3,6	0,9998	0,9998	0,9999	0,9999	0,9999	0,9999	0,9999	0,9999	0,9999	0,9999

Distribución Binomial $p(X=r) = \binom{n}{r} p^r (1-p)^{n-r}$

n	r	0,01	0,05	0,10	0,15	0,20	0,25	0,30	1/3	0,35	0,40	0,45	0,49	0,50
2	0	0,9801	0,9025	0,8100	0,7225	0,6400	0,5625	0,4900	0,4444	0,4225	0,3600	0,3025	0,2601	0,2500
1	0	0,0198	0,0950	0,1800	0,2550	0,3200	0,3750	0,4200	0,4444	0,4550	0,4800	0,4950	0,4998	0,5000
2	0	0,0001	0,0025	0,0100	0,0225	0,0400	0,0625	0,0900	0,1111	0,1225	0,1600	0,2025	0,2401	0,2500
3	0	0,9703	0,8574	0,7290	0,6141	0,5120	0,4219	0,3430	0,2963	0,2746	0,2160	0,1664	0,1327	0,1250
1	0	0,0294	0,1354	0,2430	0,3251	0,3840	0,4219	0,4410	0,4444	0,4436	0,4320	0,4084	0,3823	0,3750
2	0	0,0003	0,0071	0,0270	0,0574	0,0960	0,1406	0,1890	0,2222	0,2389	0,2880	0,3341	0,3674	0,3750
3	0	0,0000	0,0001	0,0010	0,0034	0,0080	0,0156	0,0270	0,0370	0,0429	0,0640	0,0911	0,1176	0,1250
4	0	0,9606	0,8145	0,6561	0,5220	0,4096	0,3164	0,2401	0,1975	0,1785	0,1296	0,0915	0,0677	0,0625
1	0	0,0388	0,1715	0,2916	0,3685	0,4096	0,4219	0,4116	0,3951	0,3845	0,3456	0,2995	0,2600	0,2500
2	0	0,0006	0,0135	0,0486	0,0975	0,1536	0,2109	0,2646	0,2963	0,3105	0,3456	0,3675	0,3747	0,3750
3	0	0,0000	0,0005	0,0036	0,0115	0,0256	0,0469	0,0756	0,0988	0,1115	0,1536	0,2005	0,2400	0,2500
4	0	0,0000	0,0000	0,0001	0,0005	0,0016	0,0039	0,0081	0,0123	0,0150	0,0256	0,0410	0,0576	0,0625
5	0	0,9510	0,7738	0,5905	0,4437	0,3277	0,2373	0,1681	0,1317	0,1160	0,0778	0,0503	0,0345	0,0313
1	0	0,0480	0,2036	0,3281	0,3915	0,4096	0,3955	0,3602	0,3292	0,3124	0,2592	0,2059	0,1657	0,1563
2	0	0,0010	0,0214	0,0729	0,1382	0,2048	0,2637	0,3087	0,3292	0,3364	0,3456	0,3369	0,3185	0,3125
3	0	0,0000	0,0011	0,0081	0,0244	0,0512	0,0879	0,1323	0,1646	0,1811	0,2304	0,2757	0,3060	0,3125
4	0	0,0000	0,0000	0,0005	0,0022	0,0064	0,0146	0,0284	0,0412	0,0488	0,0768	0,1128	0,1470	0,1563
5	0	0,0000	0,0000	0,0000	0,0001	0,0003	0,0010	0,0024	0,0041	0,0053	0,0102	0,0185	0,0282	0,0313
6	0	0,9415	0,7351	0,5314	0,3771	0,2621	0,1780	0,1176	0,0878	0,0754	0,0467	0,0277	0,0176	0,0156
1	0	0,0571	0,2321	0,3543	0,3993	0,3932	0,3560	0,3025	0,2634	0,2437	0,1866	0,1359	0,1014	0,0938
2	0	0,0014	0,0305	0,0984	0,1762	0,2458	0,2966	0,3241	0,3292	0,3280	0,3110	0,2780	0,2436	0,2344
3	0	0,0000	0,0021	0,0146	0,0415	0,0819	0,1318	0,1852	0,2195	0,2355	0,2765	0,3032	0,3121	0,3125
4	0	0,0000	0,0001	0,0012	0,0055	0,0154	0,0330	0,0595	0,0823	0,0951	0,1382	0,1861	0,2249	0,2344
5	0	0,0000	0,0000	0,0001	0,0004	0,0015	0,0044	0,0102	0,0165	0,0205	0,0369	0,0609	0,0864	0,0938
6	0	0,0000	0,0000	0,0000	0,0000	0,0001	0,0002	0,0007	0,0014	0,0018	0,0041	0,0083	0,0138	0,0156
7	0	0,9321	0,6983	0,4783	0,3206	0,2097	0,1335	0,0824	0,0585	0,0490	0,0280	0,0152	0,0090	0,0078
1	0	0,0659	0,2573	0,3720	0,3960	0,3670	0,3115	0,2471	0,2048	0,1848	0,1306	0,0872	0,0604	0,0547
2	0	0,0020	0,0406	0,1240	0,2097	0,2753	0,3115	0,3177	0,3073	0,2985	0,2613	0,2140	0,1740	0,1641
3	0	0,0000	0,0036	0,0230	0,0617	0,1147	0,1730	0,2269	0,2561	0,2679	0,2903	0,2918	0,2786	0,2734
4	0	0,0000	0,0002	0,0026	0,0109	0,0287	0,0577	0,0972	0,1280	0,1442	0,1935	0,2388	0,2676	0,2734
5	0	0,0000	0,0000	0,0002	0,0012	0,0043	0,0115	0,0250	0,0384	0,0466	0,0774	0,1172	0,1543	0,1641
6	0	0,0000	0,0000	0,0000	0,0001	0,0004	0,0013	0,0036	0,0064	0,0084	0,0172	0,0320	0,0494	0,0547
7	0	0,0000	0,0000	0,0000	0,0000	0,0000	0,0001	0,0002	0,0005	0,0006	0,0016	0,0037	0,0068	0,0078
8	0	0,9227	0,6634	0,4305	0,2725	0,1678	0,1001	0,0576	0,0390	0,0319	0,0168	0,0084	0,0046	0,0039
1	0	0,0746	0,2793	0,3826	0,3847	0,3355	0,2670	0,1977	0,1561	0,1373	0,0896	0,0548	0,0352	0,0313
2	0	0,0026	0,0515	0,1488	0,2376	0,2936	0,3115	0,2965	0,2731	0,2587	0,2090	0,1569	0,1183	0,1094
3	0	0,0001	0,0054	0,0331	0,0839	0,1468	0,2076	0,2541	0,2731	0,2786	0,2787	0,2568	0,2273	0,2188
4	0	0,0000	0,0004	0,0046	0,0185	0,0459	0,0865	0,1361	0,1707	0,1875	0,2322	0,2627	0,2730	0,2734
5	0	0,0000	0,0000	0,0004	0,0026	0,0092	0,0231	0,0467	0,0683	0,0808	0,1239	0,1719	0,2098	0,2188
6	0	0,0000	0,0000	0,0000	0,0002	0,0011	0,0038	0,0100	0,0171	0,0217	0,0413	0,0703	0,1008	0,1094
7	0	0,0000	0,0000	0,0000	0,0000	0,0001	0,0004	0,0012	0,0024	0,0033	0,0079	0,0164	0,0277	0,0313
8	0	0,0000	0,0000	0,0000	0,0000	0,0000	0,0000	0,0001	0,0002	0,0002	0,0007	0,0017	0,0033	0,0039
9	0	0,9135	0,6302	0,3874	0,2316	0,1342	0,0751	0,0404	0,0260	0,0207	0,0101	0,0046	0,0023	0,0020
1	0	0,0830	0,2985	0,3874	0,3679	0,3020	0,2253	0,1556	0,1171	0,1004	0,0605	0,0339	0,0202	0,0176
2	0	0,0034	0,0629	0,1722	0,2597	0,3020	0,3003	0,2668	0,2341					

	<p align="center">Evaluación de Bachillerato para Acceder a Estudios Universitarios Castilla y León</p>	<p align="center">MATEMÁTICAS APLICADAS A LAS CIENCIAS SOCIALES</p>	<p align="center">EXAMEN Nº Páginas: 2 y tabla</p>
---	--	--	--

OPTATIVIDAD: EL ALUMNO DEBERÁ ESCOGER UNA DE LAS DOS OPCIONES Y DESARROLLAR LAS PREGUNTAS DE LA MISMA.

CRITERIOS GENERALES DE EVALUACIÓN

Cada pregunta de la 1 a la 3 se puntuará sobre un máximo de 3 puntos. La pregunta 4 se puntuará sobre un máximo de 1 punto. La calificación final se obtiene sumando las puntuaciones de las cuatro preguntas. Deben figurar explícitamente las operaciones no triviales, de modo que puedan reconstruirse la argumentación lógica y los cálculos. Salvo que se especifique lo contrario, los apartados que figuran en los distintos problemas son equipuntuables.

Opción A

1A - Se considera el sistema de ecuaciones lineales, dependiente del parámetro real a

$$\begin{cases} x - y = -1 \\ 2x - y + z = 3 \\ y - az = 2 \end{cases}$$

- Clasifica el sistema según su número de soluciones para los distintos valores de a .
- Resuelve el sistema para $a = 2$.

2A- La función:

$$f(x) = \begin{cases} 20x^2 - 20x + 32 & 0 < x \leq 1 \\ \frac{90x - 45}{x + 8} + 27 & x > 1 \end{cases}$$

representa el beneficio, en miles de euros, de cierta empresa transcurridos x meses.

- Estudia razonadamente la continuidad de la función $f(x)$.
- Halla los intervalos donde se produce un aumento del beneficio y una disminución del beneficio. ¿En qué momento el beneficio es mínimo?
- Determina el beneficio de la empresa a muy largo plazo.

3A- La lista electoral de un determinado partido político está formada por un número igual de hombres y mujeres. Un análisis sociológico de dichas listas revela que el 60% de los hombres tienen 40 o más años de edad, mientras que el 30% de las mujeres tienen menos de 40 años. Se elige al azar una persona que forma parte de las listas electorales.

- Calcula la probabilidad de que tenga menos de 40 años.
- Sabiendo que tiene 40 o más años de edad, calcula la probabilidad de que sea mujer.

4A- El diámetro de las piezas fabricadas por cierta máquina sigue una distribución normal con desviación típica poblacional $\sigma = 0.042$ cm. Se elige una muestra representativa de 200 piezas fabricadas por la máquina, resultando un diámetro medio muestral de 0.824 cm. Halla el intervalo de confianza al 95% para el diámetro medio poblacional de las piezas fabricadas por esa máquina.

Opción B

1B- Queremos conseguir al menos 210 kg de hidratos de carbono y al menos 100 kg de proteínas adquiriendo dos alimentos A y B que sólo contienen estos dos nutrientes. Cada kg de A contiene 0.6 kg de hidratos de carbono y 0.4 kg de proteínas. Cada kg de B contiene 0.9 kg de hidratos de carbono y 0.1 kg de proteínas. Si los costes de A y B son 12 y 6 euros por kg, respectivamente, utiliza técnicas de programación lineal para calcular cuántos kg de cada alimento hay que adquirir para que el coste sea mínimo. ¿A cuánto asciende ese coste mínimo?


2B-

- a) Calcula el valor de a que hace que el valor de la derivada de la función $y = ax^3 + 6x^2 - ax - 18$, en los puntos de abscisa $x = -2$ y $x = 1$, sean iguales.
- b) Sabiendo que la curva $y = ax^3 + 6x^2 - ax - 18$ pasa por el punto $(2, 12)$, calcula el valor de a y las coordenadas del punto de la curva donde se anula la segunda derivada.

3B- El gasto por cliente en un supermercado sigue una distribución normal con media μ euros (desconocida) y desviación típica $\sigma = 10$ euros. Se elige una muestra representativa de 225 clientes, resultando una suma total de sus gastos de 2587.50 euros.

- a) Determina un intervalo de confianza del 99% para el gasto medio por cliente.
- b) Calcula el tamaño mínimo de la muestra de clientes que permita alcanzar, con una confianza del 95%, un error máximo de 1.20 euros en la estimación del gasto medio por cliente.

4B- En una clase con 15 alumnos de segundo de bachillerato, 2 alumnos están jugando al mus y 5 están jugando al tute, mientras que el resto de alumnos no está jugando a las cartas. Si se eligen al azar dos alumnos, ¿qué probabilidad hay de que ninguno de los elegidos estén jugando a las cartas?

	<p align="center">Evaluación de Bachillerato para Acceder a Estudios Universitarios Castilla y León</p>	<p align="center">MATEMÁTICAS APLICADAS A LAS CIENCIAS SOCIALES</p>	<p align="center">EXAMEN Nº Páginas: 2 y tabla</p>
---	--	--	--

OPTATIVIDAD: EL ALUMNO DEBERÁ ESCOGER UNA DE LAS DOS OPCIONES Y DESARROLLAR LAS PREGUNTAS DE LA MISMA.

CRITERIOS GENERALES DE EVALUACIÓN

Cada pregunta de la 1 a la 3 se puntuará sobre un máximo de 3 puntos. La pregunta 4 se puntuará sobre un máximo de 1 punto. La calificación final se obtiene sumando las puntuaciones de las cuatro preguntas. Deben figurar explícitamente las operaciones no triviales, de modo que puedan reconstruirse la argumentación lógica y los cálculos. Salvo que se especifique lo contrario, los apartados que figuran en los distintos problemas son equipuntuables.

Opción A

1A- Los trabajadores de un taller artesano elaboran collares y pulseras de bisutería. En la elaboración de un collar se tardan 2 horas, mientras que se emplea 1 hora en la elaboración de una pulsera. Los materiales de los que disponen les permiten fabricar como mucho 50 piezas (entre collares y pulseras) y el tiempo dedicado a su elaboración no puede exceder de 80 horas. Sabiendo que obtienen un beneficio de 5 euros por la venta de un collar y de 4 euros por la venta de una pulsera, utiliza técnicas de programación lineal para calcular el número de collares y pulseras que tienen que elaborar para que su beneficio sea máximo. ¿A cuánto asciende dicho beneficio máximo?

2A- Se considera la función $f(x) = \begin{cases} 4 - x & \text{si } x < 4 \\ x^2 - 16 & \text{si } x \geq 4 \end{cases}$

- Estudia razonadamente la continuidad de $f(x)$.
- Analiza el crecimiento y decrecimiento de $f(x)$.

3A- Se quiere estimar el sueldo medio de un trabajador. Para ello se selecciona una muestra de 625 trabajadores y se obtiene un sueldo medio muestral de 1480 €. El sueldo de un trabajador es una variable aleatoria con distribución normal y desviación típica σ igual a 250 €

- Halla el intervalo de confianza del 90% para el sueldo medio de un trabajador.
- Si se quiere que el error máximo de la estimación del sueldo medio de un trabajador sea de 10 € con una confianza del 99%, halla el tamaño mínimo de la muestra que se debe elegir.

4A- El 40% de los internautas utiliza *Dropbox* o *Google Drive* para almacenar archivos en la nube. Sabiendo que el 25 % emplea *Dropbox* y el 20 % emplea *Google Drive*, ¿qué porcentaje de internautas emplea ambos?

Opción B

1B- Se considera el sistema de ecuaciones lineales, en función del parámetro a :

$$\begin{cases} x + 3y + z = 1 \\ 3x + y + (a - 1)z = 3 \\ x + y + z = 4 \end{cases}$$

- Clasifica el sistema según sus soluciones para los diferentes valores de a .
- Resuelve el sistema para $a = 3$.

2B- Se espera que en los próximos diez años, los beneficios (en millones de euros) de una empresa, vengan dados por la función $P(t) = t^2 - 10t + 16$, donde $t \in (0, 10]$ es el tiempo transcurrido en años desde el momento inicial.

- Determina en qué momento del tiempo los beneficios serán de 16 millones de euros.
- Determina en qué momento los beneficios serán mínimos.

3B- Una cadena de supermercados envasa tres variedades de queso en paquetes al vacío, en las proporciones que se indican: curado (45%), semicurado (30%) y tierno (25%). Parte del queso que recibe es de importación, concretamente, el 25% del queso curado, el 23% del semicurado y el 20% del tierno. Se elige al azar un paquete de queso.

- ¿Cuál es la probabilidad de que no sea de importación?
- Si el queso elegido es de importación, ¿qué probabilidad tiene de ser curado?

4B- La probabilidad de que un alumno de Matemáticas apruebe un examen tipo test es del 80%, mientras que la probabilidad de que apruebe un examen de problemas es del 60%. Si la probabilidad de aprobar los dos exámenes es del 50%, calcula la probabilidad de que no apruebe ninguno de los dos exámenes.

