	<p align="center"><b>Pruebas de Acceso a enseñanzas universitarias oficiales de grado</b> Castilla y León</p>	<p align="center"><b>MATEMÁTICAS APLICADAS A LAS CIENCIAS SOCIALES</b></p>	<p align="center"><b>EJERCICIO</b>  Nº Páginas: 2 Tablas</p>
---	---	--	--

**OPTATIVIDAD:** EL ALUMNO DEBERÁ ESCOGER UNA DE LAS DOS OPCIONES Y DESARROLLAR LAS PREGUNTAS DE LA MISMA.

**CRITERIOS GENERALES DE EVALUACIÓN:**

Cada pregunta de la 1 a la 3 se puntuará sobre un máximo de 3 puntos. La pregunta 4 se puntuará sobre un máximo de 1 punto. La calificación final se obtiene sumando las puntuaciones de las cuatro preguntas. Deben figurar explícitamente las operaciones no triviales, de modo que puedan reconstruirse la argumentación lógica y los cálculos efectuados por el alumno.

**Opción A**

**1A-** Discute y resuelve según los distintos valores del parámetro  $a$  el siguiente sistema de ecuaciones:

$$\begin{cases} a^2x + a^3y + az = 1 \\ x + a^2y + z = 0 \end{cases} .$$

**2A-** Una panadería se dedica a la elaboración y venta de magdalenas caseras. El coste en euros de producir diariamente  $x$  kg de magdalenas viene dado por la función  $f(x) = 0.02x^3 - 0.3x^2 + \frac{35}{6}x$ . El precio de venta de 1 kg de magdalenas es 5 euros.

- a) Determina la función de beneficio neto diario de la panadería por la producción de las magdalenas. ¿Cuál es el beneficio del panadero si en un día elabora y vende exactamente 5 kg de magdalenas?
- b) Halla la cantidad de magdalenas que debe elaborar diariamente para conseguir el mayor beneficio. ¿Cuál es el beneficio máximo que puede alcanzar al día por la elaboración y venta de magdalenas?

**3A-** En una cofradía de Semana Santa el 60% de sus miembros son mujeres; la mitad de ellas y el 20% de los varones participaron en una procesión. Se elige al azar un miembro de la cofradía.

- a) ¿Cuál es la probabilidad de que sea uno de los participantes en la procesión?
- b) Si la persona elegida no estuvo en la procesión, ¿cuál es la probabilidad de que se trate de una mujer?

**4A-** Se elige al azar un número de 4 cifras distintas escrito con las cifras 1, 2, 3 y 4. Calcula la probabilidad de que en dicho número las cifras 2 y 3 aparezcan seguidas y en el orden 23.

## Opción B

**1B-** En un hipermercado se realiza el recuento de caja al final de cierto día. En monedas de 10, 20 y 50 céntimos de euro, el importe total obtenido asciende a 500 euros. Por otro lado, se sabe que 200 euros corresponden, conjuntamente, a las monedas de 10 y 20 céntimos. Si en total se cuentan 1800 monedas, ¿cuántas monedas debe haber de 10, 20 y 50 céntimos para que la caja cuadre?

**2B-** Dada la función  $f(x) = \frac{(x-3)^2}{x+3}$ .

- Calcula sus asíntotas.
- Determina sus intervalos de crecimiento, sus máximos y sus mínimos.

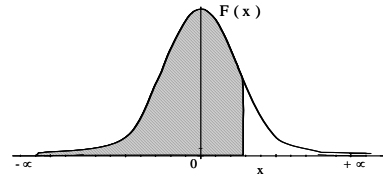
**3B-** La temperatura del cuerpo humano sigue una distribución normal de media 37 °C y desviación típica de 0.5 °C.

- Halla la probabilidad de que la temperatura de una persona esté comprendida entre 36.5 °C y 37.5 °C.
- Si elegimos una muestra de 25 personas, ¿cuál es la probabilidad de que la media de sus temperaturas sea mayor que 36.7 °C?

**4B-** En un grupo de danza hay 7 mujeres y 12 hombres. Si se escogen tres personas al azar, halla la probabilidad de que se seleccionen 2 mujeres y un hombre.

Distribución Normal


$$F(x) = \frac{1}{\sqrt{2\pi}} \int_{-\infty}^x e^{-\frac{1}{2}t^2} dt$$



	0,00	0,01	0,02	0,03	0,04	0,05	0,06	0,07	0,08	0,09
<b>0,0</b>	0,5000	0,5040	0,5080	0,5120	0,5160	0,5199	0,5239	0,5279	0,5319	0,5359
<b>0,1</b>	0,5398	0,5438	0,5478	0,5517	0,5557	0,5596	0,5636	0,5675	0,5714	0,5753
<b>0,2</b>	0,5793	0,5832	0,5871	0,5910	0,5948	0,5987	0,6026	0,6064	0,6103	0,6141
<b>0,3</b>	0,6179	0,6217	0,6255	0,6293	0,6331	0,6368	0,6406	0,6443	0,6480	0,6517
<b>0,4</b>	0,6554	0,6591	0,6628	0,6664	0,6700	0,6736	0,6772	0,6808	0,6844	0,6879
<b>0,5</b>	0,6915	0,6950	0,6985	0,7019	0,7054	0,7088	0,7123	0,7157	0,7190	0,7224
<b>0,6</b>	0,7257	0,7291	0,7324	0,7357	0,7389	0,7422	0,7454	0,7486	0,7517	0,7549
<b>0,7</b>	0,7580	0,7611	0,7642	0,7673	0,7704	0,7734	0,7764	0,7794	0,7823	0,7852
<b>0,8</b>	0,7881	0,7910	0,7939	0,7967	0,7995	0,8023	0,8051	0,8078	0,8106	0,8133
<b>0,9</b>	0,8159	0,8186	0,8212	0,8238	0,8264	0,8289	0,8315	0,8340	0,8365	0,8389
<b>1,0</b>	0,8413	0,8438	0,8461	0,8485	0,8508	0,8531	0,8554	0,8577	0,8599	0,8621
<b>1,1</b>	0,8643	0,8665	0,8686	0,8708	0,8729	0,8749	0,8770	0,8790	0,8810	0,8830
<b>1,2</b>	0,8849	0,8869	0,8888	0,8907	0,8925	0,8944	0,8962	0,8980	0,8997	0,9014
<b>1,3</b>	0,9032	0,9049	0,9066	0,9082	0,9099	0,9115	0,9131	0,9147	0,9162	0,9177
<b>1,4</b>	0,9192	0,9207	0,9222	0,9236	0,9251	0,9265	0,9279	0,9292	0,9306	0,9318
<b>1,5</b>	0,9332	0,9345	0,9357	0,9370	0,9382	0,9394	0,9406	0,9418	0,9429	0,9441
<b>1,6</b>	0,9452	0,9463	0,9474	0,9484	0,9495	0,9505	0,9515	0,9525	0,9535	0,9545
<b>1,7</b>	0,9554	0,9564	0,9573	0,9582	0,9591	0,9599	0,9608	0,9616	0,9625	0,9633
<b>1,8</b>	0,9641	0,9649	0,9656	0,9664	0,9671	0,9678	0,9686	0,9693	0,9699	0,9706
<b>1,9</b>	0,9713	0,9719	0,9726	0,9732	0,9738	0,9744	0,9750	0,9756	0,9761	0,9767
<b>2,0</b>	0,9772	0,9778	0,9783	0,9788	0,9793	0,9798	0,9803	0,9808	0,9812	0,9817
<b>2,1</b>	0,9821	0,9826	0,9830	0,9834	0,9838	0,9842	0,9846	0,9850	0,9854	0,9857
<b>2,2</b>	0,9861	0,9864	0,9868	0,9871	0,9875	0,9878	0,9881	0,9884	0,9887	0,9890
<b>2,3</b>	0,9893	0,9896	0,9898	0,9901	0,9904	0,9906	0,9909	0,9911	0,9913	0,9916
<b>2,4</b>	0,9918	0,9920	0,9922	0,9925	0,9927	0,9929	0,9931	0,9932	0,9934	0,9936
<b>2,5</b>	0,9938	0,9940	0,9941	0,9943	0,9945	0,9946	0,9948	0,9949	0,9951	0,9952
<b>2,6</b>	0,9953	0,9955	0,9956	0,9957	0,9959	0,9960	0,9961	0,9962	0,9963	0,9964
<b>2,7</b>	0,9965	0,9966	0,9967	0,9968	0,9969	0,9970	0,9971	0,9972	0,9973	0,9974
<b>2,8</b>	0,9974	0,9975	0,9976	0,9977	0,9977	0,9978	0,9979	0,9979	0,9980	0,9981
<b>2,9</b>	0,9981	0,9982	0,9982	0,9983	0,9984	0,9984	0,9985	0,9985	0,9986	0,9986
<b>3,0</b>	0,9987	0,9987	0,9987	0,9988	0,9988	0,9989	0,9989	0,9989	0,9990	0,9990
<b>3,1</b>	0,9990	0,9991	0,9991	0,9991	0,9992	0,9992	0,9992	0,9992	0,9993	0,9993
<b>3,2</b>	0,9993	0,9993	0,9994	0,9994	0,9994	0,9994	0,9994	0,9995	0,9995	0,9995
<b>3,3</b>	0,9995	0,9995	0,9995	0,9996	0,9996	0,9996	0,9996	0,9996	0,9996	0,9997
<b>3,4</b>	0,9997	0,9997	0,9997	0,9997	0,9997	0,9997	0,9997	0,9997	0,9997	0,9998
<b>3,5</b>	0,9997	0,9997	0,9998	0,9998	0,9998	0,9998	0,9998	0,9998	0,9998	0,9998
<b>3,6</b>	0,9998	0,9998	0,9999	0,9999	0,9999	0,9999	0,9999	0,9999	0,9999	0,9999

Distribución Binomial  $p(X = r) = \binom{n}{r} p^r (1-p)^{n-r}$

n	p	0,01	0,05	0,10	0,15	0,20	0,25	0,30	1/3	0,35	0,40	0,45	0,49	0,50
2	0	0,9801	0,9025	0,8100	0,7225	0,6400	0,5625	0,4900	0,4444	0,4225	0,3600	0,3025	0,2601	0,2500
2	1	0,0198	0,0975	0,1800	0,2550	0,3200	0,3750	0,4200	0,4444	0,4550	0,4800	0,4950	0,4998	0,5000
2	2	0,0001	0,0025	0,0100	0,0225	0,0400	0,0625	0,0900	0,1111	0,1225	0,1600	0,2025	0,2401	0,2500
3	0	0,9703	0,8574	0,7290	0,6141	0,5120	0,4219	0,3430	0,2963	0,2746	0,2160	0,1664	0,1327	0,1250
3	1	0,0294	0,1354	0,2430	0,3251	0,3840	0,4219	0,4410	0,4444	0,4436	0,4320	0,4084	0,3823	0,3750
3	2	0,0003	0,0071	0,0270	0,0574	0,0960	0,1406	0,1890	0,2222	0,2389	0,2880	0,3341	0,3674	0,3750
3	3	0,0000	0,0001	0,0010	0,0034	0,0080	0,0156	0,0270	0,0370	0,0429	0,0640	0,0911	0,1176	0,1250
4	0	0,9606	0,8145	0,6561	0,5220	0,4096	0,3164	0,2401	0,1975	0,1785	0,1296	0,0915	0,0677	0,0625
4	1	0,0388	0,1715	0,2916	0,3685	0,4096	0,4219	0,4116	0,3951	0,3845	0,3456	0,2995	0,2600	0,2500
4	2	0,0006	0,0135	0,0486	0,0975	0,1536	0,2109	0,2646	0,2963	0,3105	0,3456	0,3675	0,3747	0,3750
4	3	0,0000	0,0005	0,0036	0,0115	0,0256	0,0469	0,0756	0,0988	0,1115	0,1536	0,2005	0,2400	0,2500
4	4	0,0000	0,0000	0,0001	0,0005	0,0016	0,0039	0,0081	0,0123	0,0150	0,0256	0,0410	0,0576	0,0625
5	0	0,9510	0,7738	0,5905	0,4437	0,3277	0,2373	0,1681	0,1317	0,1160	0,0778	0,0503	0,0345	0,0313
5	1	0,0480	0,2036	0,3281	0,3915	0,4096	0,3955	0,3602	0,3292	0,3124	0,2592	0,2059	0,1657	0,1563
5	2	0,0010	0,0214	0,0729	0,1382	0,2048	0,2637	0,3087	0,3292	0,3364	0,3456	0,3369	0,3185	0,3125
5	3	0,0000	0,0011	0,0081	0,0244	0,0512	0,0879	0,1323	0,1646	0,1811	0,2304	0,2757	0,3060	0,3125
5	4	0,0000	0,0000	0,0005	0,0022	0,0064	0,0146	0,0284	0,0412	0,0488	0,0768	0,1128	0,1470	0,1563
5	5	0,0000	0,0000	0,0000	0,0001	0,0003	0,0010	0,0024	0,0041	0,0053	0,0102	0,0185	0,0282	0,0313
6	0	0,9415	0,7351	0,5314	0,3771	0,2621	0,1780	0,1176	0,0878	0,0754	0,0467	0,0277	0,0176	0,0156
6	1	0,0571	0,2321	0,3543	0,3993	0,3932	0,3560	0,3025	0,2634	0,2437	0,1866	0,1359	0,1014	0,0938
6	2	0,0014	0,0305	0,0984	0,1762	0,2458	0,2966	0,3241	0,3292	0,3280	0,3110	0,2780	0,2436	0,2344
6	3	0,0000	0,0021	0,0146	0,0415	0,0819	0,1318	0,1852	0,2195	0,2355	0,2765	0,3032	0,3121	0,3125
6	4	0,0000	0,0001	0,0012	0,0055	0,0154	0,0330	0,0595	0,0823	0,0951	0,1382	0,1861	0,2249	0,2344
6	5	0,0000	0,0000	0,0001	0,0004	0,0015	0,0044	0,0102	0,0165	0,0205	0,0369	0,0609	0,0864	0,0938
6	6	0,0000	0,0000	0,0000	0,0000	0,0001	0,0002	0,0007	0,0014	0,0018	0,0041	0,0083	0,0138	0,0156
7	0	0,9321	0,6983	0,4783	0,3206	0,2097	0,1335	0,0824	0,0585	0,0490	0,0280	0,0152	0,0090	0,0078
7	1	0,0659	0,2573	0,3720	0,3960	0,3670	0,3115	0,2471	0,2048	0,1848	0,1306	0,0872	0,0604	0,0547
7	2	0,0020	0,0406	0,1240	0,2097	0,2753	0,3115	0,3177	0,3073	0,2985	0,2613	0,2140	0,1740	0,1641
7	3	0,0000	0,0036	0,0230	0,0617	0,1147	0,1730	0,2269	0,2561	0,2679	0,2903	0,2918	0,2786	0,2734
7	4	0,0000	0,0002	0,0026	0,0109	0,0287	0,0577	0,0972	0,1280	0,1442	0,1935	0,2388	0,2676	0,2734
7	5	0,0000	0,0000	0,0002	0,0012	0,0043	0,0115	0,0250	0,0384	0,0466	0,0774	0,1172	0,1543	0,1641
7	6	0,0000	0,0000	0,0000	0,0001	0,0004	0,0013	0,0036	0,0064	0,0084	0,0172	0,0320	0,0494	0,0547
7	7	0,0000	0,0000	0,0000	0,0000	0,0000	0,0001	0,0002	0,0005	0,0006	0,0016	0,0037	0,0068	0,0078
8	0	0,9227	0,6634	0,4305	0,2725	0,1678	0,1001	0,0576	0,0390	0,0319	0,0168	0,0084	0,0046	0,0039
8	1	0,0746	0,2793	0,3826	0,3847	0,3355	0,2670	0,1977	0,1561	0,1373	0,0896	0,0548	0,0352	0,0313
8	2	0,0026	0,0515	0,1488	0,2376	0,2936	0,3115	0,2965	0,2731	0,2587	0,2090	0,1569	0,1183	0,1094
8	3	0,0001	0,0054	0,0331	0,0839	0,1468	0,2076	0,2541	0,2731	0,2786	0,2787	0,2568	0,2273	0,2188
8	4	0,0000	0,0004	0,0046	0,0185	0,0459	0,0865	0,1361	0,1707	0,1875	0,2322	0,2627	0,2730	0,2734
8	5	0,0000	0,0000	0,0004	0,0026	0,0092	0,0231	0,0467	0,0683	0,0808	0,1239	0,1719	0,2098	0,2188
8	6	0,0000	0,0000	0,0000	0,0002	0,0011	0,0038	0,0100	0,0171	0,0217	0,0413	0,0703	0,1008	0,1094
8	7	0,0000	0,0000	0,0000	0,0000	0,0001	0,0004	0,0012	0,0024	0,0033	0,0079	0,0164	0,0277	0,0313
8	8	0,0000	0,0000	0,0000	0,0000	0,0000	0,0000	0,0001	0,0002	0,0002	0,0007	0,0017	0,0033	0,0039
9	0	0,9135	0,6302	0,3874	0,2316	0,1342	0,0751	0,0404	0,0260	0,0207	0,0101	0,0046	0,0023	0,0020
9	1	0,0830	0,2985	0,3874	0,3679	0,3020	0,2253	0,1556	0,1171	0,1004	0,0605	0,0339	0,0202	0,0176
9	2	0,0034	0,0629	0,172										

	<p align="center"><b>Pruebas de Acceso a enseñanzas universitarias oficiales de grado</b> Castilla y León</p>	<p align="center"><b>MATEMÁTICAS APLICADAS A LAS CIENCIAS SOCIALES</b></p>	<p align="center"><b>EJERCICIO</b>  Nº Páginas: 2 Tablas</p>
---	---	--	--

**OPTATIVIDAD:** EL ALUMNO DEBERÁ ESCOGER UNA DE LAS DOS OPCIONES Y DESARROLLAR LAS PREGUNTAS DE LA MISMA.

**CRITERIOS GENERALES DE EVALUACIÓN:**

Cada pregunta de la 1 a la 3 se puntuará sobre un máximo de 3 puntos. La pregunta 4 se puntuará sobre un máximo de 1 punto. La calificación final se obtiene sumando las puntuaciones de las cuatro preguntas. Deben figurar explícitamente las operaciones no triviales, de modo que puedan reconstruirse la argumentación lógica y los cálculos efectuados por el alumno.

**Opción A**

**1A-** Se considera el siguiente sistema de ecuaciones:

$$\begin{cases} x - 2y + z = 0 \\ 3x + 2y - 2z = 4 \\ 8x + 8y + az = 8 \end{cases}$$

- a) Clasifica el sistema en función de sus posibles soluciones para los distintos valores del parámetro  $a$ .  
b) Halla todas sus soluciones para  $a = -3$ .

**2A-** Los beneficios diarios de una fábrica, en miles de euros, vienen dados por la función  $f(x) = -x^2 + 24x - 100$ , donde  $x$  indica el número de unidades que se producen al día.

- a) Calcula el número de unidades que han de producirse diariamente para obtener el máximo beneficio.  
b) Calcula el máximo beneficio que puede obtenerse en un día.

**3A-** El censo realizado en una comunidad autónoma española determina que el 40% de la población inmigrante procede del norte de África, el 20 % procede de países asiáticos y el resto procede de los países de Sudamérica. Además, el 50% de los procedentes del norte de África, el 25% de los procedentes de Asia y el 65% de los procedentes de Sudamérica están en situación administrativa legal.

- a) Elegido un inmigrante al azar, ¿cuál es la probabilidad de que su situación administrativa sea legal?  
b) Elegido un inmigrante en situación administrativa ilegal, ¿cuál es la probabilidad de que proceda de Sudamérica?

**4A-** Sean  $A$  y  $B$  dos sucesos independientes con probabilidades  $P(A) = 0.2$  y  $P(B) = 0.5$ . Calcula  $P(\overline{A \cup B})$ .

## Opción B

**1B-** En una quesería se producen dos tipos de queso de leche de oveja: fresco y curado. La elaboración de un queso curado requiere 6 litros de leche de oveja y la de un queso fresco 3 litros. La ganancia por la venta de un queso fresco es 10 euros y por la de uno curado es 30 euros. Se sabe que la quesería dispone diariamente de 1800 litros de leche de oveja y su capacidad de producción es de 500 quesos diarios. Debido a la demanda, la producción de queso fresco debe ser al menos el doble que la de queso curado.

Utiliza técnicas de programación lineal para encontrar la producción de quesos que hace máxima la ganancia diaria total de la fábrica por la venta de quesos, así como dicha ganancia máxima.

**2B-** Sea una función  $f(x)$  de la que se conoce su derivada  $f'(x) = x^2 - 1$ .

- Representa gráficamente  $f'(x)$ .
- Deduce de la gráfica los intervalos de crecimiento de  $f(x)$ .
- Halla la abscisa de los puntos máximos y mínimos de  $f(x)$ .

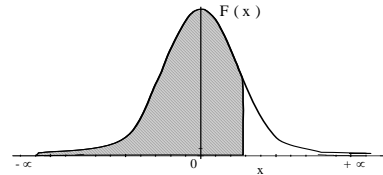
**3B-** En un almacén hay un gran número de cajas. El peso de cada una de ellas es una variable aleatoria con distribución normal de media 50 kg y desviación típica 5 kg.

- Halla el porcentaje de cajas que pesan entre 50 y 55 kg.
- Para transportar las cajas se dispone de un camión que tiene autorizado un peso máximo de 2000 kg en total. ¿Cuál es la probabilidad de que el camión soporte la carga de 41 cajas sin exponerse a superar el peso máximo autorizado?

**4B-** En cierto instituto aprueba la asignatura de filosofía el 80% de los alumnos. ¿Cuál es la probabilidad de que de un grupo de 8 alumnos elegidos al azar hayan aprobado 6 alumnos?

Distribución Normal


$$F(x) = \frac{1}{\sqrt{2\pi}} \int_{-\infty}^x e^{-\frac{1}{2}t^2} dt$$



	0,00	0,01	0,02	0,03	0,04	0,05	0,06	0,07	0,08	0,09
<b>0,0</b>	0,5000	0,5040	0,5080	0,5120	0,5160	0,5199	0,5239	0,5279	0,5319	0,5359
<b>0,1</b>	0,5398	0,5438	0,5478	0,5517	0,5557	0,5596	0,5636	0,5675	0,5714	0,5753
<b>0,2</b>	0,5793	0,5832	0,5871	0,5910	0,5948	0,5987	0,6026	0,6064	0,6103	0,6141
<b>0,3</b>	0,6179	0,6217	0,6255	0,6293	0,6331	0,6368	0,6406	0,6443	0,6480	0,6517
<b>0,4</b>	0,6554	0,6591	0,6628	0,6664	0,6700	0,6736	0,6772	0,6808	0,6844	0,6879
<b>0,5</b>	0,6915	0,6950	0,6985	0,7019	0,7054	0,7088	0,7123	0,7157	0,7190	0,7224
<b>0,6</b>	0,7257	0,7291	0,7324	0,7357	0,7389	0,7422	0,7454	0,7486	0,7517	0,7549
<b>0,7</b>	0,7580	0,7611	0,7642	0,7673	0,7704	0,7734	0,7764	0,7794	0,7823	0,7852
<b>0,8</b>	0,7881	0,7910	0,7939	0,7967	0,7995	0,8023	0,8051	0,8078	0,8106	0,8133
<b>0,9</b>	0,8159	0,8186	0,8212	0,8238	0,8264	0,8289	0,8315	0,8340	0,8365	0,8389
<b>1,0</b>	0,8413	0,8438	0,8461	0,8485	0,8508	0,8531	0,8554	0,8577	0,8599	0,8621
<b>1,1</b>	0,8643	0,8665	0,8686	0,8708	0,8729	0,8749	0,8770	0,8790	0,8810	0,8830
<b>1,2</b>	0,8849	0,8869	0,8888	0,8907	0,8925	0,8944	0,8962	0,8980	0,8997	0,9014
<b>1,3</b>	0,9032	0,9049	0,9066	0,9082	0,9099	0,9115	0,9131	0,9147	0,9162	0,9177
<b>1,4</b>	0,9192	0,9207	0,9222	0,9236	0,9251	0,9265	0,9279	0,9292	0,9306	0,9318
<b>1,5</b>	0,9332	0,9345	0,9357	0,9370	0,9382	0,9394	0,9406	0,9418	0,9429	0,9441
<b>1,6</b>	0,9452	0,9463	0,9474	0,9484	0,9495	0,9505	0,9515	0,9525	0,9535	0,9545
<b>1,7</b>	0,9554	0,9564	0,9573	0,9582	0,9591	0,9599	0,9608	0,9616	0,9625	0,9633
<b>1,8</b>	0,9641	0,9649	0,9656	0,9664	0,9671	0,9678	0,9686	0,9693	0,9699	0,9706
<b>1,9</b>	0,9713	0,9719	0,9726	0,9732	0,9738	0,9744	0,9750	0,9756	0,9761	0,9767
<b>2,0</b>	0,9772	0,9778	0,9783	0,9788	0,9793	0,9798	0,9803	0,9808	0,9812	0,9817
<b>2,1</b>	0,9821	0,9826	0,9830	0,9834	0,9838	0,9842	0,9846	0,9850	0,9854	0,9857
<b>2,2</b>	0,9861	0,9864	0,9868	0,9871	0,9875	0,9878	0,9881	0,9884	0,9887	0,9890
<b>2,3</b>	0,9893	0,9896	0,9898	0,9901	0,9904	0,9906	0,9909	0,9911	0,9913	0,9916
<b>2,4</b>	0,9918	0,9920	0,9922	0,9925	0,9927	0,9929	0,9931	0,9932	0,9934	0,9936
<b>2,5</b>	0,9938	0,9940	0,9941	0,9943	0,9945	0,9946	0,9948	0,9949	0,9951	0,9952
<b>2,6</b>	0,9953	0,9955	0,9956	0,9957	0,9959	0,9960	0,9961	0,9962	0,9963	0,9964
<b>2,7</b>	0,9965	0,9966	0,9967	0,9968	0,9969	0,9970	0,9971	0,9972	0,9973	0,9974
<b>2,8</b>	0,9974	0,9975	0,9976	0,9977	0,9977	0,9978	0,9979	0,9979	0,9980	0,9981
<b>2,9</b>	0,9981	0,9982	0,9982	0,9983	0,9984	0,9984	0,9985	0,9985	0,9986	0,9986
<b>3,0</b>	0,9987	0,9987	0,9987	0,9988	0,9988	0,9989	0,9989	0,9989	0,9990	0,9990
<b>3,1</b>	0,9990	0,9991	0,9991	0,9991	0,9992	0,9992	0,9992	0,9992	0,9993	0,9993
<b>3,2</b>	0,9993	0,9993	0,9994	0,9994	0,9994	0,9994	0,9994	0,9995	0,9995	0,9995
<b>3,3</b>	0,9995	0,9995	0,9995	0,9996	0,9996	0,9996	0,9996	0,9996	0,9996	0,9997
<b>3,4</b>	0,9997	0,9997	0,9997	0,9997	0,9997	0,9997	0,9997	0,9997	0,9997	0,9998
<b>3,5</b>	0,9997	0,9997	0,9998	0,9998	0,9998	0,9998	0,9998	0,9998	0,9998	0,9998
<b>3,6</b>	0,9998	0,9998	0,9999	0,9999	0,9999	0,9999	0,9999	0,9999	0,9999	0,9999

Distribución Binomial  $p(X = r) = \binom{n}{r} p^r (1-p)^{n-r}$

n	p	0,01	0,05	0,10	0,15	0,20	0,25	0,30	1/3	0,35	0,40	0,45	0,49	0,50
2	0	0,9801	0,9025	0,8100	0,7225	0,6400	0,5625	0,4900	0,4444	0,4225	0,3600	0,3025	0,2601	0,2500
2	1	0,0198	0,0975	0,1800	0,2550	0,3200	0,3750	0,4200	0,4444	0,4550	0,4800	0,4950	0,4998	0,5000
2	2	0,0001	0,0025	0,0100	0,0225	0,0400	0,0625	0,0900	0,1111	0,1225	0,1600	0,2025	0,2401	0,2500
3	0	0,9703	0,8574	0,7290	0,6141	0,5120	0,4219	0,3430	0,2963	0,2746	0,2160	0,1664	0,1327	0,1250
3	1	0,0294	0,1354	0,2430	0,3251	0,3840	0,4219	0,4410	0,4444	0,4436	0,4320	0,4084	0,3823	0,3750
3	2	0,0003	0,0071	0,0270	0,0574	0,0960	0,1406	0,1890	0,2222	0,2389	0,2880	0,3341	0,3674	0,3750
3	3	0,0000	0,0001	0,0010	0,0034	0,0080	0,0156	0,0270	0,0370	0,0429	0,0640	0,0911	0,1176	0,1250
4	0	0,9606	0,8145	0,6561	0,5220	0,4096	0,3164	0,2401	0,1975	0,1785	0,1296	0,0915	0,0677	0,0625
4	1	0,0388	0,1715	0,2916	0,3685	0,4096	0,4219	0,4116	0,3951	0,3845	0,3456	0,2995	0,2600	0,2500
4	2	0,0006	0,0135	0,0486	0,0975	0,1536	0,2109	0,2646	0,2963	0,3105	0,3456	0,3675	0,3747	0,3750
4	3	0,0000	0,0005	0,0036	0,0115	0,0256	0,0469	0,0756	0,0988	0,1115	0,1536	0,2005	0,2400	0,2500
4	4	0,0000	0,0000	0,0001	0,0005	0,0016	0,0039	0,0081	0,0123	0,0150	0,0256	0,0410	0,0576	0,0625
5	0	0,9510	0,7738	0,5905	0,4437	0,3277	0,2373	0,1681	0,1317	0,1160	0,0778	0,0503	0,0345	0,0313
5	1	0,0480	0,2036	0,3281	0,3915	0,4096	0,3955	0,3602	0,3292	0,3124	0,2592	0,2059	0,1657	0,1563
5	2	0,0010	0,0214	0,0729	0,1382	0,2048	0,2637	0,3087	0,3292	0,3364	0,3456	0,3369	0,3185	0,3125
5	3	0,0000	0,0011	0,0081	0,0244	0,0512	0,0879	0,1323	0,1646	0,1811	0,2304	0,2757	0,3060	0,3125
5	4	0,0000	0,0000	0,0005	0,0022	0,0064	0,0146	0,0284	0,0412	0,0488	0,0768	0,1128	0,1470	0,1563
5	5	0,0000	0,0000	0,0000	0,0001	0,0003	0,0010	0,0024	0,0041	0,0053	0,0102	0,0185	0,0282	0,0313
6	0	0,9415	0,7351	0,5314	0,3771	0,2621	0,1780	0,1176	0,0878	0,0754	0,0467	0,0277	0,0176	0,0156
6	1	0,0571	0,2321	0,3543	0,3993	0,3932	0,3560	0,3025	0,2634	0,2437	0,1866	0,1359	0,1014	0,0938
6	2	0,0014	0,0305	0,0984	0,1762	0,2458	0,2966	0,3241	0,3292	0,3280	0,3110	0,2780	0,2436	0,2344
6	3	0,0000	0,0021	0,0146	0,0415	0,0819	0,1318	0,1852	0,2195	0,2355	0,2765	0,3032	0,3121	0,3125
6	4	0,0000	0,0001	0,0012	0,0055	0,0154	0,0330	0,0595	0,0823	0,0951	0,1382	0,1861	0,2249	0,2344
6	5	0,0000	0,0000	0,0001	0,0004	0,0015	0,0044	0,0102	0,0165	0,0205	0,0369	0,0609	0,0864	0,0938
6	6	0,0000	0,0000	0,0000	0,0000	0,0001	0,0002	0,0007	0,0014	0,0018	0,0041	0,0083	0,0138	0,0156
7	0	0,9321	0,6983	0,4783	0,3206	0,2097	0,1335	0,0824	0,0585	0,0490	0,0280	0,0152	0,0090	0,0078
7	1	0,0659	0,2573	0,3720	0,3960	0,3670	0,3115	0,2471	0,2048	0,1848	0,1306	0,0872	0,0604	0,0547
7	2	0,0020	0,0406	0,1240	0,2097	0,2753	0,3115	0,3177	0,3073	0,2985	0,2613	0,2140	0,1740	0,1641
7	3	0,0000	0,0036	0,0230	0,0617	0,1147	0,1730	0,2269	0,2561	0,2679	0,2903	0,2918	0,2786	0,2734
7	4	0,0000	0,0002	0,0026	0,0109	0,0287	0,0577	0,0972	0,1280	0,1442	0,1935	0,2388	0,2676	0,2734
7	5	0,0000	0,0000	0,0002	0,0012	0,0043	0,0115	0,0250	0,0384	0,0466	0,0774	0,1172	0,1543	0,1641
7	6	0,0000	0,0000	0,0000	0,0001	0,0004	0,0013	0,0036	0,0064	0,0084	0,0172	0,0320	0,0494	0,0547
7	7	0,0000	0,0000	0,0000	0,0000	0,0000	0,0001	0,0002	0,0005	0,0006	0,0016	0,0037	0,0068	0,0078
8	0	0,9227	0,6634	0,4305	0,2725	0,1678	0,1001	0,0576	0,0390	0,0319	0,0168	0,0084	0,0046	0,0039
8	1	0,0746	0,2793	0,3826	0,3847	0,3355	0,2610	0,1977	0,1561	0,1373	0,0896	0,0548	0,0352	0,0313
8	2	0,0026	0,0515	0,1488	0,2376	0,2936	0,3115	0,2965	0,2731	0,2587	0,2090	0,1569	0,1183	0,1094
8	3	0,0001	0,0054	0,0331	0,0839	0,1468	0,2076	0,2541	0,2731	0,2786	0,2787	0,2568	0,2273	0,2188
8	4	0,0000	0,0004	0,0046	0,0185	0,0459	0,0865	0,1361	0,1707	0,1875	0,2322	0,2627	0,2730	0,2734
8	5	0,0000	0,0000	0,0004	0,0026	0,0092	0,0231	0,0467	0,0683	0,0808	0,1239	0,1719	0,2098	0,2188
8	6	0,0000	0,0000	0,0000	0,0002	0,0011	0,0038	0,0100	0,0171	0,0217	0,0413	0,0703	0,1008	0,1094
8	7	0,0000	0,0000	0,0000	0,0000	0,0001	0,0004	0,0012	0,0024	0,0033	0,0079	0,0164	0,0277	0,0313
8	8	0,0000	0,0000	0,0000	0,0000	0,0000	0,0000	0,0001	0,0002	0,0002	0,0007	0,0017	0,0033	0,0039
9	0	0,9135	0,6302	0,3874	0,2316	0,1342	0,0751	0,0404	0,0260	0,0207	0,0101	0,0046	0,0023	0,0020
9	1	0,0830	0,2985	0,3874	0,3679	0,3020	0,2253	0,1556	0,1171	0,1004	0,0605	0,0339	0,0202	0,0176
9	2	0,0034	0,0629	0										

	<p align="center"><b>Pruebas de Acceso a enseñanzas universitarias oficiales de grado</b> Castilla y León</p>	<p align="center"><b>MATEMÁTICAS APLICADAS A LAS CIENCIAS SOCIALES</b></p>	<p align="center"><b>EJERCICIO</b>  Nº Páginas: 2 Tablas</p>
---	---	--	--

**OPTATIVIDAD:** EL ALUMNO DEBERÁ ESCOGER UNA DE LAS DOS OPCIONES Y DESARROLLAR LAS PREGUNTAS DE LA MISMA.

**CRITERIOS GENERALES DE EVALUACIÓN:**

Cada pregunta de la 1 a la 3 se puntuará sobre un máximo de 3 puntos. La pregunta 4 se puntuará sobre un máximo de 1 punto. La calificación final se obtiene sumando las puntuaciones de las cuatro preguntas. Deben figurar explícitamente las operaciones no triviales, de modo que puedan reconstruirse la argumentación lógica y los cálculos efectuados por el alumno.

**Opción A**

**1A-** En un aparcamiento hay 24 coches aparcados, de color blanco, rojo o gris. El número de coches grises es igual al doble del número de coches rojos.

- a) ¿Es posible saber, con estos datos, el número de coches blancos que hay aparcados? Razona tu respuesta.  
b) Si además se sabe que la mitad de coches son rojos o grises, ¿cuántos coches hay de cada color?

**2A-** El rendimiento de una máquina, a lo largo de las 7 horas que permanece en funcionamiento cada día, viene dado por la función  $f(x) = x^3 - 10.5x^2 + 30x$ , donde  $x \in (0,7)$  indica el número de horas transcurridas desde que la máquina se pone en marcha.

- a) Determina en qué momento se produce el máximo y el mínimo rendimiento.  
b) Calcula el rendimiento de la máquina en esos dos momentos del día.

**3A-** Un envío de frutas a un supermercado consta de naranjas y manzanas que se agrupan en cajones de 500 piezas: 300 naranjas y 200 manzanas. Por experiencias anteriores se sabe que en cada envío están estropeadas un 15% de las naranjas y un 5% de las manzanas. Se extrae una pieza al azar de un cajón cualquiera.

- a) ¿Cuál es la probabilidad de que esté estropeada?  
b) Si la pieza elegida está en buenas condiciones, ¿qué es más probable, que sea naranja o que sea manzana?

**4A-** El 75% de los alumnos de un instituto practican algún deporte, el 30% tocan un instrumento musical y el 15% realica ambas actividades. Calcula la probabilidad de que un alumno del instituto elegido al azar no realice ninguna de las dos actividades.

## Opción B

**1B-** Sea la matriz  $A = \begin{pmatrix} 0 & 1 & 2 \\ 2 & -1 & 1 \\ 0 & 0 & -1 \end{pmatrix}$

a) Halla  $A^2 - A + I^2$  donde  $I$  es la matriz identidad.

b) Plantea y resuelve un sistema de ecuaciones lineal homogéneo que tenga a  $A$  como matriz asociada.

**2B-** Halla la expresión de la función  $f(x)$  polinómica de grado 3, sabiendo que tiene un mínimo relativo en el punto  $(1, 1)$ , que su derivada  $f'(x)$  tiene una raíz en el punto de abscisa  $x = -3$  y que corta al eje de ordenadas en el punto  $(0, 11)$ .

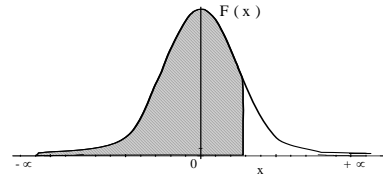
**3B-** Una Universidad pública recibe 800 solicitudes de acceso para uno de los Grados en los que la oferta de plazas se reduce a 120. Sabiendo que la nota final, de un solicitante, después de las pruebas de acceso sigue una distribución normal de media 7.3 y desviación típica 0.7, calcula la nota mínima para obtener una de las 120 plazas ofertadas.

**4B-** Un examen de oposición consiste en desarrollar por escrito un tema de un total de 50. El tribunal elige al azar 2 temas y cada candidato debe escoger uno de ellos. Halla la probabilidad de que un candidato suspenda el examen si tan sólo ha estudiado 35 temas.



Distribución Normal


$$F(x) = \frac{1}{\sqrt{2\pi}} \int_{-\infty}^x e^{-\frac{1}{2}t^2} dt$$



	0,00	0,01	0,02	0,03	0,04	0,05	0,06	0,07	0,08	0,09
<b>0,0</b>	0,5000	0,5040	0,5080	0,5120	0,5160	0,5199	0,5239	0,5279	0,5319	0,5359
<b>0,1</b>	0,5398	0,5438	0,5478	0,5517	0,5557	0,5596	0,5636	0,5675	0,5714	0,5753
<b>0,2</b>	0,5793	0,5832	0,5871	0,5910	0,5948	0,5987	0,6026	0,6064	0,6103	0,6141
<b>0,3</b>	0,6179	0,6217	0,6255	0,6293	0,6331	0,6368	0,6406	0,6443	0,6480	0,6517
<b>0,4</b>	0,6554	0,6591	0,6628	0,6664	0,6700	0,6736	0,6772	0,6808	0,6844	0,6879
<b>0,5</b>	0,6915	0,6950	0,6985	0,7019	0,7054	0,7088	0,7123	0,7157	0,7190	0,7224
<b>0,6</b>	0,7257	0,7291	0,7324	0,7357	0,7389	0,7422	0,7454	0,7486	0,7517	0,7549
<b>0,7</b>	0,7580	0,7611	0,7642	0,7673	0,7704	0,7734	0,7764	0,7794	0,7823	0,7852
<b>0,8</b>	0,7881	0,7910	0,7939	0,7967	0,7995	0,8023	0,8051	0,8078	0,8106	0,8133
<b>0,9</b>	0,8159	0,8186	0,8212	0,8238	0,8264	0,8289	0,8315	0,8340	0,8365	0,8389
<b>1,0</b>	0,8413	0,8438	0,8461	0,8485	0,8508	0,8531	0,8554	0,8577	0,8599	0,8621
<b>1,1</b>	0,8643	0,8665	0,8686	0,8708	0,8729	0,8749	0,8770	0,8790	0,8810	0,8830
<b>1,2</b>	0,8849	0,8869	0,8888	0,8907	0,8925	0,8944	0,8962	0,8980	0,8997	0,9014
<b>1,3</b>	0,9032	0,9049	0,9066	0,9082	0,9099	0,9115	0,9131	0,9147	0,9162	0,9177
<b>1,4</b>	0,9192	0,9207	0,9222	0,9236	0,9251	0,9265	0,9279	0,9292	0,9306	0,9318
<b>1,5</b>	0,9332	0,9345	0,9357	0,9370	0,9382	0,9394	0,9406	0,9418	0,9429	0,9441
<b>1,6</b>	0,9452	0,9463	0,9474	0,9484	0,9495	0,9505	0,9515	0,9525	0,9535	0,9545
<b>1,7</b>	0,9554	0,9564	0,9573	0,9582	0,9591	0,9599	0,9608	0,9616	0,9625	0,9633
<b>1,8</b>	0,9641	0,9649	0,9656	0,9664	0,9671	0,9678	0,9686	0,9693	0,9699	0,9706
<b>1,9</b>	0,9713	0,9719	0,9726	0,9732	0,9738	0,9744	0,9750	0,9756	0,9761	0,9767
<b>2,0</b>	0,9772	0,9778	0,9783	0,9788	0,9793	0,9798	0,9803	0,9808	0,9812	0,9817
<b>2,1</b>	0,9821	0,9826	0,9830	0,9834	0,9838	0,9842	0,9846	0,9850	0,9854	0,9857
<b>2,2</b>	0,9861	0,9864	0,9868	0,9871	0,9875	0,9878	0,9881	0,9884	0,9887	0,9890
<b>2,3</b>	0,9893	0,9896	0,9898	0,9901	0,9904	0,9906	0,9909	0,9911	0,9913	0,9916
<b>2,4</b>	0,9918	0,9920	0,9922	0,9925	0,9927	0,9929	0,9931	0,9932	0,9934	0,9936
<b>2,5</b>	0,9938	0,9940	0,9941	0,9943	0,9945	0,9946	0,9948	0,9949	0,9951	0,9952
<b>2,6</b>	0,9953	0,9955	0,9956	0,9957	0,9959	0,9960	0,9961	0,9962	0,9963	0,9964
<b>2,7</b>	0,9965	0,9966	0,9967	0,9968	0,9969	0,9970	0,9971	0,9972	0,9973	0,9974
<b>2,8</b>	0,9974	0,9975	0,9976	0,9977	0,9977	0,9978	0,9979	0,9979	0,9980	0,9981
<b>2,9</b>	0,9981	0,9982	0,9982	0,9983	0,9984	0,9984	0,9985	0,9985	0,9986	0,9986
<b>3,0</b>	0,9987	0,9987	0,9987	0,9988	0,9988	0,9989	0,9989	0,9989	0,9990	0,9990
<b>3,1</b>	0,9990	0,9991	0,9991	0,9991	0,9992	0,9992	0,9992	0,9992	0,9993	0,9993
<b>3,2</b>	0,9993	0,9993	0,9994	0,9994	0,9994	0,9994	0,9994	0,9995	0,9995	0,9995
<b>3,3</b>	0,9995	0,9995	0,9995	0,9996	0,9996	0,9996	0,9996	0,9996	0,9996	0,9997
<b>3,4</b>	0,9997	0,9997	0,9997	0,9997	0,9997	0,9997	0,9997	0,9997	0,9997	0,9998
<b>3,5</b>	0,9997	0,9997	0,9998	0,9998	0,9998	0,9998	0,9998	0,9998	0,9998	0,9998
<b>3,6</b>	0,9998	0,9998	0,9999	0,9999	0,9999	0,9999	0,9999	0,9999	0,9999	0,9999

Distribución Binomial  $p(X = r) = \binom{n}{r} p^r (1-p)^{n-r}$

n	p	0,01	0,05	0,10	0,15	0,20	0,25	0,30	1/3	0,35	0,40	0,45	0,49	0,50
2	0	0,9801	0,9025	0,8100	0,7225	0,6400	0,5625	0,4900	0,4444	0,4225	0,3600	0,3025	0,2601	0,2500
2	1	0,0198	0,0975	0,1900	0,2775	0,3200	0,3750	0,4200	0,4444	0,4550	0,4800	0,4975	0,4998	0,5000
2	2	0,0001	0,0025	0,0100	0,0225	0,0400	0,0625	0,0900	0,1111	0,1225	0,1600	0,2050	0,2401	0,2500
3	0	0,9703	0,8574	0,7290	0,6141	0,5120	0,4219	0,3430	0,2963	0,2746	0,2160	0,1664	0,1327	0,1250
3	1	0,0294	0,1354	0,2430	0,3251	0,3840	0,4219	0,4410	0,4444	0,4436	0,4320	0,4084	0,3823	0,3750
3	2	0,0003	0,0071	0,0270	0,0574	0,0960	0,1406	0,1890	0,2222	0,2389	0,2880	0,3341	0,3674	0,3750
3	3	0,0000	0,0001	0,0010	0,0034	0,0080	0,0156	0,0270	0,0370	0,0429	0,0640	0,0911	0,1176	0,1250
4	0	0,9606	0,8145	0,6561	0,5220	0,4096	0,3164	0,2401	0,1975	0,1785	0,1296	0,0915	0,0677	0,0625
4	1	0,0388	0,1715	0,2916	0,3685	0,4096	0,4219	0,4116	0,3951	0,3845	0,3456	0,2995	0,2600	0,2500
4	2	0,0006	0,0135	0,0486	0,0975	0,1536	0,2109	0,2646	0,2963	0,3105	0,3456	0,3675	0,3747	0,3750
4	3	0,0000	0,0005	0,0036	0,0115	0,0256	0,0469	0,0756	0,0988	0,1115	0,1536	0,2005	0,2400	0,2500
4	4	0,0000	0,0000	0,0001	0,0005	0,0016	0,0039	0,0081	0,0123	0,0150	0,0256	0,0410	0,0576	0,0625
5	0	0,9510	0,7738	0,5905	0,4437	0,3277	0,2373	0,1681	0,1317	0,1160	0,0778	0,0503	0,0345	0,0313
5	1	0,0480	0,2036	0,3281	0,3915	0,4096	0,3955	0,3602	0,3292	0,3124	0,2592	0,2059	0,1657	0,1563
5	2	0,0010	0,0214	0,0729	0,1382	0,2048	0,2637	0,3087	0,3292	0,3364	0,3456	0,3369	0,3185	0,3125
5	3	0,0000	0,0011	0,0081	0,0244	0,0512	0,0879	0,1323	0,1646	0,1811	0,2304	0,2757	0,3060	0,3125
5	4	0,0000	0,0000	0,0005	0,0022	0,0064	0,0146	0,0284	0,0412	0,0488	0,0768	0,1128	0,1470	0,1563
5	5	0,0000	0,0000	0,0000	0,0001	0,0003	0,0010	0,0024	0,0041	0,0053	0,0102	0,0185	0,0282	0,0313
6	0	0,9415	0,7351	0,5314	0,3771	0,2621	0,1780	0,1176	0,0878	0,0754	0,0467	0,0277	0,0176	0,0156
6	1	0,0571	0,2321	0,3543	0,3993	0,3932	0,3560	0,3025	0,2634	0,2437	0,1866	0,1359	0,1014	0,0938
6	2	0,0014	0,0305	0,0984	0,1762	0,2458	0,2966	0,3241	0,3292	0,3280	0,3110	0,2780	0,2436	0,2344
6	3	0,0000	0,0021	0,0146	0,0415	0,0819	0,1318	0,1852	0,2195	0,2355	0,2765	0,3032	0,3121	0,3125
6	4	0,0000	0,0001	0,0012	0,0055	0,0154	0,0330	0,0595	0,0823	0,0951	0,1382	0,1861	0,2249	0,2344
6	5	0,0000	0,0000	0,0001	0,0004	0,0015	0,0044	0,0102	0,0165	0,0205	0,0369	0,0609	0,0864	0,0938
6	6	0,0000	0,0000	0,0000	0,0000	0,0001	0,0002	0,0007	0,0014	0,0018	0,0041	0,0083	0,0138	0,0156
7	0	0,9321	0,6983	0,4783	0,3206	0,2097	0,1335	0,0824	0,0585	0,0490	0,0280	0,0152	0,0090	0,0078
7	1	0,0659	0,2573	0,3720	0,3960	0,3670	0,3115	0,2471	0,2048	0,1848	0,1306	0,0872	0,0604	0,0547
7	2	0,0020	0,0406	0,1240	0,2097	0,2753	0,3115	0,3177	0,3073	0,2985	0,2613	0,2140	0,1740	0,1641
7	3	0,0000	0,0036	0,0230	0,0617	0,1147	0,1730	0,2269	0,2561	0,2679	0,2903	0,2918	0,2786	0,2734
7	4	0,0000	0,0002	0,0026	0,0109	0,0287	0,0577	0,0972	0,1280	0,1442	0,1935	0,2388	0,2676	0,2734
7	5	0,0000	0,0000	0,0002	0,0012	0,0043	0,0115	0,0250	0,0384	0,0466	0,0774	0,1172	0,1543	0,1641
7	6	0,0000	0,0000	0,0000	0,0001	0,0004	0,0013	0,0036	0,0064	0,0084	0,0172	0,0320	0,0494	0,0547
7	7	0,0000	0,0000	0,0000	0,0000	0,0000	0,0001	0,0002	0,0005	0,0006	0,0016	0,0037	0,0068	0,0078
8	0	0,9227	0,6634	0,4305	0,2725	0,1678	0,1001	0,0576	0,0390	0,0319	0,0168	0,0084	0,0046	0,0039
8	1	0,0746	0,2793	0,3826	0,3847	0,3355	0,2670	0,1977	0,1561	0,1373	0,0896	0,0548	0,0352	0,0313
8	2	0,0026	0,0515	0,1488	0,2376	0,2936	0,3115	0,2965	0,2731	0,2587	0,2090	0,1569	0,1183	0,1094
8	3	0,0001	0,0054	0,0331	0,0839	0,1468	0,2076	0,2541	0,2731	0,2786	0,2787	0,2568	0,2273	0,2188
8	4	0,0000	0,0004	0,0046	0,0185	0,0459	0,0865	0,1361	0,1707	0,1875	0,2322	0,2627	0,2730	0,2734
8	5	0,0000	0,0000	0,0004	0,0026	0,0092	0,0231	0,0467	0,0683	0,0808	0,1239	0,1719	0,2098	0,2188
8	6	0,0000	0,0000	0,0000	0,0002	0,0011	0,0038	0,0100	0,0171	0,0217	0,0413	0,0703	0,1008	0,1094
8	7	0,0000	0,0000	0,0000	0,0000	0,0001	0,0004	0,0012	0,0024	0,0033	0,0079	0,0164	0,0277	0,0313
8	8	0,0000	0,0000	0,0000	0,0000	0,0000	0,0000	0,0001	0,0002	0,0002	0,0007	0,0017	0,0033	0,0039
9	0	0,9135	0,6302	0,3874	0,2316	0,1342	0,0751	0,0404	0,0260	0,0207	0,0101	0,0046	0,0023	0,0020
9	1	0,0830	0,2985	0,3874	0,3679	0,3020	0,2253	0,1556	0,1171	0,1004	0,0605	0,0339	0,0202	0,0176
9	2	0,0034	0,0629	0,172										

	<p align="center"><b>Pruebas de Acceso a enseñanzas universitarias oficiales de grado</b> Castilla y León</p>	<p align="center"><b>MATEMÁTICAS APLICADAS A LAS CIENCIAS SOCIALES</b></p>	<p align="center"><b>EJERCICIO</b>  Nº Páginas: 2 Tablas</p>
---	---	--	--

**OPTATIVIDAD:** EL ALUMNO DEBERÁ ESCOGER UNA DE LAS DOS OPCIONES Y DESARROLLAR LAS PREGUNTAS DE LA MISMA.

**CRITERIOS GENERALES DE EVALUACIÓN:**

Cada pregunta de la 1 a la 3 se puntuará sobre un máximo de 3 puntos. La pregunta 4 se puntuará sobre un máximo de 1 punto. La calificación final se obtiene sumando las puntuaciones de las cuatro preguntas. Deben figurar explícitamente las operaciones no triviales, de modo que puedan reconstruirse la argumentación lógica y los cálculos efectuados por el alumno.

**Opción A**

**1A-** Se considera el sistema de ecuaciones:

$$\begin{cases} x + y - z = 25 \\ 2x - y + 10z = 50 \\ 3x + a y - 4z = 10 \end{cases}$$

- a) Clasifica este sistema en función de sus posibles soluciones para los distintos valores del parámetro  $a$ .
- b) Resuelve el sistema para  $a = 0$ .

**2A-** Una persona amante de las matemáticas desea donar sus 3600 libros a dos bibliotecas A y B. En las instrucciones de donación, deja fijado que los lotes de libros se hagan de modo que el producto del número de libros destinados a la biblioteca A por el cubo del número de libros destinados a la biblioteca B sea máximo. Determina la cantidad de libros recibida por cada biblioteca.

**3A-** Los pesos de los sacos de leña que se venden en una gasolinera siguen una distribución normal con desviación típica 1 kg. Se quiere comprobar con una confianza del 95% que el peso de 10 kg que marca la etiqueta de cada saco es correcto. Para ello se toman al azar 100 sacos de leña, resultando un peso medio de 9.75 kg.

- a) Plantea un test de hipótesis adecuado que permita hacer la comprobación requerida.
- b) Proporciona un intervalo de confianza al 90% para el peso medio de los sacos.

**4A-** En una clase de inglés hay 7 mujeres y 12 hombres. Si se seleccionan 3 personas al azar, halla la probabilidad de que se seleccionen 2 mujeres y un hombre.

## Opción B

**1B-** Un trabajador autónomo se dedica a pintar edificios 300 días al año durante 8 horas cada día. Para organizarse mejor, adquiere al comienzo del año los dos tipos de pintura blanca que emplea: A y B. Cada tipo de pintura requiere un trabajo diferente: la pintura A necesita 6 horas de trabajo por kilo, mientras que la pintura B necesita 3 horas de trabajo por kilo. Además, el tamaño del envase es diferente, por lo que en su almacén caben como máximo 350 kilos de pintura tipo A y 500 kilos de pintura tipo B. Sabiendo que por cada kilo de pintura de tipo A obtiene un beneficio de 70 € y que por cada kilo de pintura de tipo B obtiene un beneficio de 80 €, utiliza técnicas de programación lineal para determinar cuánta pintura de cada tipo debe comprar al comienzo del año para maximizar su beneficio.

**2B-** Sea la función  $f(x) = \begin{cases} ax + 3 + \frac{x}{x-2} & \text{si } x \neq 2 \\ 0 & \text{si } x = 2 \end{cases}$

- a) Halla el valor de  $a$  para el que la pendiente  $m$  de la recta tangente a la gráfica de  $f(x)$  en el punto  $(0,3)$  es  $m = 1$ .
- b) Para  $a = 1$ , estudia la continuidad de la función  $f(x)$  y determina sus intervalos de crecimiento y decrecimiento.

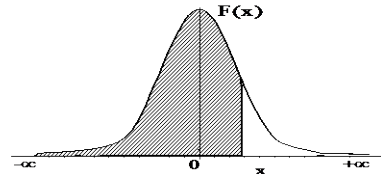
**3B-** El 70% de las compras de un supermercado las realizan mujeres. El 80% de las compras realizadas por éstas supera los 20 € mientras que sólo el 30% de las realizadas por hombres supera esa cantidad.

- a) Elegido un ticket de compra al azar, ¿cuál es la probabilidad de que supere los 20 €?
- b) Si se sabe que un ticket de compra no supera los 20 €, ¿cuál es la probabilidad de que la compra la hiciera una mujer?

**4B-** Sea  $X$  una variable aleatoria que sigue una distribución normal  $N(50,10)$ . Calcula la probabilidad  $P(X \geq 80)$ .

### Distribución Normal


$$F(x) = \frac{1}{\sqrt{2\pi}} \int_{-\infty}^x e^{-\frac{1}{2}t^2} dt$$



	0,00	0,01	0,02	0,03	0,04	0,05	0,06	0,07	0,08	0,09
<b>0,0</b>	0,5000	0,5040	0,5080	0,5120	0,5160	0,5199	0,5239	0,5279	0,5319	0,5359
<b>0,1</b>	0,5398	0,5438	0,5478	0,5517	0,5557	0,5596	0,5636	0,5675	0,5714	0,5753
<b>0,2</b>	0,5793	0,5832	0,5871	0,5910	0,5948	0,5987	0,6026	0,6064	0,6103	0,6141
<b>0,3</b>	0,6179	0,6217	0,6255	0,6293	0,6331	0,6368	0,6406	0,6443	0,6480	0,6517
<b>0,4</b>	0,6554	0,6591	0,6628	0,6664	0,6700	0,6736	0,6772	0,6808	0,6844	0,6879
<b>0,5</b>	0,6915	0,6950	0,6985	0,7019	0,7054	0,7088	0,7123	0,7157	0,7190	0,7224
<b>0,6</b>	0,7257	0,7291	0,7324	0,7357	0,7389	0,7422	0,7454	0,7486	0,7517	0,7549
<b>0,7</b>	0,7580	0,7611	0,7642	0,7673	0,7704	0,7734	0,7764	0,7794	0,7823	0,7852
<b>0,8</b>	0,7881	0,7910	0,7939	0,7967	0,7995	0,8023	0,8051	0,8078	0,8106	0,8133
<b>0,9</b>	0,8159	0,8186	0,8212	0,8238	0,8264	0,8289	0,8315	0,8340	0,8365	0,8389
<b>1,0</b>	0,8413	0,8438	0,8461	0,8485	0,8508	0,8531	0,8554	0,8577	0,8599	0,8621
<b>1,1</b>	0,8643	0,8665	0,8686	0,8708	0,8729	0,8749	0,8770	0,8790	0,8810	0,8830
<b>1,2</b>	0,8849	0,8869	0,8888	0,8907	0,8925	0,8944	0,8962	0,8980	0,8997	0,9014
<b>1,3</b>	0,9032	0,9049	0,9066	0,9082	0,9099	0,9115	0,9131	0,9147	0,9162	0,9177
<b>1,4</b>	0,9192	0,9207	0,9222	0,9236	0,9251	0,9265	0,9279	0,9292	0,9306	0,9318
<b>1,5</b>	0,9332	0,9345	0,9357	0,9370	0,9382	0,9394	0,9406	0,9418	0,9429	0,9441
<b>1,6</b>	0,9452	0,9463	0,9474	0,9484	0,9495	0,9505	0,9515	0,9525	0,9535	0,9545
<b>1,7</b>	0,9554	0,9564	0,9573	0,9582	0,9591	0,9599	0,9608	0,9616	0,9625	0,9633
<b>1,8</b>	0,9641	0,9649	0,9656	0,9664	0,9671	0,9678	0,9686	0,9693	0,9699	0,9706
<b>1,9</b>	0,9713	0,9719	0,9726	0,9732	0,9738	0,9744	0,9750	0,9756	0,9761	0,9767
<b>2,0</b>	0,9772	0,9778	0,9783	0,9788	0,9793	0,9798	0,9803	0,9808	0,9812	0,9817
<b>2,1</b>	0,9821	0,9826	0,9830	0,9834	0,9838	0,9842	0,9846	0,9850	0,9854	0,9857
<b>2,2</b>	0,9861	0,9864	0,9868	0,9871	0,9875	0,9878	0,9881	0,9884	0,9887	0,9890
<b>2,3</b>	0,9893	0,9896	0,9898	0,9901	0,9904	0,9906	0,9909	0,9911	0,9913	0,9916
<b>2,4</b>	0,9918	0,9920	0,9922	0,9925	0,9927	0,9929	0,9931	0,9932	0,9934	0,9936
<b>2,5</b>	0,9938	0,9940	0,9941	0,9943	0,9945	0,9946	0,9948	0,9949	0,9951	0,9952
<b>2,6</b>	0,9953	0,9955	0,9956	0,9957	0,9959	0,9960	0,9961	0,9962	0,9963	0,9964
<b>2,7</b>	0,9965	0,9966	0,9967	0,9968	0,9969	0,9970	0,9971	0,9972	0,9973	0,9974
<b>2,8</b>	0,9974	0,9975	0,9976	0,9977	0,9977	0,9978	0,9979	0,9979	0,9980	0,9981
<b>2,9</b>	0,9981	0,9982	0,9982	0,9983	0,9984	0,9984	0,9985	0,9985	0,9986	0,9986
<b>3,0</b>	0,9987	0,9987	0,9987	0,9988	0,9988	0,9989	0,9989	0,9989	0,9990	0,9990
<b>3,1</b>	0,9990	0,9991	0,9991	0,9991	0,9992	0,9992	0,9992	0,9992	0,9993	0,9993
<b>3,2</b>	0,9993	0,9993	0,9994	0,9994	0,9994	0,9994	0,9994	0,9995	0,9995	0,9995
<b>3,3</b>	0,9995	0,9995	0,9995	0,9996	0,9996	0,9996	0,9996	0,9996	0,9996	0,9997
<b>3,4</b>	0,9997	0,9997	0,9997	0,9997	0,9997	0,9997	0,9997	0,9997	0,9997	0,9998
<b>3,5</b>	0,9997	0,9997	0,9998	0,9998	0,9998	0,9998	0,9998	0,9998	0,9998	0,9998
<b>3,6</b>	0,9998	0,9998	0,9999	0,9999	0,9999	0,9999	0,9999	0,9999	0,9999	0,9999

### Distribución Binomial $p(X=r) = \binom{n}{r} p^r (1-p)^{n-r}$

n	p	0,01	0,05	0,10	0,15	0,20	0,25	0,30	1/3	0,35	0,40	0,45	0,49	0,50
2	0	0,9801	0,9025	0,8100	0,7225	0,6400	0,5625	0,4900	0,4444	0,4225	0,3600	0,3025	0,2601	0,2500
2	1	0,0198	0,0975	0,1800	0,2550	0,3200	0,3750	0,4200	0,4444	0,4550	0,4800	0,4950	0,4998	0,5000
2	2	0,0001	0,0025	0,0100	0,0225	0,0400	0,0625	0,0900	0,1111	0,1225	0,1600	0,2025	0,2401	0,2500
3	0	0,9703	0,8574	0,7290	0,6141	0,5120	0,4219	0,3430	0,2963	0,2746	0,2160	0,1664	0,1327	0,1250
3	1	0,0294	0,1354	0,2430	0,3251	0,3840	0,4219	0,4410	0,4444	0,4436	0,4320	0,4084	0,3823	0,3750
3	2	0,0003	0,0071	0,0270	0,0574	0,0960	0,1406	0,1890	0,2222	0,2389	0,2880	0,3341	0,3674	0,3750
3	3	0,0000	0,0001	0,0010	0,0034	0,0080	0,0156	0,0270	0,0370	0,0429	0,0640	0,0911	0,1176	0,1250
4	0	0,9606	0,8145	0,6561	0,5220	0,4096	0,3164	0,2401	0,1975	0,1785	0,1296	0,0915	0,0677	0,0625
4	1	0,0388	0,1715	0,2916	0,3685	0,4096	0,4219	0,4116	0,3951	0,3845	0,3456	0,2995	0,2600	0,2500
4	2	0,0006	0,0135	0,0486	0,0975	0,1536	0,2109	0,2646	0,2963	0,3105	0,3456	0,3675	0,3747	0,3750
4	3	0,0000	0,0005	0,0036	0,0115	0,0256	0,0469	0,0756	0,0988	0,1115	0,1536	0,2005	0,2400	0,2500
4	4	0,0000	0,0000	0,0001	0,0005	0,0016	0,0039	0,0081	0,0123	0,0150	0,0256	0,0410	0,0576	0,0625
5	0	0,9510	0,7738	0,5905	0,4437	0,3277	0,2373	0,1681	0,1317	0,1160	0,0778	0,0503	0,0345	0,0313
5	1	0,0480	0,2036	0,3281	0,3915	0,4096	0,3955	0,3602	0,3292	0,3124	0,2592	0,2059	0,1657	0,1563
5	2	0,0010	0,0214	0,0729	0,1382	0,2048	0,2637	0,3087	0,3292	0,3364	0,3456	0,3369	0,3185	0,3125
5	3	0,0000	0,0011	0,0081	0,0244	0,0512	0,0879	0,1323	0,1646	0,1811	0,2304	0,2757	0,3060	0,3125
5	4	0,0000	0,0000	0,0005	0,0022	0,0064	0,0146	0,0284	0,0412	0,0488	0,0768	0,1128	0,1470	0,1563
5	5	0,0000	0,0000	0,0000	0,0001	0,0003	0,0010	0,0024	0,0041	0,0053	0,0102	0,0185	0,0282	0,0313
6	0	0,9415	0,7351	0,5314	0,3771	0,2621	0,1780	0,1176	0,0878	0,0754	0,0467	0,0277	0,0176	0,0156
6	1	0,0571	0,2321	0,3543	0,3993	0,3932	0,3560	0,3025	0,2634	0,2437	0,1866	0,1359	0,1014	0,0938
6	2	0,0014	0,0305	0,0984	0,1762	0,2458	0,2966	0,3241	0,3292	0,3280	0,3110	0,2780	0,2436	0,2344
6	3	0,0000	0,0021	0,0146	0,0415	0,0819	0,1318	0,1852	0,2195	0,2355	0,2765	0,3032	0,3121	0,3125
6	4	0,0000	0,0001	0,0012	0,0055	0,0154	0,0330	0,0595	0,0823	0,0951	0,1382	0,1861	0,2249	0,2344
6	5	0,0000	0,0000	0,0001	0,0004	0,0015	0,0044	0,0102	0,0165	0,0205	0,0369	0,0609	0,0864	0,0938
6	6	0,0000	0,0000	0,0000	0,0000	0,0001	0,0002	0,0007	0,0014	0,0018	0,0041	0,0083	0,0138	0,0156
7	0	0,9321	0,6983	0,4783	0,3206	0,2097	0,1335	0,0824	0,0585	0,0490	0,0280	0,0152	0,0090	0,0078
7	1	0,0659	0,2573	0,3720	0,3960	0,3670	0,3115	0,2471	0,2048	0,1848	0,1306	0,0872	0,0604	0,0547
7	2	0,0020	0,0406	0,1240	0,2097	0,2753	0,3115	0,3177	0,3073	0,2985	0,2613	0,2140	0,1740	0,1641
7	3	0,0000	0,0036	0,0230	0,0617	0,1147	0,1730	0,2269	0,2561	0,2679	0,2903	0,2918	0,2786	0,2734
7	4	0,0000	0,0002	0,0026	0,0109	0,0287	0,0577	0,0972	0,1280	0,1442	0,1935	0,2388	0,2676	0,2734
7	5	0,0000	0,0000	0,0002	0,0012	0,0043	0,0115	0,0250	0,0384	0,0466	0,0774	0,1172	0,1543	0,1641
7	6	0,0000	0,0000	0,0000	0,0001	0,0004	0,0013	0,0036	0,0064	0,0084	0,0172	0,0320	0,0494	0,0547
7	7	0,0000	0,0000	0,0000	0,0000	0,0000	0,0001	0,0002	0,0005	0,0006	0,0016	0,0037	0,0068	0,0078
8	0	0,9227	0,6634	0,4305	0,2725	0,1678	0,1001	0,0576	0,0390	0,0319	0,0168	0,0084	0,0046	0,0039
8	1	0,0746	0,2793	0,3826	0,3847	0,3355	0,2670	0,1977	0,1561	0,1373	0,0896	0,0548	0,0352	0,0313
8	2	0,0026	0,0515	0,1488	0,2376	0,2936	0,3115	0,2965	0,2731	0,2587	0,2090	0,1569	0,1183	0,1094
8	3	0,0001	0,0054	0,0331	0,0839	0,1468	0,2076	0,2541	0,2731	0,2786	0,2787	0,2568	0,2273	0,2188
8	4	0,0000	0,0004	0,0046	0,0185	0,0459	0,0865	0,1361	0,1707	0,1875	0,2322	0,2627	0,2730	0,2734
8	5	0,0000	0,0000	0,0004	0,0026	0,0092	0,0231	0,0467	0,0683	0,0808	0,1239	0,1719	0,2098	0,2188
8	6	0,0000	0,0000	0,0000	0,0002	0,0011	0,0038	0,0100	0,0171	0,0217	0,0413	0,0703	0,1008	0,1094
8	7	0,0000	0,0000	0,0000	0,0000	0,0001	0,0004	0,0012	0,0024	0,0033	0,0079	0,0164	0,0277	0,0313
8	8	0,0000	0,0000	0,0000	0,0000	0,0000	0,0000	0,0001	0,0002	0,0002	0,0007	0,0017	0,0033	0,0039
9	0	0,9135	0,6302	0,3874	0,2316	0,1342	0,0751	0,0404	0,0260	0,0207	0,0101	0,0046	0,0023	0,0020
9	1	0,0830	0,2985	0,3874	0,3679	0,3020	0,2253	0,1556	0,1171	0,1004	0,0605	0,0339	0,0202	

	<p align="center"><b>Pruebas de acceso a enseñanzas universitarias oficiales de grado</b> Castilla y León</p>	<p align="center"><b>MATEMÁTICAS APLICADAS A LAS CIENCIAS SOCIALES</b></p>	<p align="center"><b>EJERCICIO</b>  Nº Páginas: 2</p>
---	---	--	---

**OPTATIVIDAD:** EL ALUMNO DEBERÁ ESCOGER UNA DE LAS DOS OPCIONES Y DESARROLLAR LAS PREGUNTAS DE LA MISMA.

**CRITERIOS GENERALES DE EVALUACIÓN:**

Cada pregunta de la 1 a la 3 se puntuará sobre un máximo de 3 puntos. La pregunta 4 se puntuará sobre un máximo de 1 punto. La calificación final se obtiene sumando las puntuaciones de las cuatro preguntas. Deben figurar explícitamente las operaciones no triviales, de modo que puedan reconstruirse la argumentación lógica y los cálculos.

**Opción A**

**1A-** A una persona le tocan 10000 euros en la lotería de Navidad y le aconsejan que los invierta en dos tipos de acciones de la Bolsa, A y B. Las de tipo A tienen más riesgo pero producen un beneficio anual del 10% del capital invertido en ellas. Las de tipo B son más seguras, pero producen sólo un beneficio del 7% anual del capital invertido en ellas. Tras varias deliberaciones decide invertir como mucho 6000 euros en la compra de acciones de cada tipo. Además, decide invertir en acciones de tipo A al menos la misma cantidad que en acciones de tipo B. Utiliza técnicas de programación lineal para hallar la cantidad que debe invertir en cada tipo de acción para que el beneficio anual sea máximo. ¿Cuál es ese beneficio máximo?

**2A-** Sea la función  $f(x) = \begin{cases} \frac{1}{x} + 1 & \text{si } x < 0 \\ x^3 & \text{si } 0 \leq x < 2 \\ 3x + 2 & \text{si } x \geq 2 \end{cases}$

- a) Estudia la continuidad y la derivabilidad de la función  $f(x)$  en todos sus puntos.
- b) Halla la ecuación de la recta tangente a la curva  $y = f(x)$  en el punto  $x = -1$ .
- c) Representa gráficamente la función  $f(x)$ .

**3A-** El 30% de los habitantes de una localidad son jubilados y el 20% son estudiantes, mientras que el resto ni están jubilados ni son estudiantes. El 80% de los jubilados, así como el 20% de los estudiantes y el 40% del resto de habitantes, son socios del club de fútbol local.

- a) Elegido al azar un habitante de esa localidad, calcula la probabilidad de que sea socio del club de fútbol.
- b) Elegido al azar un socio del club de fútbol, calcula la probabilidad de que sea jubilado.

**4A-** Calcula  $P(A \cup B)$  sabiendo que  $P(A) = 0.4$ ,  $P(B) = 0.5$  y  $P(B/A) = 0.3$ .

## Opción B

**1B-** Dada la matriz:

$$A = \begin{pmatrix} 1 & -1 & 0 \\ 0 & 1 & t \\ 1 & t & 2 \end{pmatrix}$$

- Determina los valores de  $t$  para los que existe la matriz inversa de  $A$ .
- Calcula la matriz inversa para  $t = 2$ .

**2B-** El saldo de una cuenta bancaria en un periodo de 5 años viene dado por la función  $f(t) = -12t^3 + 90t^2 - 144t + 84$ ,  $0 \leq t \leq 5$  siendo  $t$  el tiempo en años.

- Calcula los saldos inicial y final.
- ¿En qué momento el saldo de la cuenta es máximo? ¿Y cuándo es mínimo?
- Analiza si en algún momento el saldo es negativo y determina todos los periodos donde se observa un crecimiento del saldo.

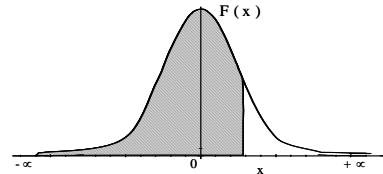
**3B-** Se sabe que el tiempo que una persona dedica a ver la televisión cada día sigue una distribución normal con media  $\mu$  minutos y desviación típica  $\sigma = 20$  minutos. Un estudio desea comprobar si el tiempo medio diario por persona viendo la televisión es de 3 horas. Para ello se entrevista a una muestra representativa de 225 televidentes, resultando un tiempo medio muestral de 188 minutos.

- Plantea un test de hipótesis que permita decidir si el tiempo medio es de 3 horas con una confianza del 95%.
- Proporciona un intervalo de confianza al 99% para el tiempo medio  $\mu$  dedicado a ver la televisión.

**4B-** Tenemos dos llaves de un trastero, cada una en un llavero. Si elegimos una llave al azar de uno de los llaveros, ¿cuál es la probabilidad de que abra el trastero, sabiendo que uno de los llaveros tiene 5 llaves y el otro 7 llaves?

Distribución Normal


$$F(x) = \frac{1}{\sqrt{2\pi}} \int_{-\infty}^x e^{-\frac{1}{2}t^2} dt$$



	0,00	0,01	0,02	0,03	0,04	0,05	0,06	0,07	0,08	0,09
<b>0,0</b>	0,5000	0,5040	0,5080	0,5120	0,5160	0,5199	0,5239	0,5279	0,5319	0,5359
<b>0,1</b>	0,5398	0,5438	0,5478	0,5517	0,5557	0,5596	0,5636	0,5675	0,5714	0,5753
<b>0,2</b>	0,5793	0,5832	0,5871	0,5910	0,5948	0,5987	0,6026	0,6064	0,6103	0,6141
<b>0,3</b>	0,6179	0,6217	0,6255	0,6293	0,6331	0,6368	0,6406	0,6443	0,6480	0,6517
<b>0,4</b>	0,6554	0,6591	0,6628	0,6664	0,6700	0,6736	0,6772	0,6808	0,6844	0,6879
<b>0,5</b>	0,6915	0,6950	0,6985	0,7019	0,7054	0,7088	0,7123	0,7157	0,7190	0,7224
<b>0,6</b>	0,7257	0,7291	0,7324	0,7357	0,7389	0,7422	0,7454	0,7486	0,7517	0,7549
<b>0,7</b>	0,7580	0,7611	0,7642	0,7673	0,7704	0,7734	0,7764	0,7794	0,7823	0,7852
<b>0,8</b>	0,7881	0,7910	0,7939	0,7967	0,7995	0,8023	0,8051	0,8078	0,8106	0,8133
<b>0,9</b>	0,8159	0,8186	0,8212	0,8238	0,8264	0,8289	0,8315	0,8340	0,8365	0,8389
<b>1,0</b>	0,8413	0,8438	0,8461	0,8485	0,8508	0,8531	0,8554	0,8577	0,8599	0,8621
<b>1,1</b>	0,8643	0,8665	0,8686	0,8708	0,8729	0,8749	0,8770	0,8790	0,8810	0,8830
<b>1,2</b>	0,8849	0,8869	0,8888	0,8907	0,8925	0,8944	0,8962	0,8980	0,8997	0,9014
<b>1,3</b>	0,9032	0,9049	0,9066	0,9082	0,9099	0,9115	0,9131	0,9147	0,9162	0,9177
<b>1,4</b>	0,9192	0,9207	0,9222	0,9236	0,9251	0,9265	0,9279	0,9292	0,9306	0,9318
<b>1,5</b>	0,9332	0,9345	0,9357	0,9370	0,9382	0,9394	0,9406	0,9418	0,9429	0,9441
<b>1,6</b>	0,9452	0,9463	0,9474	0,9484	0,9495	0,9505	0,9515	0,9525	0,9535	0,9545
<b>1,7</b>	0,9554	0,9564	0,9573	0,9582	0,9591	0,9599	0,9608	0,9616	0,9625	0,9633
<b>1,8</b>	0,9641	0,9649	0,9656	0,9664	0,9671	0,9678	0,9686	0,9693	0,9699	0,9706
<b>1,9</b>	0,9713	0,9719	0,9726	0,9732	0,9738	0,9744	0,9750	0,9756	0,9761	0,9767
<b>2,0</b>	0,9772	0,9778	0,9783	0,9788	0,9793	0,9798	0,9803	0,9808	0,9812	0,9817
<b>2,1</b>	0,9821	0,9826	0,9830	0,9834	0,9838	0,9842	0,9846	0,9850	0,9854	0,9857
<b>2,2</b>	0,9861	0,9864	0,9868	0,9871	0,9875	0,9878	0,9881	0,9884	0,9887	0,9890
<b>2,3</b>	0,9893	0,9896	0,9898	0,9901	0,9904	0,9906	0,9909	0,9911	0,9913	0,9916
<b>2,4</b>	0,9918	0,9920	0,9922	0,9925	0,9927	0,9929	0,9931	0,9932	0,9934	0,9936
<b>2,5</b>	0,9938	0,9940	0,9941	0,9943	0,9945	0,9946	0,9948	0,9949	0,9951	0,9952
<b>2,6</b>	0,9953	0,9955	0,9956	0,9957	0,9959	0,9960	0,9961	0,9962	0,9963	0,9964
<b>2,7</b>	0,9965	0,9966	0,9967	0,9968	0,9969	0,9970	0,9971	0,9972	0,9973	0,9974
<b>2,8</b>	0,9974	0,9975	0,9976	0,9977	0,9977	0,9978	0,9979	0,9979	0,9980	0,9981
<b>2,9</b>	0,9981	0,9982	0,9982	0,9983	0,9984	0,9984	0,9985	0,9985	0,9986	0,9986
<b>3,0</b>	0,9987	0,9987	0,9987	0,9988	0,9988	0,9989	0,9989	0,9989	0,9990	0,9990
<b>3,1</b>	0,9990	0,9991	0,9991	0,9991	0,9992	0,9992	0,9992	0,9992	0,9993	0,9993
<b>3,2</b>	0,9993	0,9993	0,9994	0,9994	0,9994	0,9994	0,9994	0,9995	0,9995	0,9995
<b>3,3</b>	0,9995	0,9995	0,9995	0,9996	0,9996	0,9996	0,9996	0,9996	0,9996	0,9997
<b>3,4</b>	0,9997	0,9997	0,9997	0,9997	0,9997	0,9997	0,9997	0,9997	0,9997	0,9998
<b>3,5</b>	0,9997	0,9997	0,9998	0,9998	0,9998	0,9998	0,9998	0,9998	0,9998	0,9998
<b>3,6</b>	0,9998	0,9998	0,9999	0,9999	0,9999	0,9999	0,9999	0,9999	0,9999	0,9999

Distribución Binomial  $p(X=r) = \binom{n}{r} p^r (1-p)^{n-r}$

n	p	0,01	0,05	0,10	0,15	0,20	0,25	0,30	1/3	0,35	0,40	0,45	0,49	0,50
2	0	0,9801	0,9025	0,8100	0,7225	0,6400	0,5625	0,4900	0,4444	0,4225	0,3600	0,3025	0,2601	0,2500
1	0	0,0198	0,0975	0,1800	0,2550	0,3200	0,3750	0,4200	0,4444	0,4550	0,4800	0,4950	0,4998	0,5000
2	1	0,0001	0,0025	0,0100	0,0225	0,0400	0,0625	0,0900	0,1111	0,1225	0,1600	0,2025	0,2401	0,2500
3	0	0,9703	0,8574	0,7290	0,6141	0,5120	0,4219	0,3430	0,2963	0,2746	0,2160	0,1664	0,1327	0,1250
1	0	0,0294	0,1354	0,2430	0,3251	0,3840	0,4219	0,4410	0,4444	0,4436	0,4320	0,4084	0,3823	0,3750
2	0	0,0003	0,0071	0,0270	0,0574	0,0960	0,1406	0,1890	0,2222	0,2389	0,2880	0,3341	0,3674	0,3750
3	0	0,0000	0,0001	0,0010	0,0034	0,0080	0,0156	0,0270	0,0370	0,0429	0,0640	0,0911	0,1176	0,1250
4	0	0,9606	0,8145	0,6561	0,5220	0,4096	0,3164	0,2401	0,1975	0,1785	0,1296	0,0915	0,0677	0,0625
1	0	0,0388	0,1715	0,2916	0,3685	0,4096	0,4219	0,4116	0,3951	0,3845	0,3456	0,2995	0,2600	0,2500
2	0	0,0006	0,0135	0,0486	0,0975	0,1536	0,2109	0,2646	0,2963	0,3105	0,3456	0,3675	0,3747	0,3750
3	0	0,0000	0,0005	0,0036	0,0115	0,0256	0,0469	0,0756	0,0988	0,1115	0,1536	0,2005	0,2400	0,2500
4	0	0,0000	0,0000	0,0001	0,0005	0,0016	0,0039	0,0081	0,0123	0,0150	0,0256	0,0410	0,0576	0,0625
5	0	0,9510	0,7738	0,5905	0,4437	0,3277	0,2373	0,1681	0,1317	0,1160	0,0778	0,0503	0,0345	0,0313
1	0	0,0480	0,2036	0,3281	0,3915	0,4096	0,3955	0,3602	0,3292	0,3124	0,2592	0,2059	0,1657	0,1563
2	0	0,0010	0,0214	0,0729	0,1382	0,2048	0,2637	0,3087	0,3292	0,3364	0,3456	0,3369	0,3185	0,3125
3	0	0,0000	0,0011	0,0081	0,0244	0,0512	0,0879	0,1323	0,1646	0,1811	0,2304	0,2757	0,3060	0,3125
4	0	0,0000	0,0000	0,0005	0,0022	0,0064	0,0146	0,0284	0,0412	0,0488	0,0768	0,1128	0,1470	0,1563
5	0	0,0000	0,0000	0,0000	0,0001	0,0003	0,0010	0,0024	0,0041	0,0053	0,0102	0,0185	0,0282	0,0313
6	0	0,9415	0,7351	0,5314	0,3771	0,2621	0,1780	0,1176	0,0878	0,0754	0,0467	0,0277	0,0176	0,0156
1	0	0,0571	0,2321	0,3543	0,3993	0,3932	0,3560	0,3025	0,2634	0,2437	0,1866	0,1359	0,1014	0,0938
2	0	0,0014	0,0305	0,0984	0,1762	0,2458	0,2966	0,3241	0,3292	0,3280	0,3110	0,2780	0,2436	0,2344
3	0	0,0000	0,0021	0,0146	0,0415	0,0819	0,1318	0,1852	0,2195	0,2355	0,2765	0,3032	0,3121	0,3125
4	0	0,0000	0,0001	0,0012	0,0055	0,0154	0,0330	0,0595	0,0823	0,0951	0,1382	0,1861	0,2249	0,2344
5	0	0,0000	0,0000	0,0001	0,0004	0,0015	0,0044	0,0102	0,0165	0,0205	0,0369	0,0609	0,0864	0,0938
6	0	0,0000	0,0000	0,0000	0,0000	0,0001	0,0002	0,0007	0,0014	0,0018	0,0041	0,0083	0,0138	0,0156
7	0	0,9321	0,6983	0,4783	0,3206	0,2097	0,1335	0,0824	0,0585	0,0490	0,0280	0,0152	0,0090	0,0078
1	0	0,0659	0,2573	0,3720	0,3960	0,3670	0,3115	0,2471	0,2048	0,1848	0,1306	0,0872	0,0604	0,0547
2	0	0,0020	0,0406	0,1240	0,2097	0,2753	0,3115	0,3177	0,3073	0,2985	0,2613	0,2140	0,1740	0,1641
3	0	0,0000	0,0036	0,0230	0,0617	0,1147	0,1730	0,2269	0,2561	0,2679	0,2903	0,2918	0,2786	0,2734
4	0	0,0000	0,0002	0,0026	0,0109	0,0287	0,0577	0,0972	0,1280	0,1442	0,1935	0,2388	0,2676	0,2734
5	0	0,0000	0,0000	0,0002	0,0012	0,0043	0,0115	0,0250	0,0384	0,0466	0,0774	0,1172	0,1543	0,1641
6	0	0,0000	0,0000	0,0000	0,0001	0,0004	0,0013	0,0036	0,0064	0,0084	0,0172	0,0320	0,0494	0,0547
7	0	0,0000	0,0000	0,0000	0,0000	0,0000	0,0001	0,0002	0,0005	0,0006	0,0016	0,0037	0,0068	0,0078
8	0	0,9227	0,6634	0,4305	0,2725	0,1678	0,1001	0,0576	0,0390	0,0319	0,0168	0,0084	0,0046	0,0039
1	0	0,0746	0,2793	0,3826	0,3847	0,3355	0,2670	0,1977	0,1561	0,1373	0,0896	0,0548	0,0352	0,0313
2	0	0,0026	0,0515	0,1488	0,2376	0,2936	0,3115	0,2965	0,2731	0,2587	0,2090	0,1569	0,1183	0,1094
3	0	0,0001	0,0054	0,0331	0,0839	0,1468	0,2076	0,2541	0,2731	0,2786	0,2787	0,2568	0,2273	0,2188
4	0	0,0000	0,0004	0,0046	0,0185	0,0459	0,0865	0,1361	0,1707	0,1875	0,2322	0,2627	0,2730	0,2734
5	0	0,0000	0,0000	0,0004	0,0026	0,0092	0,0231	0,0467	0,0683	0,0808	0,1239	0,1719	0,2098	0,2188
6	0	0,0000	0,0000	0,0000	0,0002	0,0011	0,0038	0,0100	0,0171	0,0217	0,0413	0,0703	0,1008	0,1094
7	0	0,0000	0,0000	0,0000	0,0000	0,0001	0,0004	0,0012	0,0024	0,0033	0,0079	0,0164	0,0277	0,0313
8	0	0,0000	0,0000	0,0000	0,0000	0,0000	0,0000	0,0001	0,0002	0,0002	0,0007	0,0017	0,0033	0,0039
9	0	0,9135	0,6302	0,3874	0,2316	0,1342	0,0751	0,0404	0,0260	0,0207	0,0101	0,0046	0,0023	0,0020
1	0	0,0830	0,2985	0,3874	0,3679	0,3020	0,2253	0,1556	0,1171	0,1004	0,0605	0,0339	0,0202	0,0176
2	0													

	<p align="center"><b>Pruebas de acceso a enseñanzas universitarias oficiales de grado</b> Castilla y León</p>	<p align="center"><b>MATEMÁTICAS APLICADAS A LAS CIENCIAS SOCIALES</b></p>	<p align="center"><b>EJERCICIO</b>  Nº Páginas: 2 y tablas</p>
---	---	--	--

**OPTATIVIDAD:** EL ALUMNO DEBERÁ ESCOGER UNA DE LAS DOS OPCIONES Y DESARROLLAR LAS PREGUNTAS DE LA MISMA.

**CRITERIOS GENERALES DE EVALUACIÓN:**

Cada pregunta de la 1 a la 3 se puntuará sobre un máximo de 3 puntos. La pregunta 4 se puntuará sobre un máximo de 1 punto. La calificación final se obtiene sumando las puntuaciones de las cuatro preguntas. Deben figurar explícitamente las operaciones no triviales, de modo que puedan reconstruirse la argumentación lógica y los cálculos.

**Opción A**

**1A-** Calcula todos los valores, si existen, de los parámetros reales  $a$  y  $b$  que hacen que  $AX - XA = 0$ , siendo  $A = \begin{pmatrix} -1 & -2 \\ 3 & 7 \end{pmatrix}$  y  $X = \begin{pmatrix} a & 2 \\ -3 & b \end{pmatrix}$ .

**2A-** El propietario de un cine llena diariamente las 100 butacas de la sala, cobrando 4 euros por cada entrada. El dueño tiene la experiencia de que por cada euro que aumente el precio de la entrada acuden 10 espectadores menos.

- a) Halla la expresión de la función de los ingresos diarios del cine dependiendo del aumento del precio de la entrada.
- b) Determina el precio de la entrada para que los ingresos diarios del propietario sean máximos. ¿Cuántos espectadores acudirán al cine en ese momento? ¿Cuáles serán los ingresos diarios que obtendrá el propietario con ese precio?

**3A-** La temperatura corporal es una variable aleatoria que sigue una distribución normal de media  $36.7$  °C y desviación típica  $3.8$  °C. Se elige aleatoriamente una muestra de 100 personas.

- a) Calcula la probabilidad de que la temperatura corporal media de la muestra sea menor que  $36.9$  °C.
- b) Calcula la probabilidad de que la temperatura corporal media de la muestra esté comprendida entre  $36.5$  °C y  $37.3$  °C.

**4A-** El 60% de los clientes de una panadería compran pan y el 30% no compran ni pan ni bollería. ¿Qué porcentaje de clientes compran bollería y no compran pan?



## Opción B

**1B-** Un heladero artesano elabora dos tipos de helados A y B que vende cada día. Los helados tipo A llevan 1 gramo de nata y los helados tipo B llevan 2 gramos de chocolate. Se dispone de 200 gramos de nata, 400 gramos de chocolate y le da tiempo a elaborar como máximo 350 helados diariamente. Por cada helado tipo A obtiene un beneficio de 1.5 euros y por cada helado tipo B el beneficio es de 1 euro. Utilizando técnicas de programación lineal, determina las unidades de cada tipo de helado que debe elaborar diariamente para que su beneficio sea máximo y calcula dicho beneficio.

**2B-** Dada la función  $f(x) = -x^3 + 1$ .

- Estudia su crecimiento y decrecimiento, y calcula sus puntos de inflexión.
- Determina la ecuación de la recta tangente a  $f(x)$  en  $x = 1$ .
- Representa gráficamente la función  $f(x)$ .

**3B-** En el año 2014, el estudio *B2C-2014 sobre Comercio Electrónico* aseguraba que el 12.5% de los compradores *on-line* fueron nuevos compradores. El importe gastado *on-line* variaba según el tipo de comprador: el 26.8% de los nuevos compradores gastaban menos de 50 euros, mientras que sólo el 12% de los antiguos compradores gastaban menos de esa cantidad. Se elige un comprador *on-line* al azar.

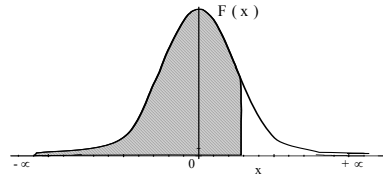
- Calcula la probabilidad de que gastara menos de 50 euros en las compras *on-line*.
- Si el comprador *on-line* gastó menos de 50 euros, ¿cuál es la probabilidad de que fuera nuevo comprador?

**4B-** Calcula el valor de  $P(B)$  sabiendo que los sucesos  $A$  y  $B$  son independientes y que

$$P(A \cup B) = \frac{5}{8}, P(A) = \frac{1}{4}.$$

### Distribución Normal


$$F(x) = \frac{1}{\sqrt{2\pi}} \int_{-\infty}^x e^{-\frac{1}{2}t^2} dt$$



	0,00	0,01	0,02	0,03	0,04	0,05	0,06	0,07	0,08	0,09
<b>0,0</b>	0,5000	0,5040	0,5080	0,5120	0,5160	0,5199	0,5239	0,5279	0,5319	0,5359
<b>0,1</b>	0,5398	0,5438	0,5478	0,5517	0,5557	0,5596	0,5636	0,5675	0,5714	0,5753
<b>0,2</b>	0,5793	0,5832	0,5871	0,5910	0,5948	0,5987	0,6026	0,6064	0,6103	0,6141
<b>0,3</b>	0,6179	0,6217	0,6255	0,6293	0,6331	0,6368	0,6406	0,6443	0,6480	0,6517
<b>0,4</b>	0,6554	0,6591	0,6628	0,6664	0,6700	0,6736	0,6772	0,6808	0,6844	0,6879
<b>0,5</b>	0,6915	0,6950	0,6985	0,7019	0,7054	0,7088	0,7123	0,7157	0,7190	0,7224
<b>0,6</b>	0,7257	0,7291	0,7324	0,7357	0,7389	0,7422	0,7454	0,7486	0,7517	0,7549
<b>0,7</b>	0,7580	0,7611	0,7642	0,7673	0,7704	0,7734	0,7764	0,7794	0,7823	0,7852
<b>0,8</b>	0,7881	0,7910	0,7939	0,7967	0,7995	0,8023	0,8051	0,8078	0,8106	0,8133
<b>0,9</b>	0,8159	0,8186	0,8212	0,8238	0,8264	0,8289	0,8315	0,8340	0,8365	0,8389
<b>1,0</b>	0,8413	0,8438	0,8461	0,8485	0,8508	0,8531	0,8554	0,8577	0,8599	0,8621
<b>1,1</b>	0,8643	0,8665	0,8686	0,8708	0,8729	0,8749	0,8770	0,8790	0,8810	0,8830
<b>1,2</b>	0,8849	0,8869	0,8888	0,8907	0,8925	0,8944	0,8962	0,8980	0,8997	0,9014
<b>1,3</b>	0,9032	0,9049	0,9066	0,9082	0,9099	0,9115	0,9131	0,9147	0,9162	0,9177
<b>1,4</b>	0,9192	0,9207	0,9222	0,9236	0,9251	0,9265	0,9279	0,9292	0,9306	0,9318
<b>1,5</b>	0,9332	0,9345	0,9357	0,9370	0,9382	0,9394	0,9406	0,9418	0,9429	0,9441
<b>1,6</b>	0,9452	0,9463	0,9474	0,9484	0,9495	0,9505	0,9515	0,9525	0,9535	0,9545
<b>1,7</b>	0,9554	0,9564	0,9573	0,9582	0,9591	0,9599	0,9608	0,9616	0,9625	0,9633
<b>1,8</b>	0,9641	0,9649	0,9656	0,9664	0,9671	0,9678	0,9686	0,9693	0,9699	0,9706
<b>1,9</b>	0,9713	0,9719	0,9726	0,9732	0,9738	0,9744	0,9750	0,9756	0,9761	0,9767
<b>2,0</b>	0,9772	0,9778	0,9783	0,9788	0,9793	0,9798	0,9803	0,9808	0,9812	0,9817
<b>2,1</b>	0,9821	0,9826	0,9830	0,9834	0,9838	0,9842	0,9846	0,9850	0,9854	0,9857
<b>2,2</b>	0,9861	0,9864	0,9868	0,9871	0,9875	0,9878	0,9881	0,9884	0,9887	0,9890
<b>2,3</b>	0,9893	0,9896	0,9898	0,9901	0,9904	0,9906	0,9909	0,9911	0,9913	0,9916
<b>2,4</b>	0,9918	0,9920	0,9922	0,9925	0,9927	0,9929	0,9931	0,9932	0,9934	0,9936
<b>2,5</b>	0,9938	0,9940	0,9941	0,9943	0,9945	0,9946	0,9948	0,9949	0,9951	0,9952
<b>2,6</b>	0,9953	0,9955	0,9956	0,9957	0,9959	0,9960	0,9961	0,9962	0,9963	0,9964
<b>2,7</b>	0,9965	0,9966	0,9967	0,9968	0,9969	0,9970	0,9971	0,9972	0,9973	0,9974
<b>2,8</b>	0,9974	0,9975	0,9976	0,9977	0,9977	0,9978	0,9979	0,9979	0,9980	0,9981
<b>2,9</b>	0,9981	0,9982	0,9982	0,9983	0,9984	0,9984	0,9985	0,9985	0,9986	0,9986
<b>3,0</b>	0,9987	0,9987	0,9987	0,9988	0,9988	0,9989	0,9989	0,9989	0,9990	0,9990
<b>3,1</b>	0,9990	0,9991	0,9991	0,9991	0,9992	0,9992	0,9992	0,9992	0,9993	0,9993
<b>3,2</b>	0,9993	0,9993	0,9994	0,9994	0,9994	0,9994	0,9994	0,9995	0,9995	0,9995
<b>3,3</b>	0,9995	0,9995	0,9995	0,9996	0,9996	0,9996	0,9996	0,9996	0,9996	0,9997
<b>3,4</b>	0,9997	0,9997	0,9997	0,9997	0,9997	0,9997	0,9997	0,9997	0,9997	0,9998
<b>3,5</b>	0,9997	0,9997	0,9998	0,9998	0,9998	0,9998	0,9998	0,9998	0,9998	0,9998
<b>3,6</b>	0,9998	0,9998	0,9999	0,9999	0,9999	0,9999	0,9999	0,9999	0,9999	0,9999

### Distribución Binomial $p(X=r) = \binom{n}{r} p^r (1-p)^{n-r}$

n	p	0,01	0,05	0,10	0,15	0,20	0,25	0,30	1/3	0,35	0,40	0,45	0,49	0,50
2	0	0,9801	0,9025	0,8100	0,7225	0,6400	0,5625	0,4900	0,4444	0,4225	0,3600	0,3025	0,2601	0,2500
2	1	0,0198	0,0975	0,1900	0,2775	0,3600	0,4375	0,5100	0,5556	0,5775	0,6400	0,6975	0,7399	0,7500
3	0	0,0001	0,0025	0,0100	0,0225	0,0400	0,0625	0,0900	0,1111	0,1225	0,1600	0,2025	0,2401	0,2500
3	1	0,9703	0,8574	0,7290	0,6141	0,5120	0,4219	0,3430	0,2963	0,2746	0,2160	0,1664	0,1327	0,1250
3	2	0,0294	0,1354	0,2430	0,3251	0,3840	0,4219	0,4410	0,4444	0,4436	0,4320	0,4084	0,3823	0,3750
3	3	0,0003	0,0071	0,0270	0,0574	0,0960	0,1406	0,1890	0,2222	0,2389	0,2880	0,3341	0,3674	0,3750
3	4	0,0000	0,0001	0,0010	0,0034	0,0080	0,0156	0,0270	0,0370	0,0429	0,0640	0,0911	0,1176	0,1250
4	0	0,9606	0,8145	0,6561	0,5220	0,4096	0,3164	0,2401	0,1975	0,1785	0,1296	0,0915	0,0677	0,0625
4	1	0,0388	0,1715	0,2916	0,3685	0,4096	0,4219	0,4116	0,3951	0,3845	0,3456	0,2995	0,2600	0,2500
4	2	0,0006	0,0135	0,0486	0,0975	0,1536	0,2109	0,2646	0,2963	0,3105	0,3456	0,3675	0,3747	0,3750
4	3	0,0000	0,0005	0,0036	0,0115	0,0256	0,0469	0,0756	0,0988	0,1115	0,1536	0,2005	0,2400	0,2500
4	4	0,0000	0,0000	0,0001	0,0005	0,0016	0,0039	0,0081	0,0123	0,0150	0,0256	0,0410	0,0576	0,0625
5	0	0,9510	0,7738	0,5905	0,4437	0,3277	0,2373	0,1681	0,1317	0,1160	0,0778	0,0503	0,0345	0,0313
5	1	0,0480	0,2036	0,3281	0,3915	0,4096	0,3955	0,3602	0,3292	0,3124	0,2592	0,2059	0,1657	0,1563
5	2	0,0010	0,0214	0,0729	0,1382	0,2048	0,2637	0,3087	0,3292	0,3364	0,3456	0,3369	0,3185	0,3125
5	3	0,0000	0,0011	0,0081	0,0244	0,0512	0,0879	0,1323	0,1646	0,1811	0,2304	0,2757	0,3060	0,3125
5	4	0,0000	0,0000	0,0005	0,0022	0,0064	0,0146	0,0284	0,0412	0,0488	0,0768	0,1128	0,1470	0,1563
5	5	0,0000	0,0000	0,0000	0,0001	0,0003	0,0010	0,0024	0,0041	0,0053	0,0102	0,0185	0,0282	0,0313
6	0	0,9415	0,7351	0,5314	0,3771	0,2621	0,1780	0,1176	0,0878	0,0754	0,0467	0,0277	0,0176	0,0156
6	1	0,0571	0,2321	0,3543	0,3993	0,3932	0,3560	0,3025	0,2634	0,2437	0,1866	0,1359	0,1014	0,0938
6	2	0,0014	0,0305	0,0984	0,1762	0,2458	0,2966	0,3241	0,3292	0,3280	0,3110	0,2780	0,2436	0,2344
6	3	0,0000	0,0021	0,0146	0,0415	0,0819	0,1318	0,1852	0,2195	0,2355	0,2765	0,3032	0,3121	0,3125
6	4	0,0000	0,0001	0,0012	0,0055	0,0154	0,0330	0,0595	0,0823	0,0951	0,1382	0,1861	0,2249	0,2344
6	5	0,0000	0,0000	0,0001	0,0004	0,0015	0,0044	0,0102	0,0165	0,0205	0,0369	0,0609	0,0864	0,0938
6	6	0,0000	0,0000	0,0000	0,0000	0,0001	0,0002	0,0007	0,0014	0,0018	0,0041	0,0083	0,0138	0,0156
7	0	0,9321	0,6983	0,4783	0,3206	0,2097	0,1335	0,0824	0,0585	0,0490	0,0280	0,0152	0,0090	0,0078
7	1	0,0659	0,2573	0,3720	0,3960	0,3670	0,3115	0,2471	0,2048	0,1848	0,1306	0,0872	0,0604	0,0547
7	2	0,0020	0,0406	0,1240	0,2097	0,2753	0,3115	0,3177	0,3073	0,2985	0,2613	0,2140	0,1740	0,1641
7	3	0,0000	0,0036	0,0230	0,0617	0,1147	0,1730	0,2269	0,2561	0,2679	0,2903	0,2918	0,2786	0,2734
7	4	0,0000	0,0002	0,0026	0,0109	0,0287	0,0577	0,0972	0,1280	0,1442	0,1935	0,2388	0,2676	0,2734
7	5	0,0000	0,0000	0,0002	0,0012	0,0043	0,0115	0,0250	0,0384	0,0466	0,0774	0,1172	0,1543	0,1641
7	6	0,0000	0,0000	0,0000	0,0001	0,0004	0,0013	0,0036	0,0064	0,0084	0,0172	0,0320	0,0494	0,0547
7	7	0,0000	0,0000	0,0000	0,0000	0,0000	0,0001	0,0002	0,0005	0,0006	0,0016	0,0037	0,0068	0,0078
8	0	0,9227	0,6634	0,4305	0,2725	0,1678	0,1001	0,0576	0,0390	0,0319	0,0168	0,0084	0,0046	0,0039
8	1	0,0746	0,2793	0,3826	0,3847	0,3355	0,2670	0,1977	0,1561	0,1373	0,0896	0,0548	0,0352	0,0313
8	2	0,0026	0,0515	0,1488	0,2376	0,2936	0,3115	0,2965	0,2731	0,2587	0,2090	0,1569	0,1183	0,1094
8	3	0,0001	0,0054	0,0331	0,0839	0,1468	0,2076	0,2541	0,2731	0,2786	0,2787	0,2568	0,2273	0,2188
8	4	0,0000	0,0004	0,0046	0,0185	0,0459	0,0865	0,1361	0,1707	0,1875	0,2322	0,2627	0,2730	0,2734
8	5	0,0000	0,0000	0,0004	0,0026	0,0092	0,0231	0,0467	0,0683	0,0808	0,1239	0,1719	0,2098	0,2188
8	6	0,0000	0,0000	0,0000	0,0002	0,0011	0,0038	0,0100	0,0171	0,0217	0,0413	0,0703	0,1008	0,1094
8	7	0,0000	0,0000	0,0000	0,0000	0,0001	0,0004	0,0012	0,0024	0,0033	0,0079	0,0164	0,0277	0,0313
8	8	0,0000	0,0000	0,0000	0,0000	0,0000	0,0000	0,0001	0,0002	0,0002	0,0007	0,0017	0,0033	0,0039
9	0	0,9135	0,6302	0,3874	0,2316	0,1342	0,0751	0,0404	0,0260	0,0207	0,0101	0,0046	0,0023	0,0020
9	1	0,0830	0,2985	0,3874	0,3679	0,3020	0,2253	0,1556	0,1171	0,1004	0,0605			

	<p align="center"><b>Pruebas de acceso a enseñanzas universitarias oficiales de grado</b> Castilla y León</p>	<p align="center"><b>MATEMÁTICAS APLICADAS A LAS CIENCIAS SOCIALES</b></p>	<p align="center"><b>EXAMEN</b></p> <p align="center">Nº Páginas: 2 y tablas</p>
---	---	--	--

**OPTATIVIDAD:** EL ALUMNO DEBERÁ ESCOGER UNA DE LAS DOS OPCIONES Y DESARROLLAR LAS PREGUNTAS DE LA MISMA.

**CRITERIOS GENERALES DE EVALUACIÓN:**

Cada pregunta de la 1 a la 3 se puntuará sobre un máximo de 3 puntos. La pregunta 4 se puntuará sobre un máximo de 1 punto. La calificación final se obtiene sumando las puntuaciones de las cuatro preguntas. Deben figurar explícitamente las operaciones no triviales, de modo que puedan reconstruirse la argumentación lógica y los cálculos.

**Opción A**

**1A-** Se considera el sistema de ecuaciones lineales, dependiente del parámetro real  $a$  :

$$x + y - z = a$$

$$ax + 2y - z = 3a$$

$$2x + ay - z = 6$$

- a) Clasifica el sistema según su número de soluciones para los distintos valores de  $a$ .
- b) Resuelve el sistema para  $a = 2$ .

**2A-** En una tarjeta de visita rectangular y de  $4500 \text{ mm}^2$  de superficie, la zona destinada a la escritura está delimitada por los márgenes superior, inferior, derecho e izquierdo. Si los márgenes superior e inferior son de 2.5 mm cada uno y los márgenes derecho e izquierdo son de 4.5 mm cada uno, determina las dimensiones de la tarjeta para que la superficie de la zona destinada a la escritura sea máxima.

**3A-** En el curso 2013-14 los resultados de las pruebas de acceso a las Universidades de Castilla y León de dos centros fueron los siguientes: en el primer centro aprobaron el 75% de los 128 alumnos presentados, mientras que en el segundo centro aprobaron el 50% de los 88 alumnos presentados.

- a) Calcula la probabilidad de que, elegido un alumno al azar, haya aprobado las pruebas de acceso.
- b) Calcula la probabilidad de que un alumno suspenso proceda del segundo centro.

**4A-** La nota de un estudiante en un examen de matemáticas sigue una distribución normal cuya desviación típica es  $\sigma = 2.04$  puntos. La nota media de una muestra de 30 estudiantes es 5.5 puntos. Calcula un intervalo de confianza al 95% para la nota media de un estudiante en un examen de matemáticas.

## Opción B

**1B-** Un barco pesquero captura marisco y pescado. La clasificación automatizada de sus capturas, que ha de realizarse como mucho en 2 horas, exige un tiempo de 2 segundos por cada kg de marisco capturado y de 3 segundos por cada kg de pescado capturado. Por razones de conservación, puede capturar como mucho 3000 kg entre marisco y pescado, pero necesita al menos capturar 500 kg de pescado para atender compromisos comerciales. El barco obtiene un beneficio de 3 euros por kg de marisco capturado y de 2 euros por kg de pescado capturado. Utiliza técnicas de programación lineal para calcular la cantidad de marisco y de pescado que el barco ha de capturar para maximizar su beneficio. ¿A cuánto asciende ese beneficio máximo?

**2B-** La función  $f(x)$  dada por:

$$f(x) = \begin{cases} -x^2 + 4x + 8, & 0 < x \leq 3 \\ \frac{18}{x} + 5, & x > 3 \end{cases}$$

expresa el precio de venta (en euros) de una botella de vino en función del tiempo  $x$  (en años) que lleva en el mercado.

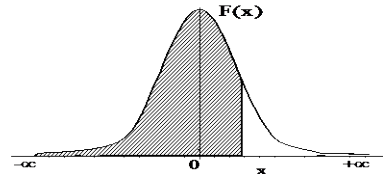
- Representa gráficamente la función  $f(x)$ , estudiando su continuidad y derivabilidad.
- Estudia en qué momento el precio alcanza su valor máximo, así como ese precio máximo.
- Determina el precio de la botella a muy largo plazo.

**3B-** El volumen de madera (en  $m^3$ ) que se obtiene de un chopo de diez años es una variable aleatoria con distribución normal con media  $\mu = 0.443$  y desviación típica  $\sigma = 0.068$ .

- Calcula la probabilidad de que de un chopo de diez años se obtengan más de  $0.5 m^3$  de madera.
- De una chopera con 60 chopos de diez años, ¿cuál es la probabilidad de obtener más de  $26 m^3$  de madera?

**4B-** La clase de los hermanos Laura y Pepe consta de 30 estudiantes. La clase participa en un sorteo de dos entradas para un evento deportivo, de manera que no se permite que un mismo estudiante consiga las dos entradas. Halla la probabilidad de que ambos hermanos consigan las dos entradas sorteadas.


Distribución Normal



	0,00	0,01	0,02	0,03	0,04	0,05	0,06	0,07	0,08	0,09
<b>0,0</b>	0,5000	0,5040	0,5080	0,5120	0,5160	0,5199	0,5239	0,5279	0,5319	0,5359
<b>0,1</b>	0,5398	0,5438	0,5478	0,5517	0,5557	0,5596	0,5636	0,5675	0,5714	0,5753
<b>0,2</b>	0,5793	0,5832	0,5871	0,5910	0,5948	0,5987	0,6026	0,6064	0,6103	0,6141
<b>0,3</b>	0,6179	0,6217	0,6255	0,6293	0,6331	0,6368	0,6406	0,6443	0,6480	0,6517
<b>0,4</b>	0,6554	0,6591	0,6628	0,6664	0,6700	0,6736	0,6772	0,6808	0,6844	0,6879
<b>0,5</b>	0,6915	0,6950	0,6985	0,7019	0,7054	0,7088	0,7123	0,7157	0,7190	0,7224
<b>0,6</b>	0,7257	0,7291	0,7324	0,7357	0,7389	0,7422	0,7454	0,7486	0,7517	0,7549
<b>0,7</b>	0,7580	0,7611	0,7642	0,7673	0,7704	0,7734	0,7764	0,7794	0,7823	0,7852
<b>0,8</b>	0,7881	0,7910	0,7939	0,7967	0,7995	0,8023	0,8051	0,8078	0,8106	0,8133
<b>0,9</b>	0,8159	0,8186	0,8212	0,8238	0,8264	0,8289	0,8315	0,8340	0,8365	0,8389
<b>1,0</b>	0,8413	0,8438	0,8461	0,8485	0,8508	0,8531	0,8554	0,8577	0,8599	0,8621
<b>1,1</b>	0,8643	0,8665	0,8686	0,8708	0,8729	0,8749	0,8770	0,8790	0,8810	0,8830
<b>1,2</b>	0,8849	0,8869	0,8888	0,8907	0,8925	0,8944	0,8962	0,8980	0,8997	0,9014
<b>1,3</b>	0,9032	0,9049	0,9066	0,9082	0,9099	0,9115	0,9131	0,9147	0,9162	0,9177
<b>1,4</b>	0,9192	0,9207	0,9222	0,9236	0,9251	0,9265	0,9279	0,9292	0,9306	0,9318
<b>1,5</b>	0,9332	0,9345	0,9357	0,9370	0,9382	0,9394	0,9406	0,9418	0,9429	0,9441
<b>1,6</b>	0,9452	0,9463	0,9474	0,9484	0,9495	0,9505	0,9515	0,9525	0,9535	0,9545
<b>1,7</b>	0,9554	0,9564	0,9573	0,9582	0,9591	0,9599	0,9608	0,9616	0,9625	0,9633
<b>1,8</b>	0,9641	0,9649	0,9656	0,9664	0,9671	0,9678	0,9686	0,9693	0,9699	0,9706
<b>1,9</b>	0,9713	0,9719	0,9726	0,9732	0,9738	0,9744	0,9750	0,9756	0,9761	0,9767
<b>2,0</b>	0,9772	0,9778	0,9783	0,9788	0,9793	0,9798	0,9803	0,9808	0,9812	0,9817
<b>2,1</b>	0,9821	0,9826	0,9830	0,9834	0,9838	0,9842	0,9846	0,9850	0,9854	0,9857
<b>2,2</b>	0,9861	0,9864	0,9868	0,9871	0,9875	0,9878	0,9881	0,9884	0,9887	0,9890
<b>2,3</b>	0,9893	0,9896	0,9898	0,9901	0,9904	0,9906	0,9909	0,9911	0,9913	0,9916
<b>2,4</b>	0,9918	0,9920	0,9922	0,9925	0,9927	0,9929	0,9931	0,9932	0,9934	0,9936
<b>2,5</b>	0,9938	0,9940	0,9941	0,9943	0,9945	0,9946	0,9948	0,9949	0,9951	0,9952
<b>2,6</b>	0,9953	0,9955	0,9956	0,9957	0,9959	0,9960	0,9961	0,9962	0,9963	0,9964
<b>2,7</b>	0,9965	0,9966	0,9967	0,9968	0,9969	0,9970	0,9971	0,9972	0,9973	0,9974
<b>2,8</b>	0,9974	0,9975	0,9976	0,9977	0,9977	0,9978	0,9979	0,9979	0,9980	0,9981
<b>2,9</b>	0,9981	0,9982	0,9982	0,9983	0,9984	0,9984	0,9985	0,9985	0,9986	0,9986
<b>3,0</b>	0,9987	0,9987	0,9987	0,9988	0,9988	0,9989	0,9989	0,9989	0,9990	0,9990
<b>3,1</b>	0,9990	0,9991	0,9991	0,9991	0,9992	0,9992	0,9992	0,9992	0,9993	0,9993
<b>3,2</b>	0,9993	0,9993	0,9994	0,9994	0,9994	0,9994	0,9994	0,9995	0,9995	0,9995
<b>3,3</b>	0,9995	0,9995	0,9995	0,9996	0,9996	0,9996	0,9996	0,9996	0,9996	0,9997
<b>3,4</b>	0,9997	0,9997	0,9997	0,9997	0,9997	0,9997	0,9997	0,9997	0,9997	0,9998
<b>3,5</b>	0,9997	0,9997	0,9998	0,9998	0,9998	0,9998	0,9998	0,9998	0,9998	0,9998
<b>3,6</b>	0,9998	0,9998	0,9999	0,9999	0,9999	0,9999	0,9999	0,9999	0,9999	0,9999

Distribución Binomial  $p(X = r) = \binom{n}{r} p^r (1-p)^{n-r}$

n	r	0,01	0,05	0,10	0,15	0,20	0,25	0,30	1/3	0,35	0,40	0,45	0,49	0,50
2	0	0,9801	0,9025	0,8100	0,7225	0,6400	0,5625	0,4900	0,4444	0,4225	0,3600	0,3025	0,2601	0,2500
1	0	0,0198	0,0950	0,1800	0,2550	0,3200	0,3750	0,4200	0,4444	0,4550	0,4800	0,4950	0,4998	0,5000
2	0	0,0001	0,0025	0,0100	0,0225	0,0400	0,0625	0,0900	0,1111	0,1225	0,1600	0,2025	0,2401	0,2500
3	0	0,9703	0,8574	0,7290	0,6141	0,5120	0,4219	0,3430	0,2963	0,2746	0,2160	0,1664	0,1327	0,1250
1	0	0,0294	0,1354	0,2430	0,3251	0,3840	0,4219	0,4410	0,4444	0,4436	0,4320	0,4084	0,3823	0,3750
2	0	0,0003	0,0071	0,0270	0,0574	0,0960	0,1406	0,1890	0,2222	0,2389	0,2880	0,3341	0,3674	0,3750
3	0	0,0000	0,0001	0,0010	0,0034	0,0080	0,0156	0,0270	0,0370	0,0429	0,0640	0,0911	0,1176	0,1250
4	0	0,9606	0,8145	0,6561	0,5220	0,4096	0,3164	0,2401	0,1975	0,1785	0,1296	0,0915	0,0677	0,0625
1	0	0,0388	0,1715	0,2916	0,3685	0,4096	0,4219	0,4116	0,3951	0,3845	0,3456	0,2995	0,2600	0,2500
2	0	0,0006	0,0135	0,0486	0,0975	0,1536	0,2109	0,2646	0,2963	0,3105	0,3456	0,3675	0,3747	0,3750
3	0	0,0000	0,0005	0,0036	0,0115	0,0256	0,0469	0,0756	0,0988	0,1115	0,1536	0,2005	0,2400	0,2500
4	0	0,0000	0,0000	0,0001	0,0005	0,0016	0,0039	0,0081	0,0123	0,0150	0,0256	0,0410	0,0576	0,0625
5	0	0,9510	0,7738	0,5905	0,4437	0,3277	0,2373	0,1681	0,1317	0,1160	0,0778	0,0503	0,0345	0,0313
1	0	0,0480	0,2036	0,3281	0,3915	0,4096	0,3955	0,3602	0,3292	0,3124	0,2592	0,2059	0,1657	0,1563
2	0	0,0010	0,0214	0,0729	0,1382	0,2048	0,2637	0,3087	0,3292	0,3364	0,3456	0,3369	0,3185	0,3125
3	0	0,0000	0,0011	0,0081	0,0244	0,0512	0,0879	0,1323	0,1646	0,1811	0,2304	0,2757	0,3060	0,3125
4	0	0,0000	0,0000	0,0005	0,0022	0,0064	0,0146	0,0284	0,0412	0,0488	0,0768	0,1128	0,1470	0,1563
5	0	0,0000	0,0000	0,0000	0,0001	0,0003	0,0010	0,0024	0,0041	0,0053	0,0102	0,0185	0,0282	0,0313
6	0	0,9415	0,7351	0,5314	0,3771	0,2621	0,1780	0,1176	0,0878	0,0754	0,0467	0,0277	0,0176	0,0156
1	0	0,0571	0,2321	0,3543	0,3993	0,3932	0,3560	0,3025	0,2634	0,2437	0,1666	0,1359	0,1014	0,0938
2	0	0,0014	0,0305	0,0984	0,1762	0,2458	0,2966	0,3241	0,3292	0,3280	0,3110	0,2780	0,2436	0,2344
3	0	0,0000	0,0021	0,0146	0,0415	0,0819	0,1318	0,1852	0,2195	0,2355	0,2765	0,3032	0,3121	0,3125
4	0	0,0000	0,0001	0,0012	0,0055	0,0154	0,0330	0,0595	0,0823	0,0951	0,1382	0,1861	0,2249	0,2344
5	0	0,0000	0,0000	0,0001	0,0004	0,0015	0,0044	0,0102	0,0165	0,0205	0,0369	0,0609	0,0864	0,0938
6	0	0,0000	0,0000	0,0000	0,0000	0,0001	0,0002	0,0007	0,0014	0,0018	0,0041	0,0083	0,0138	0,0156
7	0	0,9321	0,6983	0,4783	0,3206	0,2097	0,1335	0,0824	0,0585	0,0490	0,0280	0,0152	0,0090	0,0078
1	0	0,0659	0,2573	0,3720	0,3960	0,3670	0,3115	0,2471	0,2048	0,1848	0,1306	0,0872	0,0604	0,0547
2	0	0,0020	0,0406	0,1240	0,2097	0,2753	0,3115	0,3177	0,3073	0,2985	0,2613	0,2140	0,1740	0,1641
3	0	0,0000	0,0036	0,0230	0,0617	0,1147	0,1730	0,2269	0,2561	0,2679	0,2903	0,2918	0,2786	0,2734
4	0	0,0000	0,0002	0,0026	0,0109	0,0287	0,0577	0,0972	0,1280	0,1442	0,1935	0,2388	0,2676	0,2734
5	0	0,0000	0,0000	0,0002	0,0012	0,0043	0,0115	0,0250	0,0384	0,0466	0,0774	0,1172	0,1543	0,1641
6	0	0,0000	0,0000	0,0000	0,0001	0,0004	0,0013	0,0036	0,0064	0,0084	0,0172	0,0320	0,0494	0,0547
7	0	0,0000	0,0000	0,0000	0,0000	0,0000	0,0001	0,0002	0,0005	0,0006	0,0016	0,0037	0,0068	0,0078
8	0	0,9227	0,6634	0,4305	0,2725	0,1678	0,1001	0,0576	0,0390	0,0319	0,0168	0,0084	0,0046	0,0039
1	0	0,0746	0,2793	0,3826	0,3847	0,3355	0,2670	0,1977	0,1561	0,1373	0,0896	0,0548	0,0352	0,0313
2	0	0,0026	0,0515	0,1488	0,2376	0,2936	0,3115	0,2965	0,2731	0,2587	0,2090	0,1569	0,1183	0,1094
3	0	0,0001	0,0054	0,0331	0,0839	0,1468	0,2076	0,2541	0,2731	0,2786	0,2787	0,2568	0,2273	0,2188
4	0	0,0000	0,0004	0,0046	0,0185	0,0459	0,0865	0,1361	0,1707	0,1875	0,2322	0,2627	0,2730	0,2734
5	0	0,0000	0,0000	0,0004	0,0026	0,0092	0,0231	0,0467	0,0683	0,0808	0,1239	0,1719	0,2098	0,2188
6	0	0,0000	0,0000	0,0000	0,0002	0,0011	0,0038	0,0100	0,0171	0,0217	0,0413	0,0703	0,1008	0,1094
7	0	0,0000	0,0000	0,0000	0,0000	0,0001	0,0004	0,0012	0,0024	0,0033	0,0079	0,0164	0,0277	0,0313
8	0	0,0000	0,0000	0,0000	0,0000	0,0000	0,0000	0,0001	0,0002	0,0002	0,0007	0,0017	0,0033	0,0039
9	0	0,9135	0,6302	0,3874	0,2316	0,1342	0,0751	0,0404	0,0260	0,0207	0,0101	0,0046	0,0023	0,0020
1	0	0,0830	0,2985	0,3874	0,3679	0,3020	0,2253	0,1556	0,1171	0,1004	0,0605	0,0339	0,0202	0,0176
2	0	0,0034	0,0629	0,1722	0,2597	0,3020	0,3003	0,2668	0,2341					

	<p align="center"><b>Evaluación de Bachillerato para Acceder a Estudios Universitarios</b> Castilla y León</p>	<p align="center"><b>MATEMÁTICAS APLICADAS A LAS CIENCIAS SOCIALES</b></p>	<p align="center"><b>EXAMEN</b></p> <p align="center">Nº Páginas: 2 y tabla</p>
---	--	--	---

**OPTATIVIDAD:** EL ALUMNO DEBERÁ ESCOGER UNA DE LAS DOS OPCIONES Y DESARROLLAR LAS PREGUNTAS DE LA MISMA.

### CRITERIOS GENERALES DE EVALUACIÓN

Cada pregunta de la 1 a la 3 se puntuará sobre un máximo de 3 puntos. La pregunta 4 se puntuará sobre un máximo de 1 punto. La calificación final se obtiene sumando las puntuaciones de las cuatro preguntas. Deben figurar explícitamente las operaciones no triviales, de modo que puedan reconstruirse la argumentación lógica y los cálculos. Salvo que se especifique lo contrario, los apartados que figuran en los distintos problemas son equipuntuables.

### Opción A

**1A-** Una conocida cadena de ropa ha rebajado sus precios. Un pantalón, una camisa y un abrigo valían en temporada 360 euros en total. En las primeras rebajas, el pantalón se rebajó un 10% y la camisa un 20%, con lo que un cliente podía llevarse ambas prendas por 137 euros. En las segundas rebajas, y sobre el precio de temporada, el pantalón se rebajó un 20% y el abrigo un 30%, por lo que juntos costaban 212 euros. Calcula el precio de cada prenda en temporada.

**2A-** Se considera la función  $f(x) = \begin{cases} \frac{1}{4-x^2} & 0 < x < 2 \\ 2x & 2 \leq x < 4 \end{cases}$ .

- Estudia razonadamente su continuidad.
- Calcula el área limitada por la función  $f(x)$  y el eje OX en el intervalo  $[2,3]$ .

**3A-** En una asignatura de primer curso de un grado universitario, asisten a clase regularmente 210 alumnos de los 300 alumnos matriculados. Al finalizar el período docente, superan la asignatura el 80% de los alumnos que asisten regularmente a clase y el 50% de los alumnos que no asisten regularmente a clase. Se elige un alumno matriculado al azar.

- Calcula la probabilidad de que haya superado la asignatura y no haya asistido regularmente a clase. (**Hasta 1 punto**)
- Sabiendo que ha superado la asignatura, ¿cuál es la probabilidad de que haya asistido regularmente a clase? (**Hasta 2 puntos**)

**4A-** En un grupo de 8 amigos se encuentran los 3 agraciados con un viaje para visitar Lisboa sorteado por la embajada portuguesa. Si hay 4 amigos que ya han visitado Lisboa, ¿cuál es la probabilidad de que ninguno de los agraciados haya visitado Lisboa?

## Opción B

**1B-** Una empresa dispone de dos talleres para la reparación de motos y coches. El primero de los talleres dispone de 300 horas de trabajo como máximo y necesita 6 horas para reparar cada moto y 5 horas para cada coche. El segundo de los talleres dispone de 200 horas de trabajo como máximo y necesita 2 horas para reparar cada moto y 5 horas para cada coche. El beneficio neto que obtiene la empresa por cada moto reparada es de 1000 € mientras que el beneficio neto que obtiene por cada coche reparado es de 1500 €. Calcula, utilizando técnicas de programación lineal, cuántos coches y motos ha de reparar para obtener el máximo beneficio neto. ¿Cuál es ese beneficio neto máximo?

**2B-** Halla razonadamente dos números reales positivos sabiendo que su suma es 10 y que el producto de sus cuadrados es máximo.

**3B-** Una granja cultiva perlas cuyos diámetros siguen una distribución normal con media  $\mu$  mm y desviación típica  $\sigma = 0.8$  mm. Se quiere comprobar el cumplimiento de las especificaciones exigidas por una joyería en la elaboración de sus collares. Para ello se elige una muestra representativa de 256 perlas, resultando un diámetro medio muestral de 9.92 mm.


a) Calcula el intervalo de confianza para el diámetro medio poblacional de las perlas con un nivel de confianza del 90 %.

b) Calcula el tamaño necesario de la muestra de perlas que permita alcanzar, con un nivel de confianza del 98%, un error máximo de 0.2 mm en la estimación del diámetro medio poblacional de una perla.

**4B-** El 48% de los trabajadores de una empresa son hombres. Si en esa empresa, el 82% de los hombres y el 75% de las mujeres están satisfechos con su trabajo, ¿qué porcentaje de trabajadores está satisfecho con su trabajo en esa empresa?





	<p align="center"><b>Evaluación de Bachillerato para Acceder a Estudios Universitarios</b> Castilla y León</p>	<p align="center"><b>MATEMÁTICAS APLICADAS A LAS CIENCIAS SOCIALES</b></p>	<p align="center"><b>EXAMEN</b>  Nº Páginas: 2 y tabla</p>
---	--	--	--

**OPTATIVIDAD:** EL ALUMNO DEBERÁ ESCOGER UNA DE LAS DOS OPCIONES Y DESARROLLAR LAS PREGUNTAS DE LA MISMA.

### CRITERIOS GENERALES DE EVALUACIÓN

Cada pregunta de la 1 a la 3 se puntuará sobre un máximo de 3 puntos. La pregunta 4 se puntuará sobre un máximo de 1 punto. La calificación final se obtiene sumando las puntuaciones de las cuatro preguntas. Deben figurar explícitamente las operaciones no triviales, de modo que puedan reconstruirse la argumentación lógica y los cálculos. Salvo que se especifique lo contrario, los apartados que figuran en los distintos problemas son equipuntuables.

### Opción A

**1A** - Una empresa de asistencia ha de enviar enfermeros y médicos a una residencia de mayores para cubrir las vacaciones. Por limitación de espacio, sólo pueden acudir cada vez un máximo de 12 profesionales. Además, en cada visita cada enfermero acumula 2 descansos y cada médico acumula 4 descansos. La empresa sólo dispone de 8 médicos y no le interesa generar más de 36 descansos en cada asistencia. Si la empresa obtiene un beneficio neto de 50 euros por cada enfermero y de 80 euros por cada médico que va a la residencia, calcula, utilizando técnicas de programación lineal, cuántos enfermeros y médicos han de acudir cada vez a la residencia para obtener el máximo beneficio neto por parte de la empresa de asistencia. ¿Cuál es ese beneficio neto máximo?

**2A**- Se considera la función  $f(x) = \begin{cases} x^3 + ax + 10 & \text{si } 0 \leq x \leq 5 \\ \frac{100}{x-3} + bx^2 & \text{si } x > 5 \end{cases}$  donde  $a$  y  $b$  son parámetros.

a) Determina los valores de  $a$  y  $b$  para que  $f(x)$  sea continua y tenga un mínimo relativo en  $x = 2$ .

b) Para  $a = 0$ , halla el área limitada por la función  $f(x)$  y el eje OX en el intervalo  $[0,5]$ .

**3A**- Se sabe que el salario mensual de los trabajadores de dos empresas A y B sigue la distribución normal.

a) Si en la empresa A el salario mensual medio es de 1200 euros y su desviación típica es 400 euros, ¿cuál es la probabilidad de que un trabajador cobre más de 1740 euros al mes?

b) Si en la empresa B el 80.23 % de los trabajadores cobra menos de 1570 euros, calcula la desviación típica del salario mensual sabiendo que el salario medio mensual es de 1400 euros.

**4A** - Se sabe que si ha ocurrido A, la probabilidad de que ocurra B es 0.3. Halla la probabilidad de que, si ha ocurrido A no ocurra B.

## Opción B

**1B-** En un hotel se alojaron ayer 25 huéspedes procedentes de tres países, Italia, Portugal y Japón. Su gasto total en el hotel fue de 3610 €, correspondiendo 140 € a cada huésped italiano, 130 € a cada portugués y 160 € a cada japonés. El registro del hotel muestra que el número de portugueses fue la cuarta parte de la suma de los números de huéspedes de los otros dos países. Determina el número de huéspedes de cada uno de los 3 países.

**2B-** Una empresa de aguas realiza un estudio de mercado y descubre que la curva de beneficios mensuales viene dada, en miles de euros, por la función  $B(x) = 10x - x^2 - 21$ , donde  $x$  representa, en euros, el precio de venta de una caja de botellas. Si este producto se vende en cajas de 10 botellas, calcula el precio de venta de una botella para que el beneficio obtenido sea máximo y calcula el importe de ese beneficio.

**3B-** Una corporación informática utiliza 3 bufetes de abogados para resolver sus casos legales en los tribunales. El bufete A recibe el 30% de los casos legales y gana en los tribunales el 60% de los casos presentados, el bufete B recibe el 50% de los casos legales y gana el 80% de los casos presentados, mientras que el bufete C recibe el 20% de los casos legales y gana el 70% de los casos presentados. Se elige al azar uno de los casos presentados en los tribunales.

a) Determina la probabilidad de que la empresa gane el caso.

b) Si el caso elegido se ha ganado, calcula la probabilidad de que haya sido encargado al bufete A.

**4B-** En una clase de yoga hay 7 mujeres y 12 hombres. Si se escoge a tres personas al azar, halla la probabilidad de que se seleccionen dos mujeres y un hombre

